The left side of the slide features three stylized balloons in yellow, light blue, and pink, each with a white ribbon and several yellow triangular streamers. The background is a vertical gradient from light pink at the top to light blue at the bottom.


# **Десятичные дроби. Сложение и вычитание десятичных дробей.**

Выполнила:  
Азмуханова Л.Р

# Путешествие в страну

## Десятичных

2 // e  
Й



**Девиз:**




**«Знания имей  
отличные по теме  
«Дробь  
десятичные»»**

# Разминка

Какой знак можно  
поставить между числами  
4 и 5, чтобы получившееся  
число было больше 4, но  
меньше 5?

$$4 < 4,5 < 5$$



# Городок дробей

Представьте в  
виде десятичной  
дроби:

$$\frac{9}{10};$$

$$\frac{24}{100};$$

$$\frac{3}{1000};$$

$$\frac{92}{10000};$$

$$6\frac{8}{100};$$

$$14\frac{105}{10000}.$$



# Отвeты:

0,9

0,24

0,003


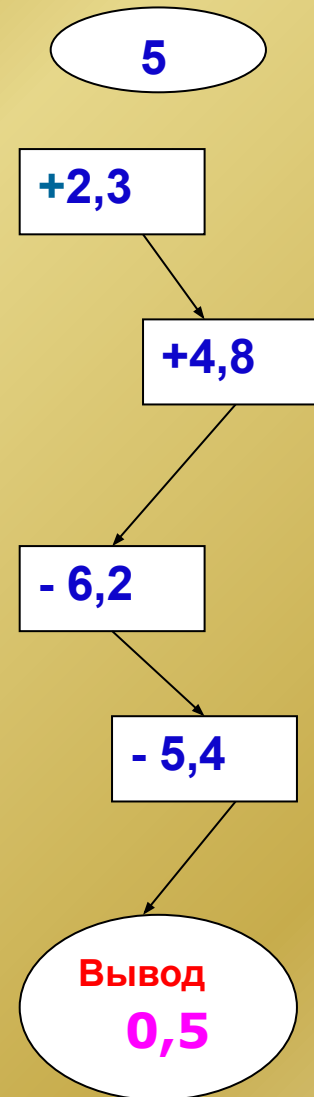
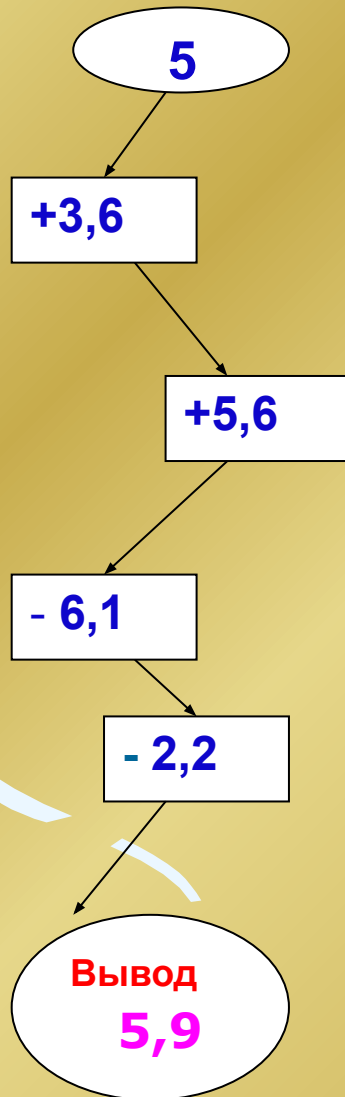
0,0092

6,08

14,0105



# Планета вычислений:





*и*

0,9

*м*

0,4



*о*

1,5

**На земном шаре обитают птицы – безошибочные составители прогноза погоды на лето. Название этих птиц вы прочтете, если расположите эти дроби в порядке возрастания.**

*а*

0,1

*г*

1,36

*ф*

0,012

*н*

0,92

*л*

0,03





*Ф*

*л*

*а*

*м*

*и*

*н*

*г*

*о*

0,012

0,03

0,1

0,4

0,9

0,92

1,36

1,5

**Замените звездочки знаками  $>$   $<$   
так, чтобы получилось верное  
неравенство:**

$$21 * 18,75$$

$$21 > 18,75$$

$$8,006 * 9,001$$

$$8,006 < 9,001$$

$$7,2 * 7,205$$

$$7,2 < 7,205$$

$$4,009 * 3,99$$

$$4,009 > 3,99$$



# Остров задач

Один класс собрал 215,7 кг металлолома, а второй на 5,8 кг больше. Сколько кг металлолома собрали оба класса?

Ответ:

$$215,7 + 5,8 = 221,5 \text{ кг}$$





# Водопад приближений.

- Чтобы благополучно пройти водопад, требуется выполнить такое задание:

1) Округлите до целых:

а)  $3,34 \approx 3$

б)  $4,644 \approx 5$

2) Округлите до десятых :

а)  $5,327 \approx 5,3$

б)  $0,6722 \approx 0,7$

3) Округлите до сотых:

а)  $1,4563 \approx 1,46$

б)  $7,45378 \approx 7,45$

4) Округлить до тысячных:

а)  $0,35825 \approx 0,358$

б)  $3,345924 \approx 3,346$



# Волшебный сад.

Сколько знаков после запятой имеет десятичная дробь, если знаменатель ее обычной записи равен 10, 100, 1000 и т.д.?

Правила сравнения десятичных дробей?

Правило сложения и вычитания десятичных дробей?



**- Молодцы, ребята!  
Путешествие  
окончено.  
Возвращаемся домой.**

