

30.09.1

5

Классная работа

Какая фигура изображена на рисунке *а)*?



а)



б)

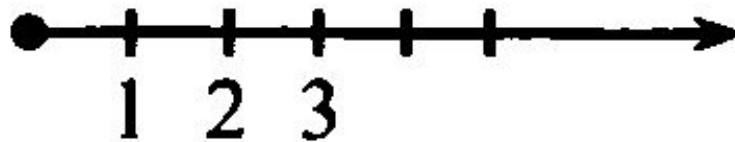
Что появилось на рисунке *б)*?

Что может показывать стрелка?


Какое число может быть ближе к стрелке:
16 или 20?

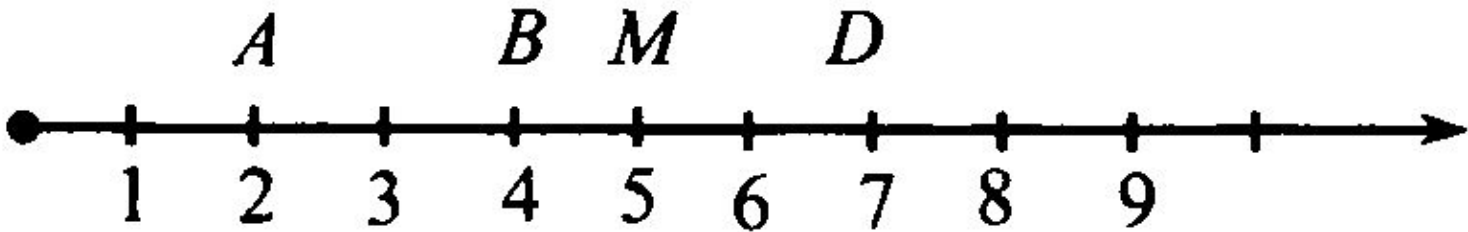
Какое число может быть ближе к началу
луча: 3 или 30?

Что появилось на рисунке *в)*?



в)





Какое число соответствует букве А?

Число, соответствующее
Какая буква соответствует числу 5?

Что можно сказать о букве,
отмеченной букве D?

называется **координатой**
Соответствует ли числу 3 букве B?

A(2)

B(4)

M(5)

D(7)



**Тема
урока:**

**Координатны
й луч**

Определ




Координатный луч – это луч, на котором задано начало отсчета, **единичный отрезок** и показано направление увеличения чисел.



Единичный отрезок – отрезок, принятый за единицу длины

Выполнить



- задания**
- 1) Построить координатный луч с началом в точке O и единичным отрезком 2 клетки
 - 2) Отметить точки $B(3)$, $C(1)$, $K(5)$
 - 3) От точки K на 1 единичный отрезок влево отметить точку N и записать ее координату
 - 4) От точки K на 2 единичных отрезка вправо отметить точку M и записать ее координату



В

№ 118, 119, 121, 123

класс

е

Домашнее

задание

№ 120, 126, 144