




Математическое моделирование




Повторение

Выразите y через x

$$x + y = 2,$$



$$y - 6x = 1,$$



Выразите одну какую – нибудь
переменную через другую

$$x - 2y = 3,$$

$$2x - y = 3,$$

$$3x + y = 5,$$

Решите задачу № 79

	v , км/ч	t , ч	S , км
По течению			
Против течения			

Решите задачу № 81

	v , км/ч	t , ч	S , км
1 поезд			
2 поезд			

Выполните упражнения:

- № 87-89 (в,г)
- № III (в,г)