

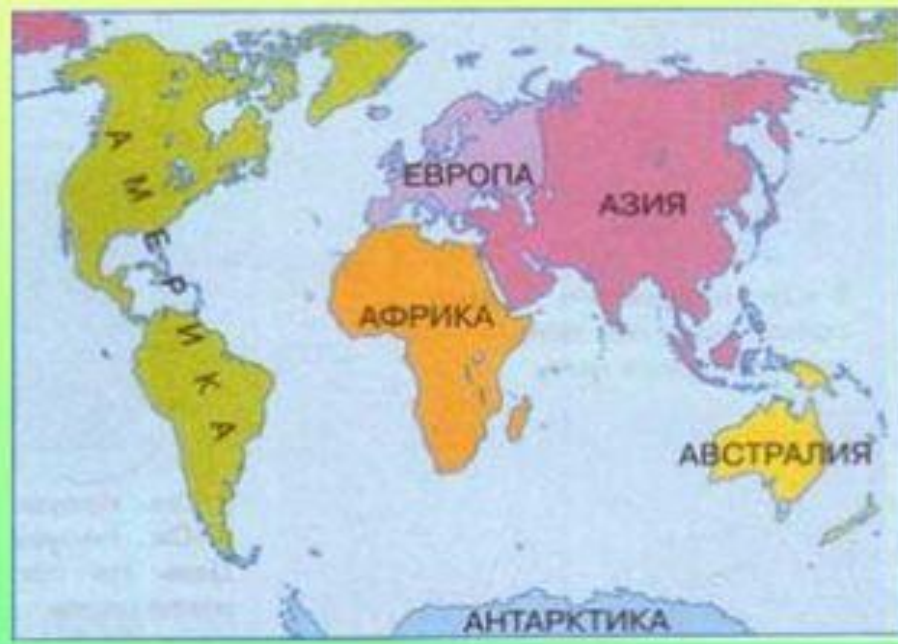
Сопоставьте картосхемы «Материки и части света»:

1. Назовите и покажите на карте материки. Сколько выделяют материков ?
2. Назовите и покажите на карте части света. Сколько выделяют частей света?

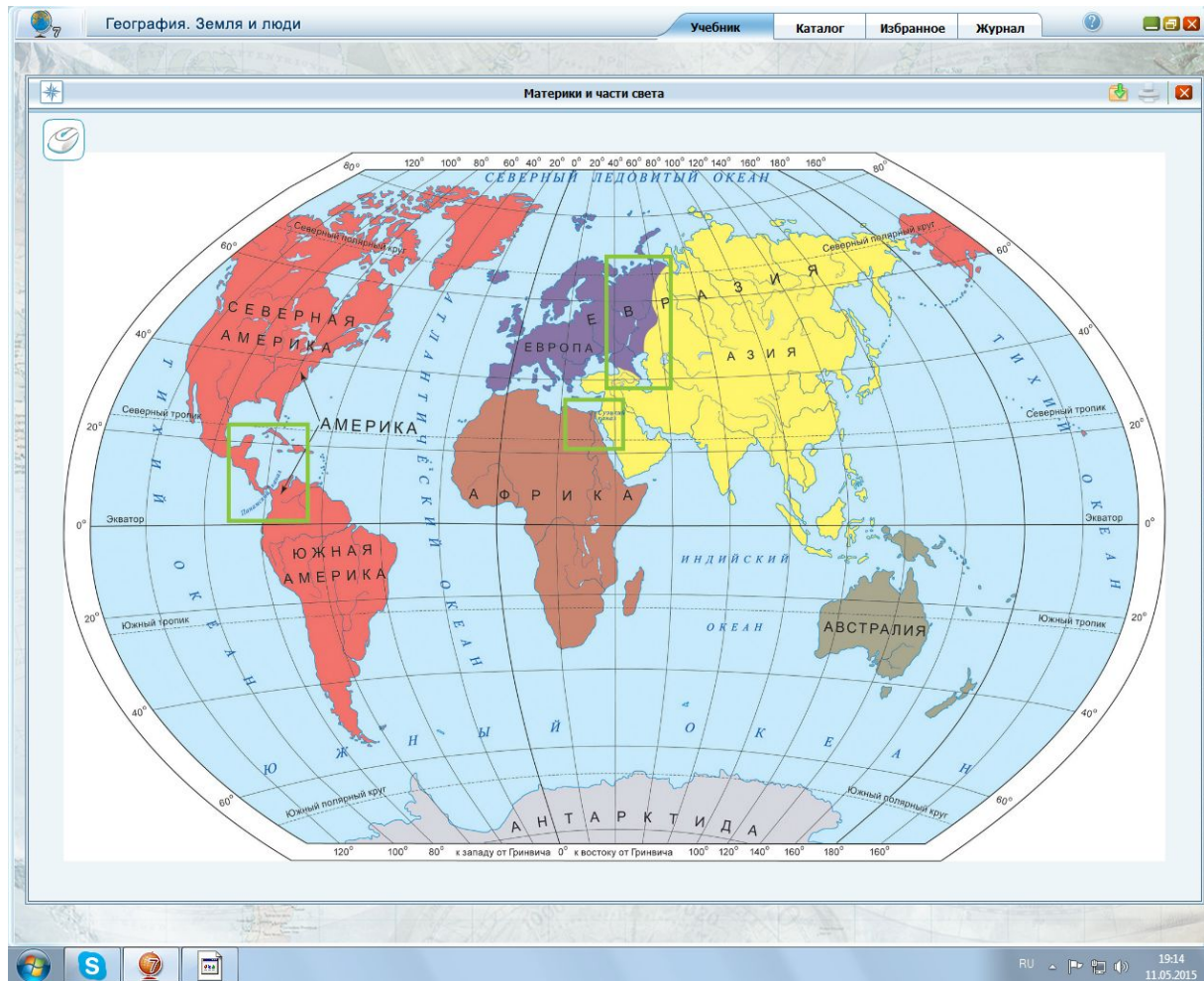
Континенты (материки)



Части света



1. совпадают ли границы материков и частей света?
2. Какую задачу нам предстоит решить на сегодняшнем уроке?
3. Необходимо ли нам знать какие географические объекты находятся, например, в Европе, какие в Азии?



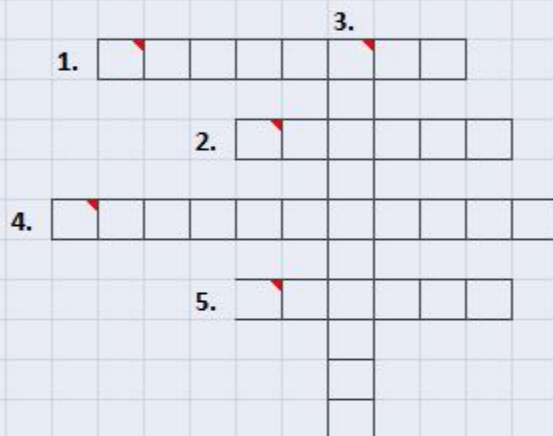
Части света		Материки
Старый Свет	Европа	Евразия
	Азия	
	Африка	Африка
Новый Свет	Америка	Северная Америка
		Южная Америка
	Антарктида	Антарктида
	Австралия	Австралия

Граница между Европой и Азией

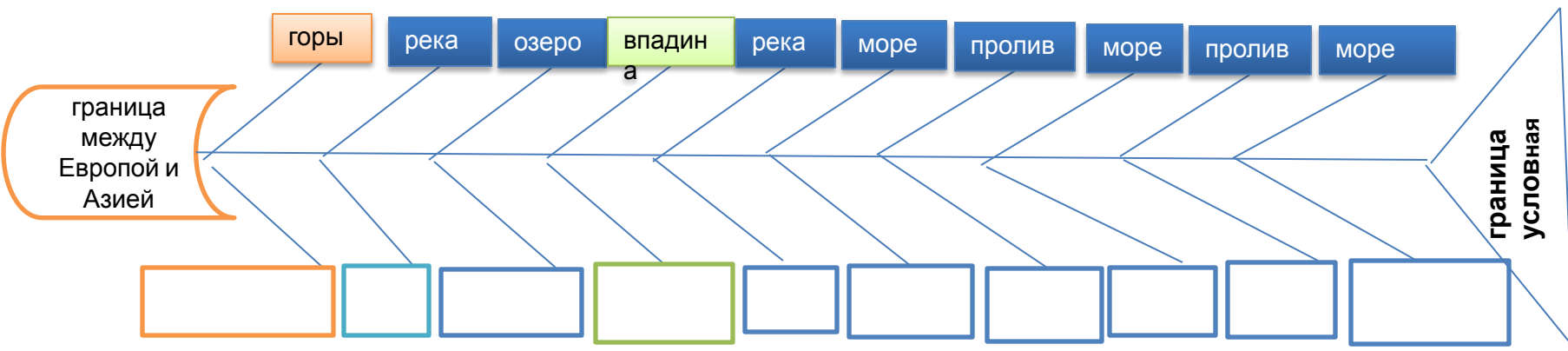
в разные исторические периоды



Чтобы это значило?



1. Самое мелкое море в мире. Расположено на востоке Европы
2. "Цветное" море. На его берегу расположен город - столица зимней Олимпиады 2014
3. Пролив между Азовским и Черным морем. На его берегу расположен город-герой Керчь
4. В этом море ловят рыбу жители трёх частей света
5. Один из самых узких проливов в мире. Вместе с проливом Дарданеллы соединяет Чёрное море со Средиземным



Проверь себя



Вычеркните лишнее и продолжите текст:

Граница между Европой и Азией - условная линия. Она проходит от (Карского, Баренцева) моря, по (западному, восточному) склону Уральских гор, на юге - вдоль реки (Урал, Эмба), по северному и северо-западному берегу Каспийского моря до устья реки Кумы., а затем по Кумо – Манычской впадине (севернее, южнее) Кавказских гор до реки Дон, далее по (восточному, западному) берегу Азовского моря к Черному морю через пролив Босфор_____
