

**Задание 24.** Расположите регионы России в той последовательности, в которой их жители встречают Новый год. Запишите получившуюся последовательность цифр.

- 1) Магаданская область
- 2) Тюменская область
- 3) Республика Адыгея

**Задание 24.** Расположите регионы России в той последовательности, в которой их жители встречают Новый год. Запишите получившуюся последовательность цифр.

- 1) Ханты-Мансийский АО – Югра
- 2) Амурская область
- 3) Кабардино-Балкарская Республика

**Задание 24.** Расположите регионы России в той последовательности, в которой их жители встречают Новый год. Запишите получившуюся последовательность цифр.

- 1) Омская область
- 2) Республика Калмыкия
- 3) Еврейская АО

**Задание 2.** Какое утверждение о крайних точках России является верным?

- 1) Крайняя южная точка находится в Калмыкии на границе с Азербайджаном.
- 2) Крайняя восточная материковая точка находится на полуострове Камчатка.
- 3) Крайняя северная материковая точка находится в Мурманской области.
- 4) Крайняя восточная точка имеет западную долготу.

**Задание 2.** В какой из перечисленных областей были ликвидированы таможенные посты после создания таможенного союза между Россией, Белоруссией и Казахстаном?

- 1) Омская
- 2) Ростовская
- 3) Амурская
- 4) Ленинградская

**Задание 2.** По акватории какого из перечисленных морей проходит морская Государственная граница Российской Федерации?

- 1) Японское
- 2) Средиземное
- 3) Южно-Китайское
- 4) Северное

**Задание 2.** По акватории какого из перечисленных морей проходит морская Государственная граница Российской Федерации?

- 1) Белое
- 2) Берингово
- 3) Красное
- 4) Северное

**Задание 2.** Морская граница между Россией и США проходит посередине пролива между островом Крузенштерна, принадлежащим США, и российским островом

- 1) Сахалин
- 2) Кунашир
- 3) Врангеля
- 4) Ратманова



**Задание 2.** В каком из перечисленных регионов России находится Комсомольск-на-Амуре?

- 1) Магаданская область
- 2) Хабаровский край
- 3) Приморский край
- 4) Еврейская АО

## Задание 3. Природа России

Большая часть территории какого из перечисленных регионов России расположена в таёжной зоне?

- 1) Республика Коми
- 2) Ямало-Ненецкий АО
- 3) Чукотский АО
- 4) Республика Калмыкия

## Задание 3. Природа России

В каком из перечисленных регионов России широко распространены чернозёмные почвы?

- 1) Дальний Восток
- 2) Европейский Север
- 3) Европейский Юг
- 4) Урал

### Задание 3. Природа России

Какая из перечисленных территорий России находится в умеренном климатическом поясе?

- 1) острова Новая Земля
- 2) Чукотский полуостров
- 3) полуостров Таймыр
- 4) остров Сахалин

## Задание 3. Природа России

Для какой из перечисленных территорий России, расположенных в умеренном климатическом поясе, характерен резко континентальный климат?

- 1) Кольский полуостров
- 2) полуостров Камчатка
- 3) Забайкалье
- 4) Приморье

## Задание 3. Природа России

Для какого из перечисленных регионов России характерен муссонный климат умеренного пояса?

1) Ямало-Ненецкий АО

2) Калининградская область


3) Приморский край

4) Мурманская область

## Задание 3. Природа России

В какой из перечисленных горных систем количество высотных поясов наибольшее?

1. Верхоянский хребет
2. Кавказ
3. Саяны
4. Урал



## Задание 4. Стихийные явления

- Такие неблагоприятные климатические явления, как засухи, суховеи и пыльные бури значительно затрудняют хозяйственное использование территории. Для какой из перечисленных территорий они наиболее характерны?

- 1) Республика Саха (Якутия)
- 2) Калининградская область
- 3) Приморский край
- 4) Калмыкия



# Задание 4. Стихийные явления

Для какого из перечисленных регионов России могут представлять опасность тайфуны?

- 1) Краснодарский край
- 2) Приморский край
- 3) Калининградская область
- 4) Мурманская область

## Задание 4. Стихийные явления

- Наводнения – стихийные явления. На какой из перечисленных рек наводнения наиболее часто происходят в летнее время и вызываются муссонными дождями?
  - 1) Урал
  - 2) Ока
  - 3) Зея
  - 4) Дон

## Задание 4. Стихийные явления

Землетрясения – стихийные бедствия, от которых часто страдают люди. Своевременное оповещение населения специальными службами может предотвратить катастрофические последствия. В какой из перечисленных стран необходимы такие специальные службы.

1) Финляндия

2) Польша

3) Нидерланды

4) Филиппины

## Задание 4. Стихийные явления

Где на Дальнем Востоке имеются действующие вулканы?

- 1) на Курильских островах
- 2) на острове Сахалин
- 3) на Чукотском полуострове
- 4) в Приморье

## Задание 4. Стихийные явления


С сейсмичностью и подводным вулканизмом тесно связана опасность возникновения огромных морских волн – цунами, под угрозой которых находятся территории прибрежных городов и других населённых пунктов. В какой из перечисленных стран необходима работа специальных служб по предупреждению населения о цунами?

1) Швеция

2) Испания

3) Япония

4) Алжир



## Задание 4. Стихийные явления

На какой из перечисленных территорий наблюдается сплошное распространение многолетней мерзлоты?

- 1) полуостров Таймыр
- 2) полуостров Кольский
- 3) Курильские острова
- 4) остров Сахалин

## Задание 4. Стихийные явления

Для какого из перечисленных регионов России характерно сплошное распространение многолетней мерзлоты?

- 1) Свердловская область
- 2) Чукотский АО
- 3) Республика Башкортостан
- 4) Тверская область




**Задание 15.** В сентябре 2012 г. на одной из центральных улиц Владивостока на проспекте Красоты сошёл оползень. Камнями и землёй засыпало большую часть дорожного полотна. В результате инцидента никто не пострадал, но движение было закрыто. Причиной оползня стали сильные дожди, вызванные пришедшим в Приморье тропическим циклоном «Санба».

**Объясните,** почему сильные дожди могли стать причиной оползня.



**Задание 15.** Тихоокеанские муссоны принесли сильные ливневые дожди в юго-восточные районы России. Общее количество выпавших атмосферных осадков в 2 раза превысило обычную для этого времени года норму. В Приморском крае и Амурской области реки вышли из берегов. Некоторые населенные пункты оказались на грани затопления.

**В какое время года и почему в юго-восточных районах России муссоны дуют с океана на материк?**



Задание 6. Традиционные занятия народов России.

К традиционным занятиям каких из перечисленных народов России относятся охота, морской зверобойный промысел и рыболовство?

- 1) чувашаи и марийцы
- 2) эскимосы и алеуты
- 3) буряты и тувинцы
- 4) карачаевцы и кабардинцы

## Задание 6. Традиционные занятия народов России.

Основное традиционное занятие хантов Приобья и народов Приамурья (негидальцев, нанайцев, нивхов, удэгейцев) –

- 1) рыболовство
- 2) коневодство
- 3) промысел морского зверя
- 4) овцеводство

**Задание 13.** В каком из перечисленных высказываний содержится информация о миграциях населения?

1) По итогам Всероссийской переписи населения 2010 г., население Дальнего Востока составляет всего 4,5% от общей численности населения нашей страны.

2) В 2009 г. в Москве было зарегистрировано 10,5 миллиона жителей, из них около семи миллионов граждан трудоспособного возраста и 2,5 миллиона пенсионеров.

3) В январе–июле 2011 г. из Казахстана в Россию прибыло на постоянное место жительства 19,4 тыс. человек, в обратном направлении убыло 3,3 тыс. человек.

4) В Центральном федеральном округе средняя плотность населения наибольшая в России и составляет 57 человек на 1 км<sup>2</sup>

**Задание 13.** В каком из перечисленных высказываний содержится информация об урбанизации?

1) В нескольких регионах Центрального федерального округа численность населения увеличивается за счёт его притока.

2) Во всех регионах Дальневосточного федерального округа из-за оттока населения происходит сокращение его численности.

3) По данным последней переписи, доля горожан в общей численности населения России возросла и составила 74%.

4) В России в начале XXI в. численность населения продолжала сокращаться.

**Задание 13.** В каком из перечисленных высказываний содержится информация о воспроизводстве населения?

1) Наиболее низкая средняя ожидаемая продолжительность жизни и мужчин, и женщин в 2010 г. отмечалась в Республике Тыва и Чукотском АО.

2) В 2014 г. в РФ превышение числа родившихся над числом умерших составило 30 336 человек.

3) Численность мужчин в России на 1 января 2014 г. составляла 66,5 млн человек, женщин – 77,1 млн человек.

4) Самыми малонаселёнными в России к 1 января 2010 г. были Республика Саха (Якутия) , Камчатский край, Магаданская область, Ненецкий, Чукотский и Ямало-Ненецкий АО.

**Задание 8.** Определите, в каком из перечисленных регионов наблюдался **наибольший естественный прирост** населения.

- 1) Магаданская область    2) Республика Тыва  
3) Тверская область        4) г. Москва

**Демографические показатели отдельных регионов России в 2006**

Регион	Рождаемость (на 1 тыс. жителей)	Смертность (на 1 тыс. жителей)
Магаданская область	10,7	13,2
Республика Тыва	19,3	12,3
Тверская область	9,5	21,8
г. Москва	9,0	12,2



Естественный прирост =  
рождаемость - смертность

- $EP = P - C_M$



## Демографические показатели отдельных регионов России в 2006 г.

Регион	Рождаемость (на 1 тыс. жителей)	Смертность (на 1 тыс. жителей)	ЕП (на 1 тыс. жителей)
Магаданская область	10,7	13,2	10,7-13,2 = - 2,5
Республика Тыва	19,3	12,3	19,3-12,3 = 7
Тверская область	9,5	21,8	9,5-21,8 = - 12,3
г. Москва	9,0	12,2	9,0-12,2 = - 3.2

Задание 8. Используя данные приведённой ниже таблицы, определите, в каком из перечисленных регионов наблюдалась **наименьшая смертность**.

Регион	Общая численность населения, тыс. человек	Рождаемость, (на 1 тыс. жителей)	Естественный прирост, (на 1 тыс. жителей)
Кабардино-Балкарская Республика	891	11	1,0
Омская область	2030	10	- 4
Чувашская Республика	1287	10	- 4
Магаданская область	169	10,8	- 3

Естественный прирост =  
рождаемость - смертность

- $EP = P - CM$

- $CM = P - EP$

Задание 8. Используя данные приведённой ниже таблицы, определите, в каком из перечисленных регионов наблюдалась **наименьшая смертность**.

Регион	Рождаемость, (на 1 тыс. жителей)	Естественный прирост, (на 1 тыс. жителей)	Смертность
Кабардино-Балкарская Республика	11	1,0	$11 - 1,0 = 10$
Омская область	10	- 4	$10 - (-4) = 14$
Чувашская Республика	10	- 4	$10 - (-4) = 14$
Магаданская область	10,8	- 3	$10,8 - (-3) = 13,8$

Задание 16. Определите, в каком из перечисленных регионов численность мужского населения **превышала** численность женского населения.

1) Краснодарский край  
Чукотский АО

2) Новгородская область  
4) Ямало-Ненецкий АО

3)

**Половой состав населения некоторых регионов России в 2005 г.**

Регион	Количество женщин на 1000 мужчин
Краснодарский край	1156
Новгородская область	1240
Чукотский автономный округ	913
Ямало-Ненецкий автономный округ	1000