


Проверка домашнего задания



№ 11

1) $3,6 - 2,3 = 1,3$ (л) – в ковше

2) $3,6 * 1,5 = 5,4$ (л) – в ведре

3) $3,6 + 1,3 + 5,4 = 10,3$ (л) – всего


Ответ: 10,3 л.

№15(г) Ответ:) 0,58

№22. Задача.

132: (40+48)=1,5(ч)-автобусы встретятся

Ответ: через 1,5 часа.




« Если вы хотите научиться плавать, смело входите в воду, а если хотите научиться решать задачи, то решайте их»

Дж. Пойа

Загадочный мир планеты

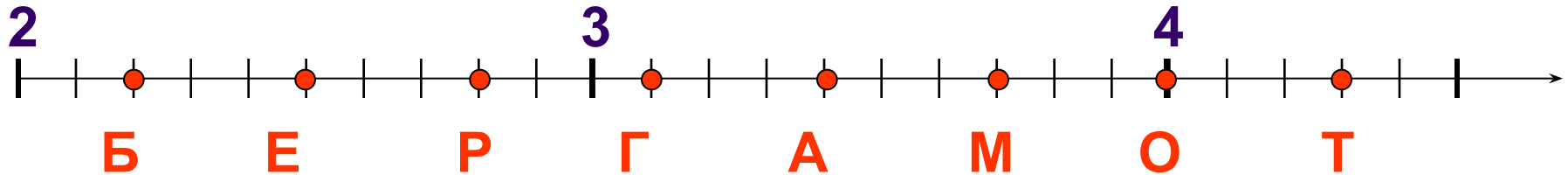


- Нам предстоит узнать, как называется дальний родственник лимона и апельсина.



Название растения...

- $2,15 \times 2$ Т
- $1,7 + 1,4$ Г
- $1,5 + 2,5$ О
- $0,22 \times 10$ Б
- $0,7 + 2,7$ А
- $0,028 \times 100$ Р
- $5 - 2,5$ Е
- $7,8 - 4,1$ М



Родина бергамота



- 48 : 16 Я
- 618 : 3 Т
- 450 : 5 А
- 96 : 6 И
- 5648 : 8 И
- 355 : 5 Л



Бергамо



- Бергамот был назван в честь итальянского города Бергамо, где его впервые начали культивировать и продавать его масло.


Совместные действия с десятичными дробями



Цели: Закрепить навыки действий
с десятичными дробями.

Развивать математическое
мышление и логику.

Воспитывать интерес к учебе.



ПОВТОРЯЕМ ПРАВИЛА



**Как сложить (вычесть)
десятичные дроби?**

**Как умножать
десятичные дроби?**

**Как разделить
десятичную дробь на
десятичную?**


**Скорость самолета 500 км/ч.
Скорость ветра 10 км/ч.
Какой путь он пролетит за
2,5 часа при попутном
ветре? При встречном?**



Чай с бергамотом



1,6 кг чая с бергамотом
требуется расфасовать в 20
коробок. Какова масса чая в
каждой коробке?





Решили Винни-Пух, Пятачок и Кролик Попить чай с медом. Горшочек меда стоит 24 р. У Винни-Пуха с Кроликом было 20,6 р, у Винни-Пуха с Пятачком 12,9 р, у Кролика и Пятачка 18,5 р. Купят ли они горшочек с медом? Сколько денег было у каждого?





**Масса бидона с молоком
35 кг. Наполовину полного—
18,5 кг. Какова масса
бидона?**



Самостоятельная работа.

1 вариант.

1. Вычислите: $10,79:8,3 - (5-0,56):3,7$
2. Расставьте знаки «+» и «-» так, чтобы равенство было верным:

$$5,5 \dots 1,9 \dots 2,6 = 1$$

2 вариант.

1. Вычислите $8,364: (8-3,92) - 2,05*0,4$
2. Расставьте знаки «+» и «-» так, чтобы равенство оказалось верным:

$$7,9 \dots 3,4 \dots 4,2 = 7,1$$



Поставьте правильно запятую в равенстве



$$3 + 108 = 408$$

$$63 - 27 = 603$$

$$42 + 17 = 212$$

$$57 - 4 = 17$$

$$736 - 336 = 4$$

$$7,5 * 10 = 75$$

$$312 : 10 = 312$$

$$5 * 0,31 = 155$$



ПРОВЕРКА



$$3 + 1,08 = 4,08$$

$$4,2 + 17 = 21,2$$

$$7,36 - 3,36 = 4$$

$$3,12 : 10 = 312$$

$$63 - 2,7 = 60,3$$

$$5,7 - 4 = 1,7$$

$$7,5 * 10 = 75$$

$$5 * 0,31 = 1,55$$


Домашнее задание



Стр. 103

№15(а, б); 18;

№ 21



На уроке

- Я узнал...
- Я научился...
- Мне понравилось...
- Мне не понравилось...
- Мое настроение...



Бергамот

