



Математическая игра



Учитель математики МБОУ «Гимназия №6» г. Брянска
КУДРЯВЦЕВА З.Н.







Аннотация

- При правильном ответе, Машенька уносит его с собой.
- Ошибочный ответ останется на месте.



**Выберите из представленных
фигур треугольник**



Выберите число кратное 5

12

5

10

1



У Матвея было 9 конфет. Он отдал брату конфет на одну больше, чем оставил себе. Сколько конфет оставил себе Матвей?

4

5

8

10



РЕБУС



Сто пней

Ступенька

Степень



СПАСИБО ЗА ВНИМАНИЕ!

