


Сложение и вычитание десятичных дробей





«Расскажи -

и я

забуду,

Покажи -

и я


запомню,

Дай попробовать -

и я

пойми»


智
目
博
心







«Ответишь на вопросы,
скажу!»





Вопрос №1



**Как короче можно записать
дробь, знаменатель
которой единица с
несколькими нулями?**

Вопрос №2



Как называется число 7
в записи 7,84?



Вопрос №3

Как называется число 3 в

записи

5 | 3

?



Вопрос №4



Прочитайте дробь

3,067837?

Вопрос №5



Верно ли что
 $3,5 = 3,5000$?

Вопрос №6



**Сколько цифр будет стоять
после запятой в записи**

$$16 \frac{38}{100000} ?$$



Найдите ошибку



1) $45,38 + 4,3 = 45,82$

2) $3,534 - 2,2 =$

$= 3,534 - 2,002 = 1,532$

3) $45 - 4,89 = 41,89$



Постройте мост через реку

Расположите эти кирпичики в порядке возрастания чисел, которые на них написаны, и добавьте недостающий кирпичик, найдя сумму всех чисел.





Задачка бабы Яги

Я измерила стороны своего треугольного забора. Они равны 18,7м и 13,6 м. А третью сторону измерить не могу, так как забор пересекает ров с водой, который мне не перепрыгнуть. Пролетал мимо Змей Горыныч и сказал, что периметр моего забора равен 42,9м. Как мне измерить третью сторону?



