

# Математический Турнир

СВОЯ  
ИГРА



Ребусы

Анаграмм  
ы

Дроби

Перелож  
и спичку

Задачи  
шутки

100

100

100

100

100

200

200

200

200

200

300

300

300

300

300

400

400

400

400


400

# Отгадайте ребус

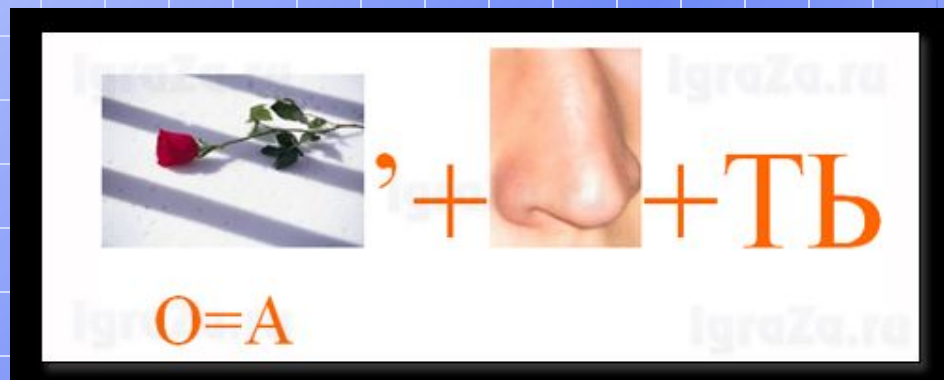


**Категория**  
**«Ребусы»**  
**за 100**

**Минус**




Отгадайте ребус



Категория  
«Ребусы»  
за 200


Разность



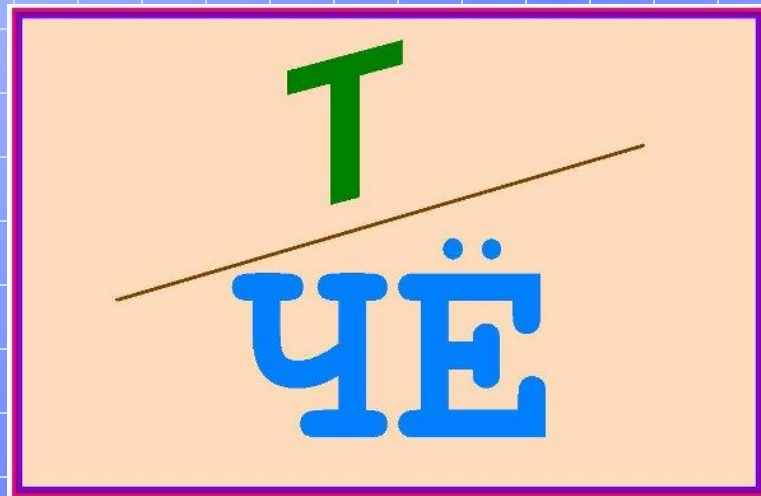
**Отгадайте  
ребус**



**Категория**  
**«Ребусы»**  
**за 300**  
**Задача**




Отгадайте ребус



Категория  
«Ребусы»  
за 400


Счет



# Коньре

Категория  
«Анаграммы»  
за 100

## Корень




**Виунеране**

**Категория**

**«Анаграммы»**

**за 200**

**Уравнение**






**Марипида**

**Категория**  
**«Анаграммы»**  
**за 300**


**Пирамида**



# **Зидевопрение**

**Категория**  
**«Анаграммы»**  
**за 400**

**Произведение**




**Какой знак надо поставить между написанным рядом цифрами 2 и 3, так чтобы получилось число, больше двух, но меньшее трёх?**

**Категория**

**«Дробь»**

**за 100**

**Запятую (2,3)**




**Сравните дроби. Объясните свой ответ.**

$$\frac{5}{10} \text{ и } \frac{3}{4}$$

**Категория**  
**«Дроби»**  
**за 200**


$$\frac{5}{10} < \frac{3}{4}$$



**Половина – треть его. Какое  
это число?**

**Категория  
«Дроби»  
за 300**


$$1\frac{1}{2}$$




Бабочки и пчелы опыляли цветы на лугу.  
Сколько насекомых опыляло цветы если  
известно что бабочек было 24, а пчелы  
составляли  $\frac{4}{6}$  от всех насекомых?

**Категория**  
**«Дробь»**  
**за 400**


**72**



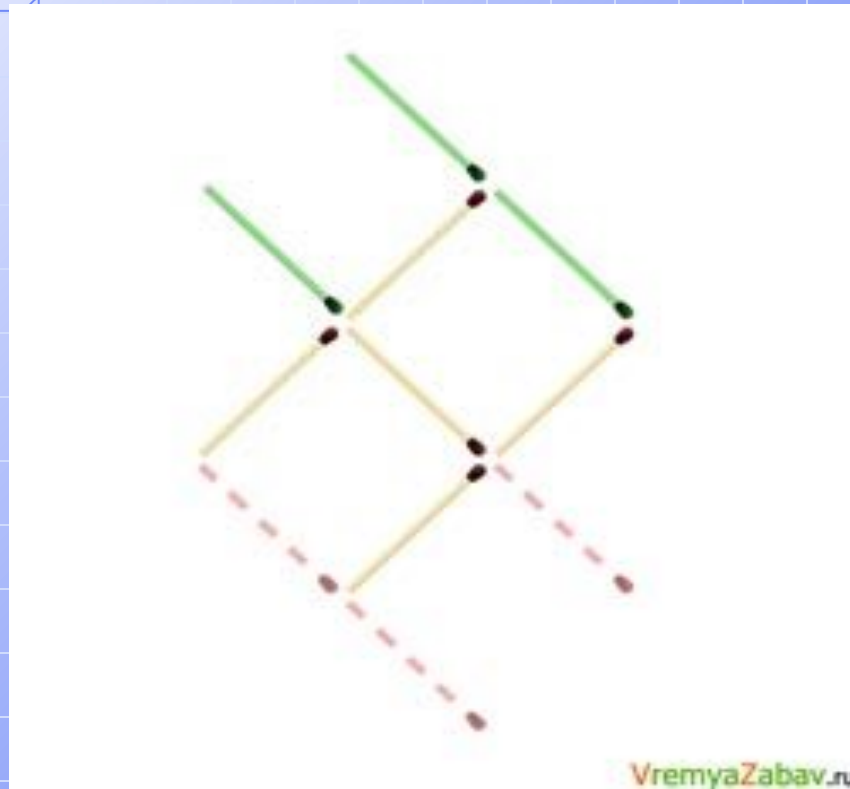
Переложите 3 спички, чтобы стрела поменяла своё направление на противоположное.




**Категория**  
**«Переложите**  
**спичку»**  
**за 100**



Из спичек сложена золотая рыбка, переложите 3 (три) спички так, чтобы рыбка поплыла в другую сторону ■

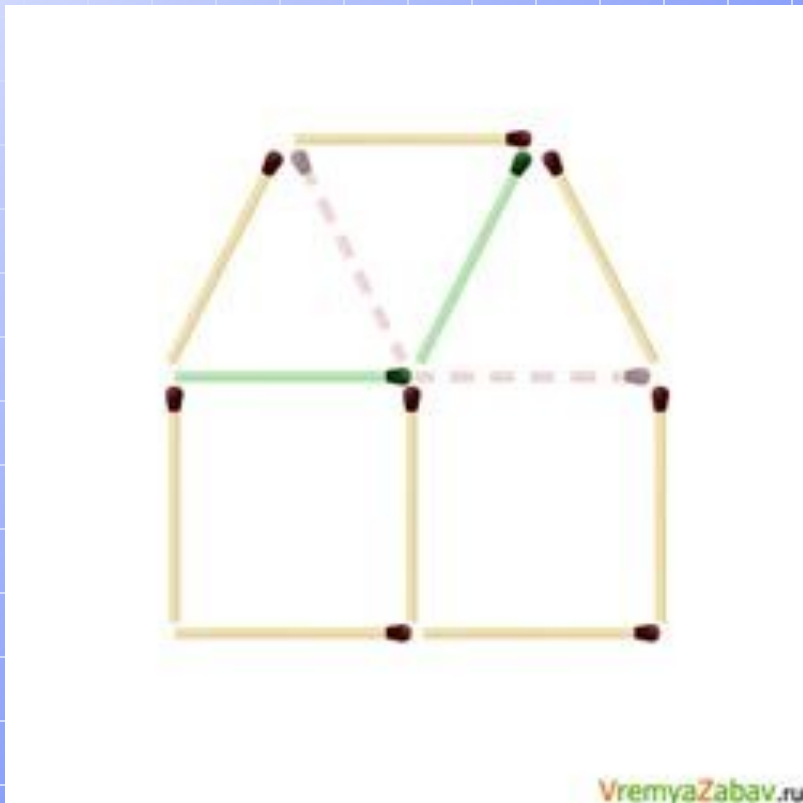


**Категория**  
**«Переложите**  
**спичку»**  
**за 200**






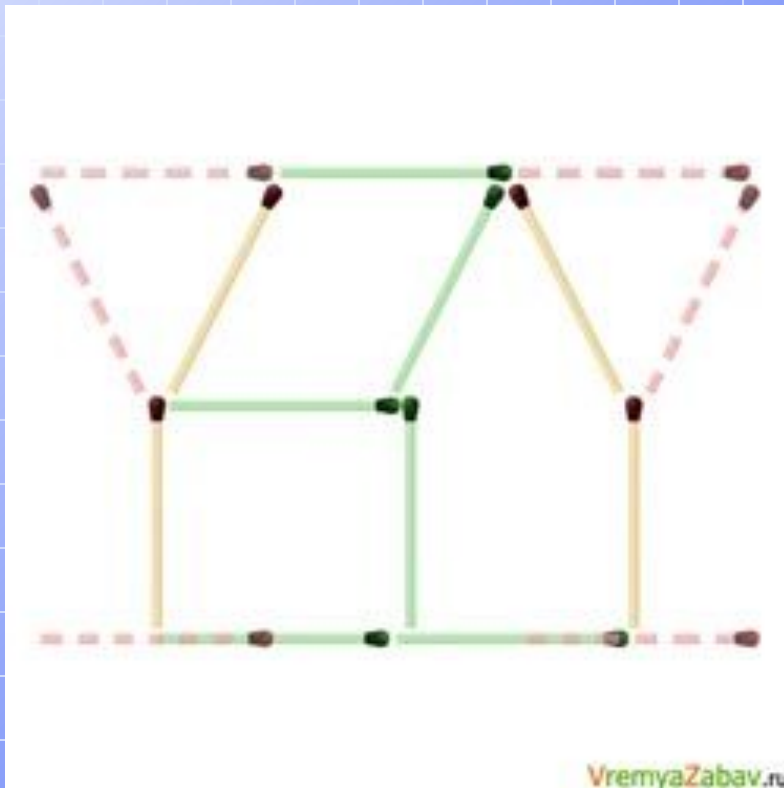
Из спичек построен дом.  
Переложите всего 2 (две) спички таким образом, чтобы дом  
повернулся другой стороной.




**Категория**  
**«Переложите**  
**спичку»**  
**за 300**



Переложите 6 (шесть) спичек так, чтобы из двух бокалов получился домик.




Категория  
«Перелож  
и спичку»  
за 400



**У Буратино меньше 20 золотых монет. Эти монеты он может разложить в стопки по две, по три и по четыре монеты. Сколько монет у Буратино?**

**Категория**  
**«Задачи»**  
**за 100**


**12 монет**



В семье трое братьев. Каждый следующий младше предыдущего на 3 года. А сумма их возрастов равна 15 годам. Сколько лет каждому?

**Категория**  
**«Задачи»**  
**за 200**

**2, 5, 8**




Три девочки на вопрос, по сколько им лет  
ответили так: Маша: "Мне вместе с Наташей  
21 год", Наташа: "Я моложе Тамары на 4  
года", Тамара: "Нам троим вместе 34 года".  
Сколько лет каждой из девочек?

**Категория**

**«Задачи»**

**за 300**

**Тамаре -13, Наташе – 9, Маше – 12.**



**Аня, Женя и Нина за контрольную работу получили разные оценки, но двоек у них не было. Отгадайте, какую оценку получила каждая из девочек, если у Ани не "3", у Нины не "3" и не "5"**

**Категория**  
**«Задачи»**  
**за 400**

**Нина – 4, Аня – 5, Женя – 3.**

