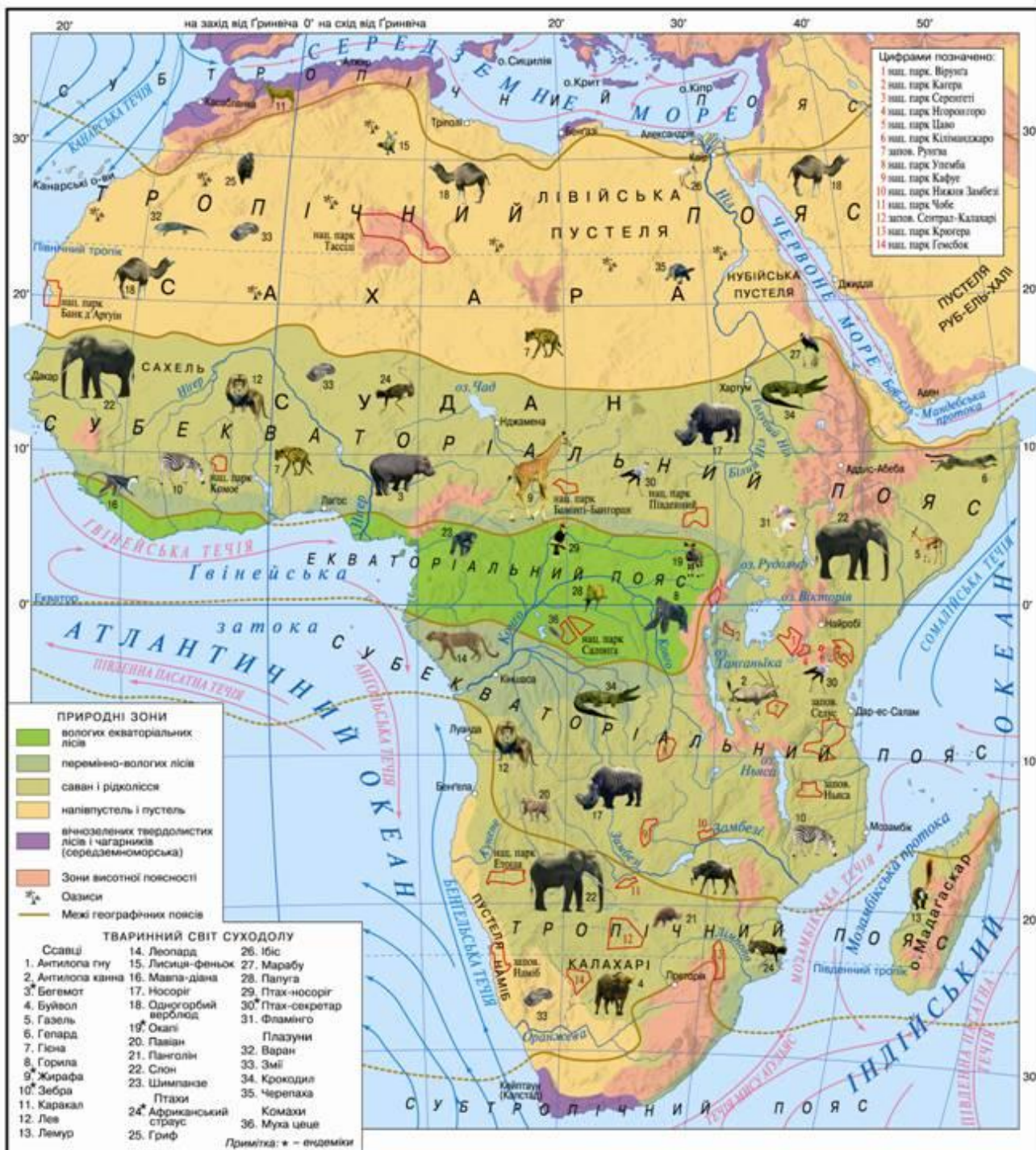


**Население  
Африки.  
Политическая  
карта**




## Цели урока:

- Познакомиться с составом населения Африки, сформировать представление о размещении населения и установить его зависимость от исторических и природных факторов.
- Познакомиться с современной политической картой, совершенствовать умение работать с географическими картами.
- Изучить особенности народов Африки.



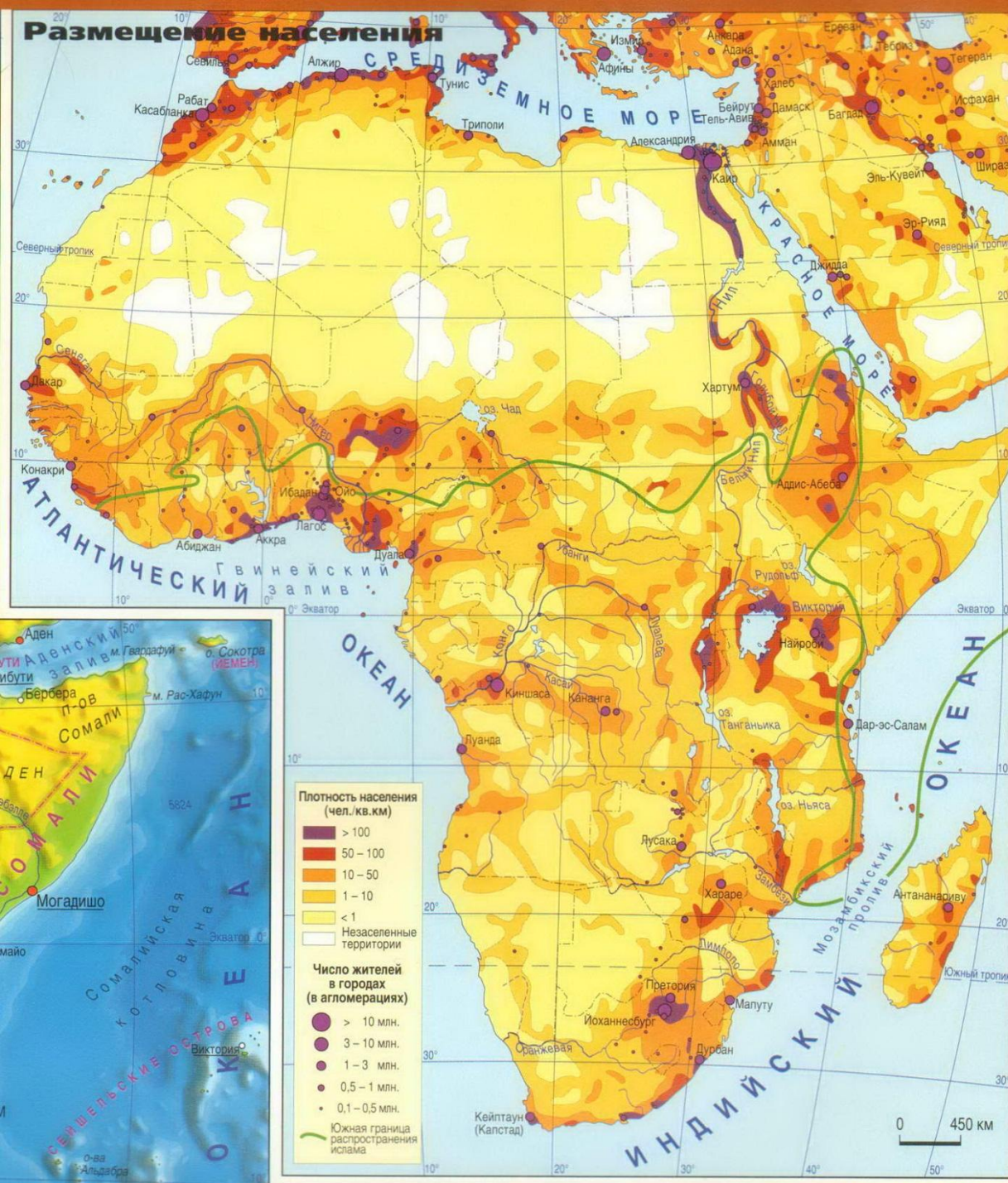
Проверка домашнього задания:

1. Рассказать о природных зонах Африки



### **Исследования на уроке:**

- Численность населения и его размещение
- Расы и народы Африки
- Современная политическая карта



Рассмотрите карту плотности населения Африки (страница 28 атласа) и заполните таблицу

# Основные районы Африки с различной плотностью населения

Район	Плотность населения, чел/км <sup>2</sup>	Оценка плотности населения (высокая, средняя, низкая)
Северная Африка (Сахара)		
Юго-западная Африка		
Побережье Средиземного моря		
Побережье Гвинейского залива		
Юг материка		
Вдоль реки Нил		
В районе озер		



Этнический состав Африки чрезвычайно сложен.


По приблизительным подсчетам, на континенте живет примерно 50 наций и народностей и 3 тысячи различных племен, говорящих на 1000 языках.

На Африканском континенте 107 этносов насчитывают более 1 млн. человек каждый и составляют 86,2% всего населения.

Численность 24 народов превышает 5 млн. чел., и они составляют 55,2% населения Африки. Крупнейшие из них – египетские арабы, хауса, йоруба, алжирские арабы, марокканские арабы, фульбе, игбо, амхара, аромо, суданские арабы.

При этом следует учитывать, что практически каждый этнос имеет свой язык. Исключение составляет арабский язык, на котором говорит одна пятая часть африканского континента.





# Население Африки

Европеоидная  
раса

Экваториальная  
(негроидная)  
раса

Смешанная раса  
(эфиопская)



Расы	Народы	Место проживания	Как выглядят
Европеоидная	Алжирцы		
	Марокканцы		
	Египтяне		
	Берберы		
	Туареги		
Негроидная раса	Тутси		
	Йоруба		
	Пигмеи		
	Бушмены		
Промежуточная раса	Эфиопы <u>Масаи</u>		
Смешанная раса (Монголоидная и негроидная)	Малагасийцы		

Кроме этнической пестроты, каждая африканская страна исключительно разнообразна и по религиозной принадлежности.

В странах Африки соседствуют друг с другом:

- мусульманские общности различных направлений, толков, сект;
- христиане – также различных вероисповеданий;
- сторонники традиционных верований;
- афрохристиане, сочетающие христианство с традиционными религиями.

# Материальная и духовная культура Африки

- Пирамиды и храмы Египта
- Мечеть и мавзолей Тимбукту в Мали
- Православные храмы в Эфиопии
- Развалины древнего Карфагена

# Пирамиды В Гизе (Египет)



# Мечеть Тимбукту в Мали




# Мавзолей Тимбукту





# Храм Святого Георгия в Эфиопии



# Развалины древнего Карфагена



# Политическая карта Африки

АФРИКА. Политическая карта



Масштаб 1:45 000 000

Заполните таблицу, выбрав на карте по 5 стран для каждой группы:

Самые большие по площади страны Африки	Страны на побережье Индийского океана	Страны на побережье Атлантического океана	Внутриконтинентальные страны
1. 2. 3. 4. 5.	1. 2. 3. 4. 5.	1. 2. 3. 4. 5.	1. 2. 3. 4. 5.

# АФРИКА. Политическая карта



# Сравнение карт

- Две карты «Политическая карта Африки» и «Плотность населения»
- Определите страны Африки, имеющие:
  - высокую плотность населения
  - Низкую плотность населения
  - Население размещено неравномерно

Какими причинами это можно объяснить?

# Домашнее задание

- § 31.
- Подготовить сообщения о странах и народах Африки. Можно использовать интернет – ресурсы.