

Цель урока:

- определить особенности географического положения Северной Америки;
- познакомиться с историей открытия и исследования материка.

Задание:

1.выполнить практическую
работу

«Определение ГП Северной
Америки»

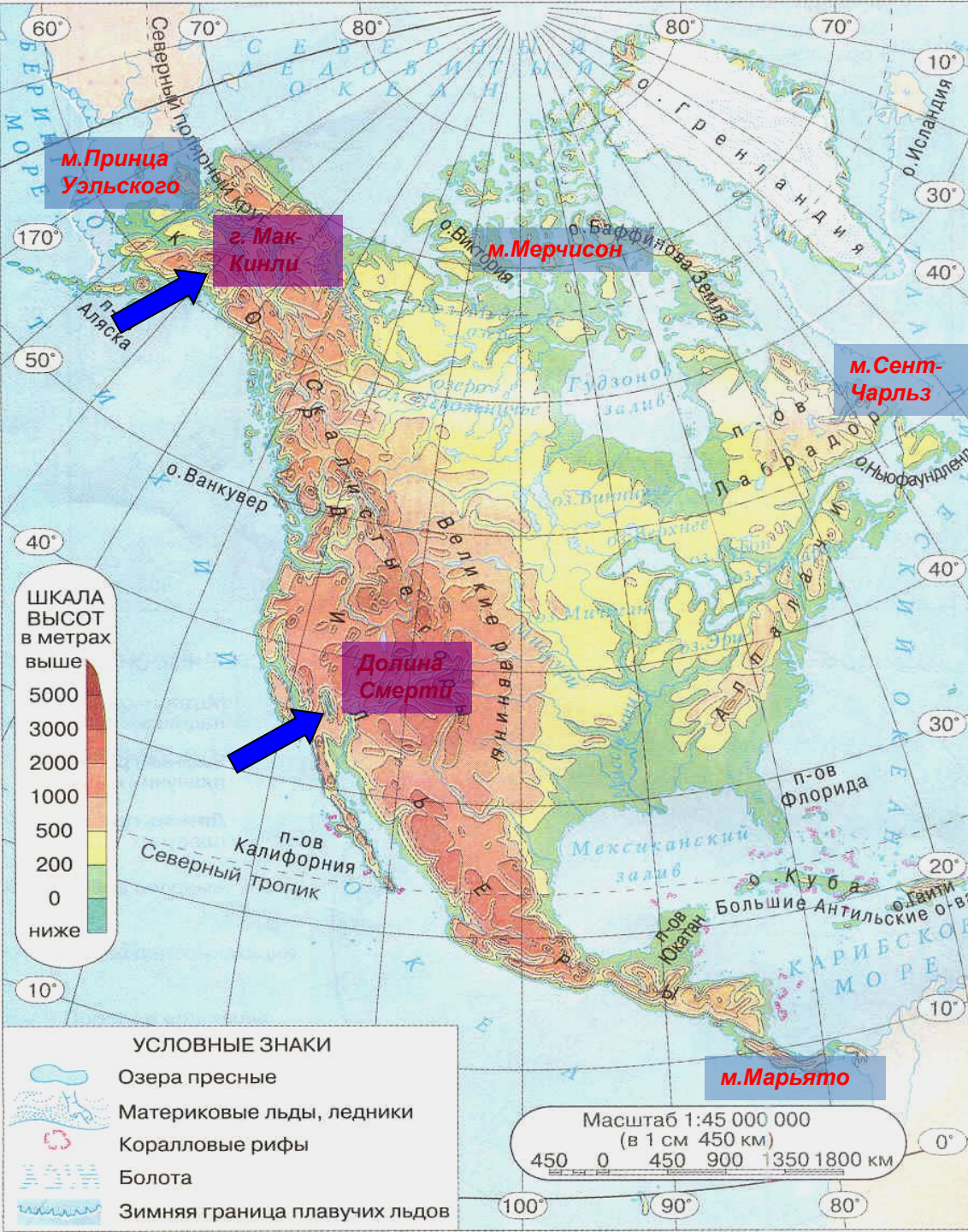
(по плану);

2. По вариантам:

I вариант – выделить сходства ГП
Северной и Южной Америки.

II вариант – выделить отличия ГП

Северной и Южной Америки.



Общие данные о материке

- **Площадь:** а) без островов – 20.3 млн. кв.км. б) с островами – 24.3 млн. кв. км.
- **Крайние точки:** а) Северная – мыс Мерчисон. б) Южная – мыс Марьято в) Западная – мыс Принца Уэльского г) Восточная – мыс Сент-Чарльз.
- **Длина береговой линии** – 75 600 км.
- **Высота:** а) средняя – 720 м. б) максимальная – 6194 м, г. Мак-Кинли, в) минимальная – минус 85 м., Долина Смерти.



СХОДСТВА:

- 1. находятся в западном полушарии
относительного нулевого
меридиана;**
- 2. западное побережье омывается
Тихим океаном;**
- 3. восточное побережье омывается
Атлантическим океаном;**



РАЗЛИЧИЯ:

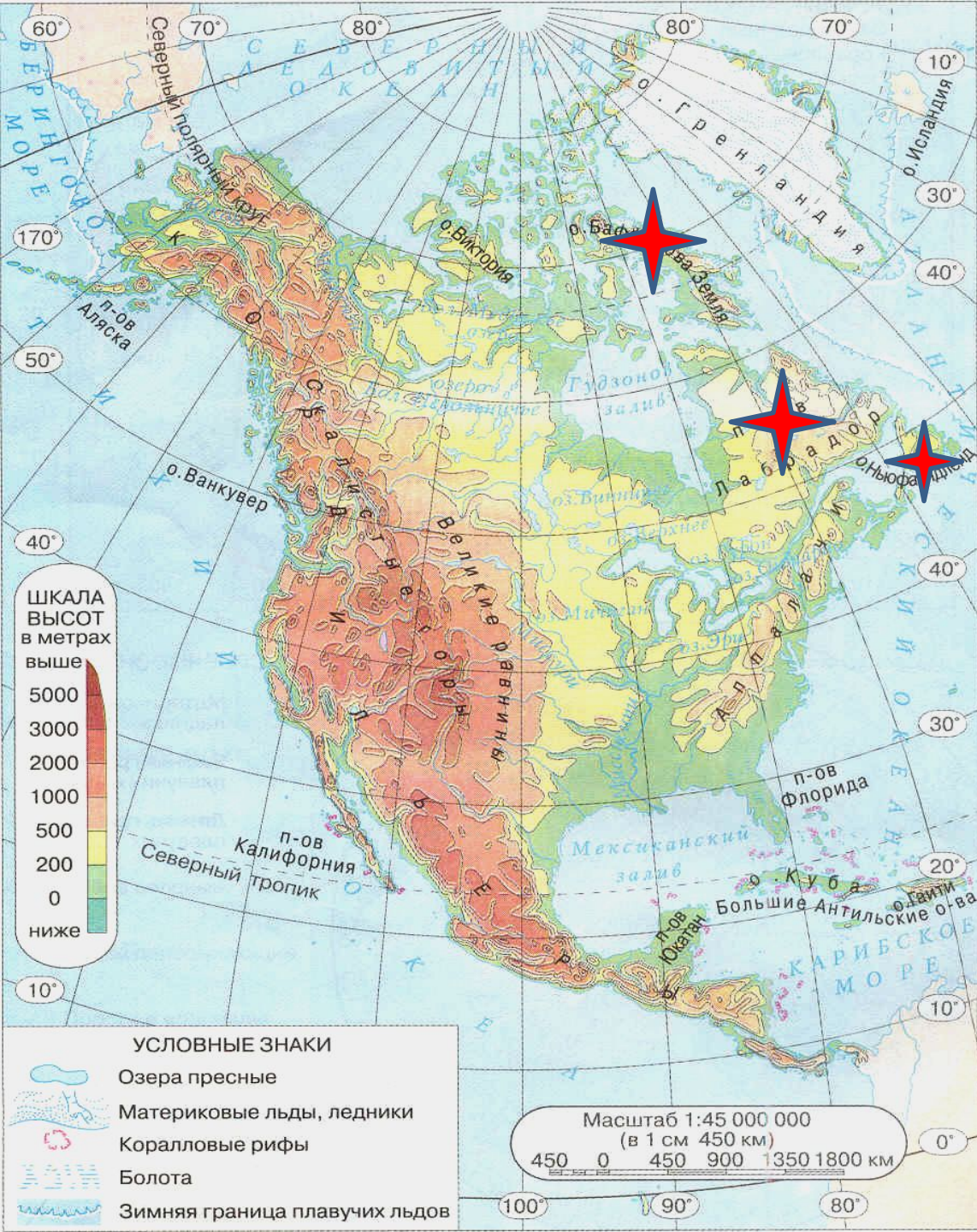
- 1. Северная Америка полностью находится в северном полушарии относительно экватора;**
- 2. на территории Северной Америки нет экваториального, субэкваториального, тропического климатических поясов;**
- 3. Северная Америка близко расположена к Евразии;**
- 4. Северная Америка на севере омывается Северным Ледовитым**

История открытия и исследования Северной Америки

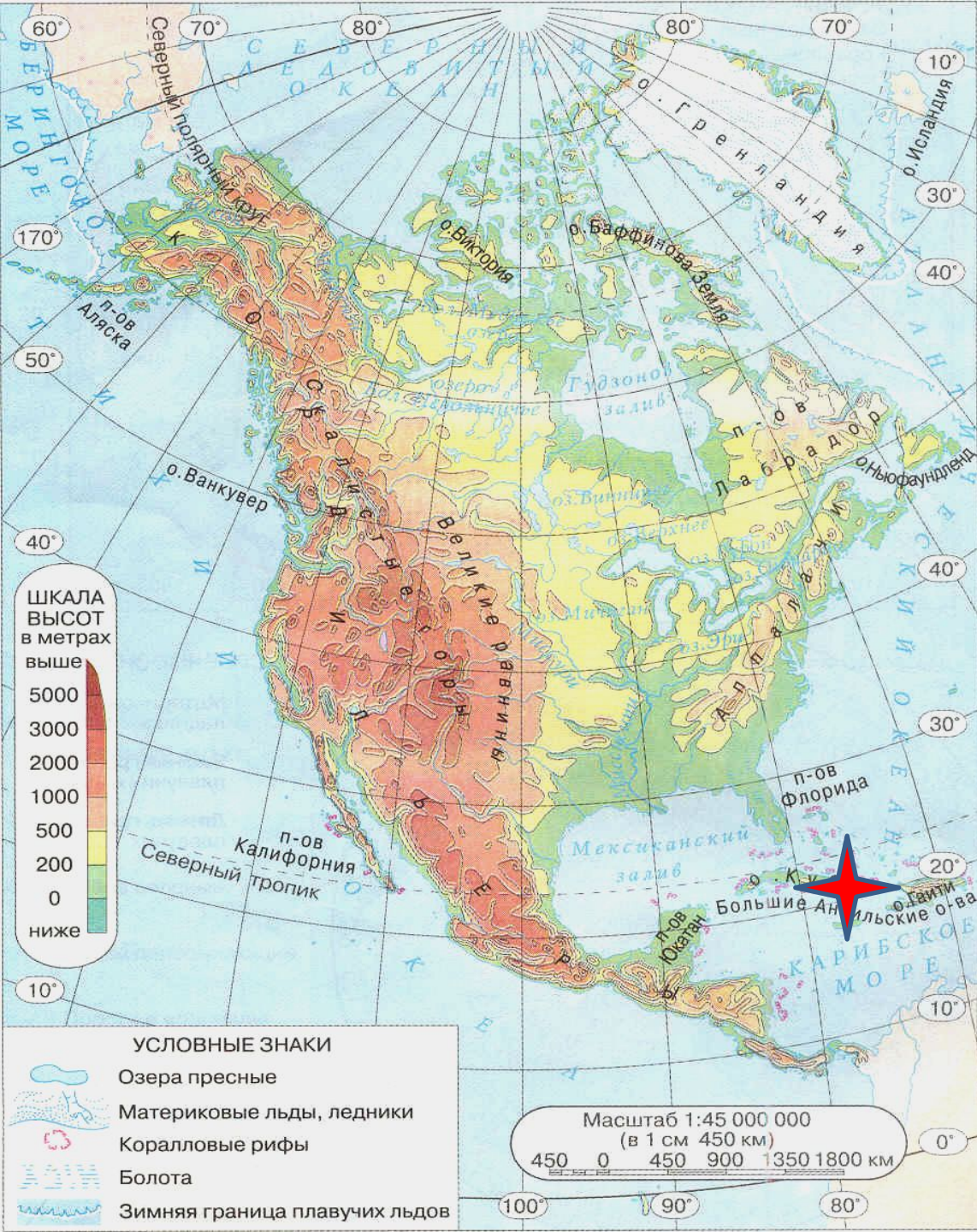
Дата

Исследователь

Событие




**Лейф
Эрикссон
(1000 год...)**



**Христофо
р
Колумб**

1492



**Джон
Кабот
(1494**



**Эрнар
Кортес
(1519 год...)**

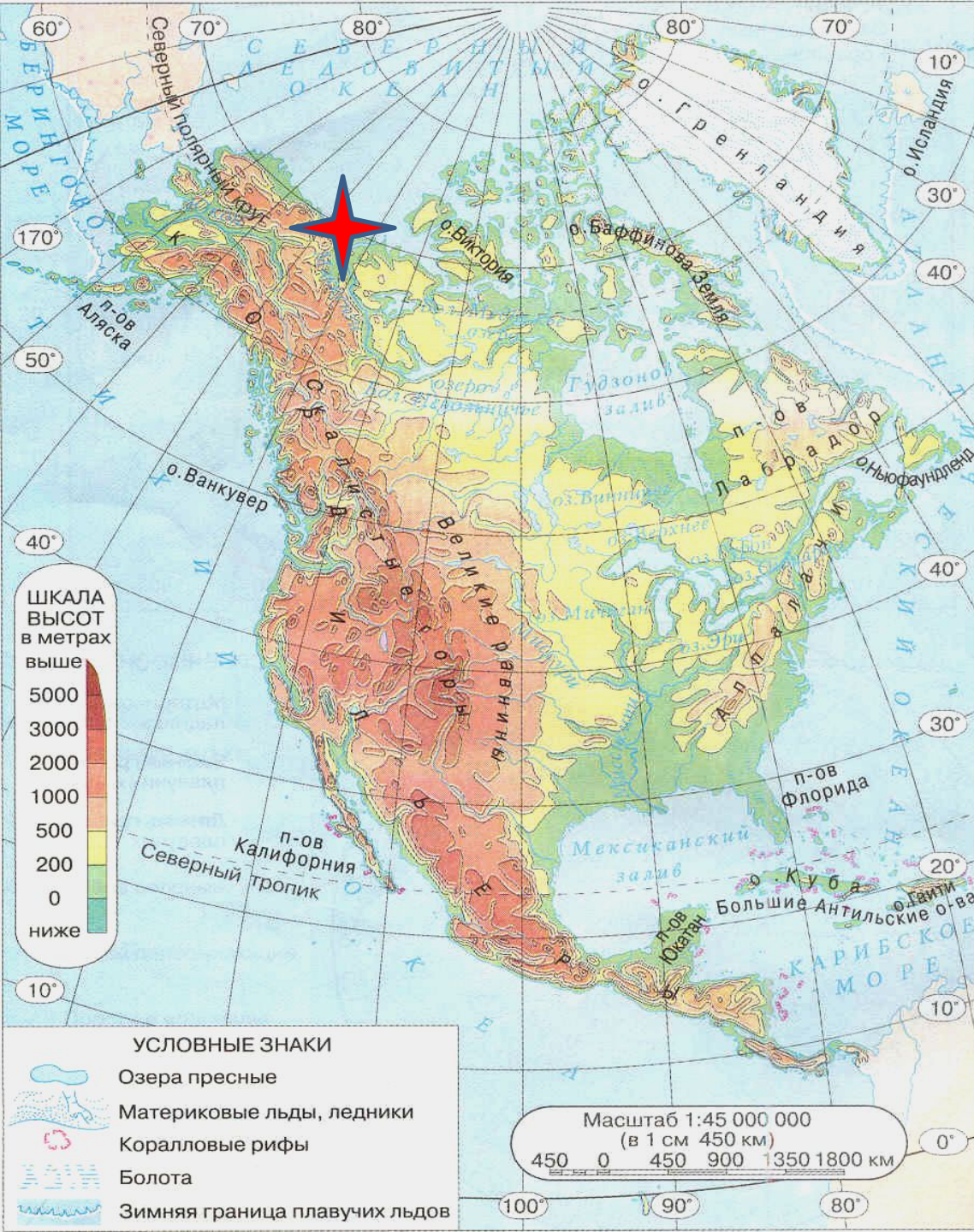


Витус Беринг



Алексей Чириков

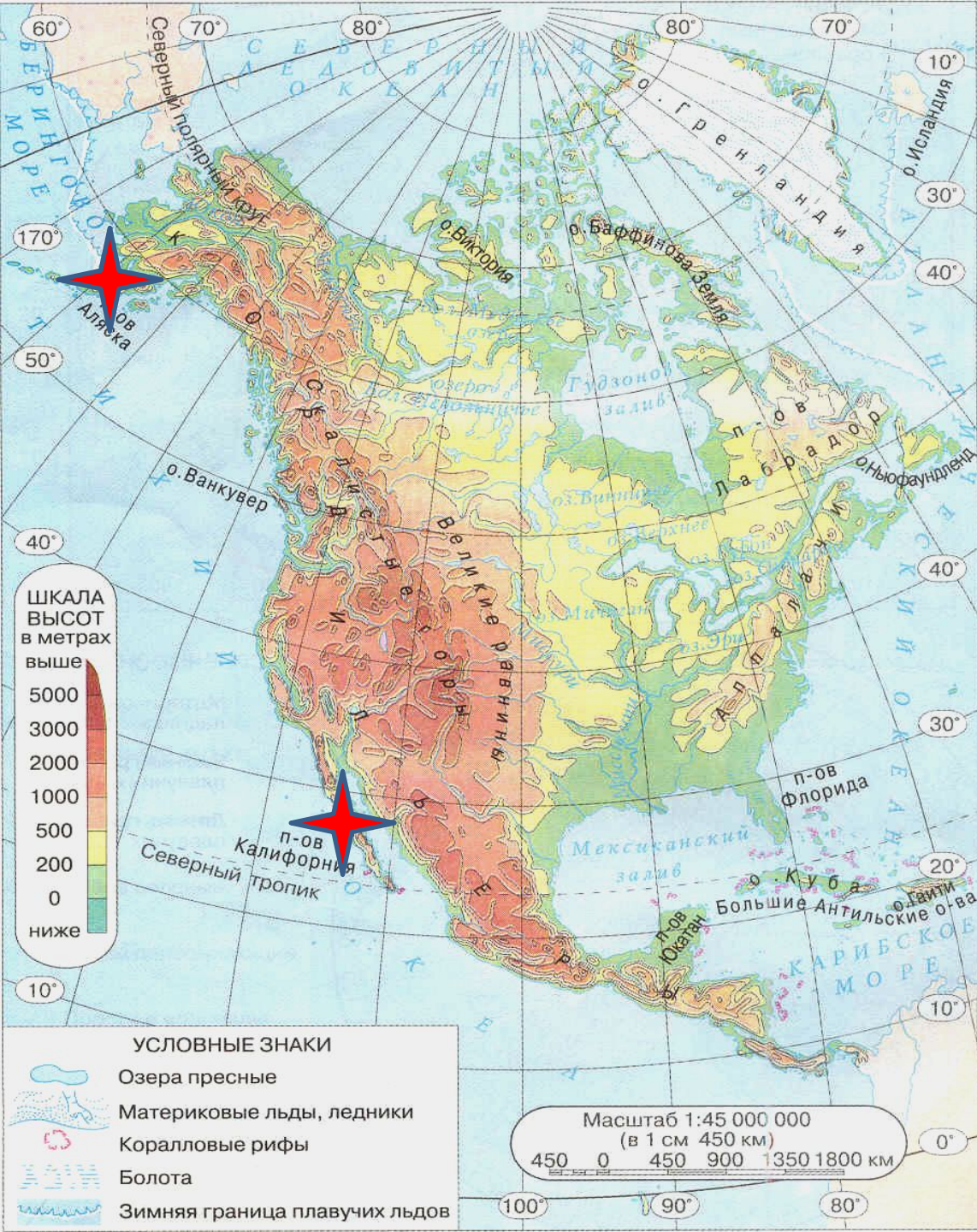
**(1725 – 1730;
1733 – 1741 г.)**



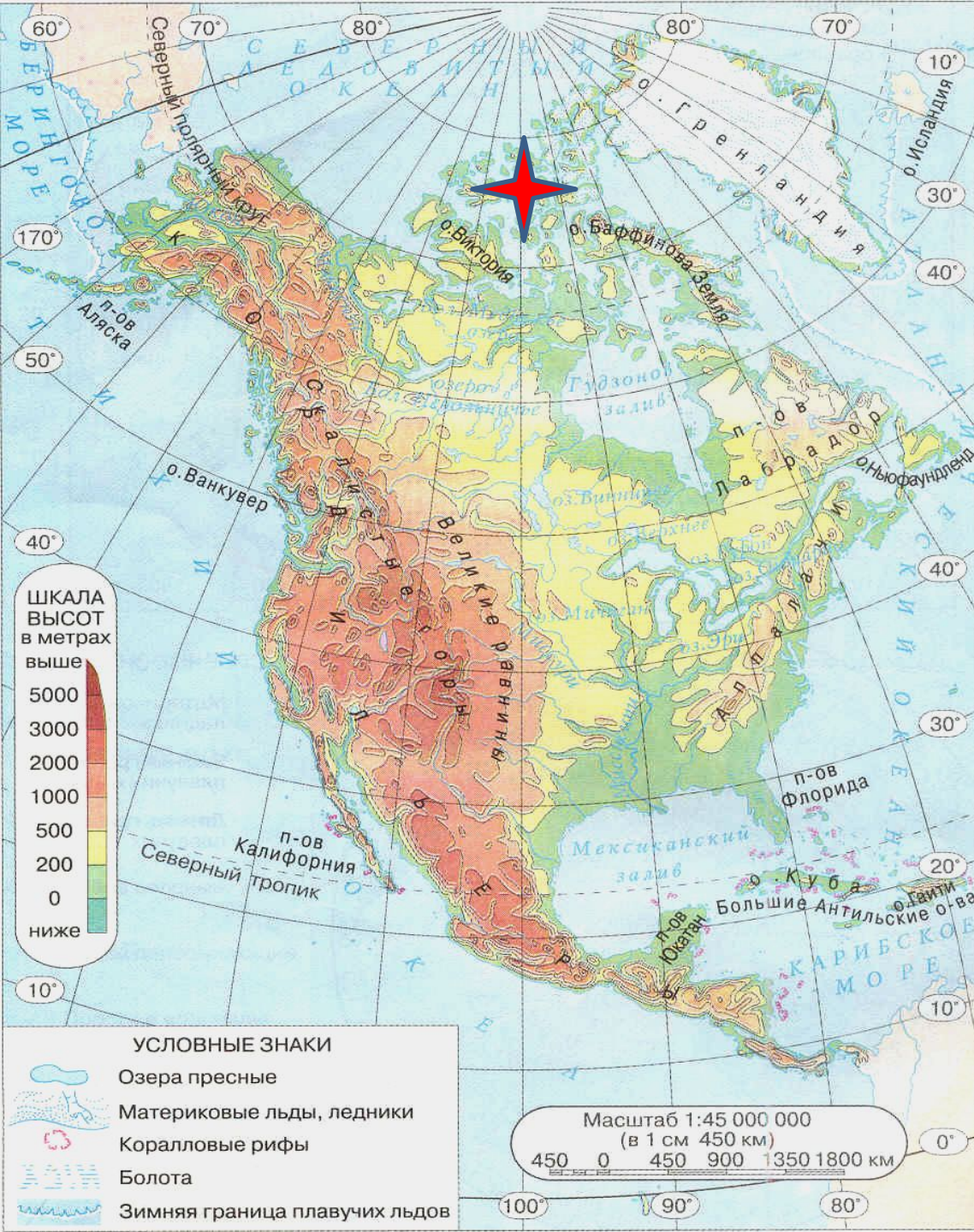
**Александр
 Макензи
 (17 – 18 века)**



**Григорий
Шелехов
(1783 – 1786 г.)**



**Лаврентий
Загоскин
(19 век)**



**Рауль
Амундсен
(нач. 20 века)**

Знаешь ли ты

карту?

1. Какой залив севернее Мексиканский или Гудзонов?
2. Какое море восточнее Лабрадор или Берингово?
3. Где находится остров Гренландия: с севера или юга от
Северной Америки?
4. Какой полуостров южнее Флорида или Юкатан?
5. Берингов пролив разделяет Северную Америку с
Южной Америкой или Евразией?

**Найди на карте имена
путешественников...**

**Гудзон Генри
Барроу Джон
Врангель Фердинанд Петрович
Баффин Уильям
Беринг Витус Ионассен
Александр Маккензи**