

НАСЕЛЕНИЕ ИРКУТСКОЙ ОБЛАСТИ

Презентацию выполнила Тетерева Ольга Ивановна, учитель географии МБОУ Молькинская СОШ Усть-Удинского района.

Содержание слайдов и задания презентации составлены по учебному пособию «География Иркутской области (природа, население, хозяйство, экология)», авторы В.М. Бояркин, И.В. Бояркин, год издания 2011.

ЦЕЛЬ УРОКА

- Знать особенности различных показателей по населению области;
- Читать и анализировать картографические и статистические материалы; объяснять различия по показателям; формулировать выводы, составлять схемы;
- Прививать интерес к географии своей малой Родины – воспитание российской гражданской идентичности.



ЧИСЛЕННОСТЬ НАСЕЛЕНИЯ

(по данным переписи населения 2010г.)

2428,75 тыс. чел.

1,9%

населения
РФ – 14-е
место

30%

Восточно-
Сибирского
ЭР

5-е место в
Сибирском
ФО



ОТЧЕГО ЗАВИСИТ ЧИСЛЕННОСТЬ НАСЕЛЕНИЯ?

- От показателей Р, С, ЕП → от социально-экономических условий
- От механического движения населения → въезда и выезда



1960-1980-е г.г. → индустриализация → комсомольские стройки

Задание: назвать стройки на территории ИО (в СССР)



АНАЛИЗ ТАБЛИЦЫ «ЕСТЕСТВЕННОЕ ДВИЖЕНИЕ НАСЕЛЕНИЯ ЗА 1970-2010Г.Г.»

- 1) Какие изменения по показателям ЕП происходили с 1970г. по 1990г.?
- 2) В чем особенность показателей ЕП с 1995г. по 2007г.?
- 3) Происходят ли изменения в показателях ЕП с 2008г.?
- 4) Сравнить показатели ЕП с показателями Р, С по указанным периодам
- 5) Назовите причины изменений в естественном движении населения.
- 6) Происходили изменения в механическом движении населения в указанные периоды?



ЧИСЛЕННОСТЬ НАСЕЛЕНИЯ АДМИНИСТРАТИВНЫХ РАЙОНОВ ИО (АНАЛИЗ ТАБЛИЦЫ №3 «ЧИСЛЕННОСТЬ НАСЕЛЕНИЯ АДМИНИСТРАТИВНЫХ РАЙОНОВ ИО»)

- 1) Выпишите три самых крупных по численности населения района ИО
- 2) Выпишите три самых малочисленных районов ИО
- 3) Сравните полученные данные с данными по размерам площади районов
- 4) Сформулируйте и запишите вывод о соотношении размеров территории районов и численностью населения в них



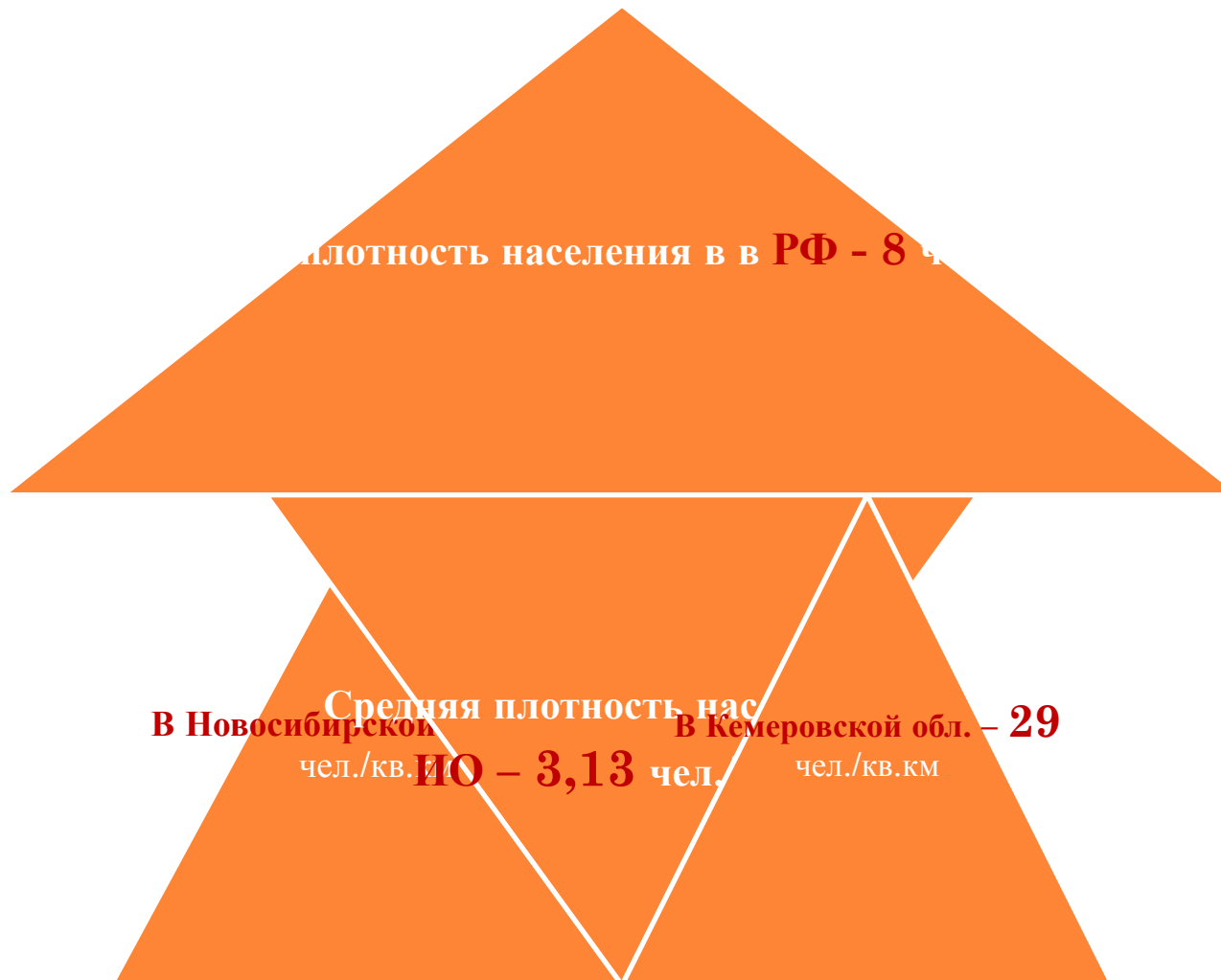
РАЗМЕЩЕНИЕ НАСЕЛЕНИЯ.

ВЫПОЛНИТЕ ЗАДАНИЕ

- 1) Проведите анализ карты плотности населения ИО. Сделайте вывод о размещении населения ИО.
- 2) Сравните полученные данные с данными по размещению населения в тексте учебника.
- 3) На административной карте в атласе найдите территории, указанные в тексте учебника.
- 4) С чем связано неравномерное размещение населения по территории области?



СРЕДНЯЯ ПЛОТНОСТЬ НАСЕЛЕНИЯ



НАЦИОНАЛЬНЫЙ СОСТАВ – 172 НАЦИОНАЛЬНОСТИ

2144 тыс. чел.
88,3%
русские

77,7 тыс. чел.
3,2% буряты

30,8 тыс. чел.
1,2% украинцы

22,8 тыс. чел.
татары 7,9 тыс. -
белорусы

Армяне, узбеки,
таджики, киргизы,
азербайджанцы,
немцы, поляки,
китайцы и др.

▣ **Задание:**

Назовите, какие малочисленные народы проживают на территории ИО. Покажите на карте места их проживания.




МАЛОЧИСЛЕННЫЕ НАРОДЫ ИО

Эвенки



Тофалары (тофы)



РЕЛИГИОЗНЫЕ КОНФЕССИИ.

ВЫПОЛНИТЕ ЗАДАНИЕ

- Задание №1. С помощью текста учебника определите, что обозначают следующие цифры:

250 – 35; 70; 75%.

- Задание №2. С помощью текста учебника ответьте на вопросы:

1) Какими тремя направлениями представлено в области православие?

2) Как вы думаете, к каким религиям относятся остальные 25% верующего населения?



РЕЛИГИОЗНЫЕ КОНФЕССИИ

- **Проверяем!**
- 250 религиозных организаций и групп в настоящее время насчитывается в ИО; **35** – насчитывалось в 1990г.
- 70 религиозных организаций зарегистрировано по состоянию на 1 января 2011г.
- **Три направления православия:**
 - 1) приходы Иркутской митрополии Русской Православной Церкви Московского Патриархата
 - 2) Старообрядческая община
 - 3) Община Древлеправославной традиции



РЕЛИГИОЗНЫЕ КОНФЕССИИ

□ Проверяем! Религии

Христианство

Мусульманство


Буддизм

□ *Примечание:*
религия
христианство
представлена
ветвью
православие, но
есть и
представители
других ветвей
этой религии,
например,
католики.



РЕЛИГИЯ В ИРКУТСКОЙ ОБЛАСТИ

Казанский собор в Иркутске



Католический собор в Иркутске



Куленков Д.В. ©



ГОРОДСКОЕ И СЕЛЬСКОЕ НАСЕЛЕНИЕ ИО

(АНАЛИЗ ДАННЫХ ТАБЛИЦЫ)

	1913 год	2010 год
Городское население	70 тыс. человек 10,2%	1932,3 тыс. человек 79,1%
Сельское население	617 тыс. человек 89,8%	496,4 тыс. человек 20,9%
Количество городов	7	22



ГОРОДСКОЕ И СЕЛЬСКОЕ НАСЕЛЕНИЕ ИО

Дополнительное задание по таблице

- **№1.** По данным таблицы *определите*, сколько человек составляла общая численность населения в 1913г. и в 2010г. Какие изменения произошли по показателям общей численности населения?
- **№2.** *Ответьте на вопрос:* в чем причины изменения соотношения состава городского и сельского населения, увеличения численности городов?



ГОРОДСКОЕ И СЕЛЬСКОЕ НАСЕЛЕНИЕ ИО

- №3. С помощью текста учебника (подзаголовков «Городское и сельское население») *дополните предложение:*

По высокому удельному весу городского населения ИО занимает ... в ВС, ... в Сибири, ... в России.

- №4. Объясните следующую схему, выражающее взаимосвязь явлений:

**высокий процент городского населения →
высокоразвитая индустриальная
административная единица России. Относится ли
это утверждение к ИО?**



ПОЛОВОЙ СОСТАВ НАСЕЛЕНИЯ

Год 6861

На 1000 мужчин

1065 женщин

Год 7007

На 1000 мужчин

1135 женщин

2010 год

На 1000 мужчин

1189 женщин



ПОЛОВОЙ СОСТАВ НАСЕЛЕНИЯ.

Это ИНТЕРЕСНО!

- Статистика показывает: среди новорожденных – превосходство мужского пола над женским, это соотношение сохраняется до возраста около 40 лет. В возрасте старше трудоспособного – женщин больше, чем мужчин (в соответствии с данными учебника, подзаголовок «Половой состав»).
- *Вопрос: Как вы думаете, почему происходят такие изменения в половом составе населения?*



ПОЛОВОЙ СОСТАВ НАСЕЛЕНИЯ

Задание.

- Выявить (по тексту учебника, подзаголовков «Половой состав»):
 - а) какова средняя продолжительность жизни населения области,
 - б) какие изменения прослеживаются по этому показателю,
 - в) каково соотношение по данному показателю между мужчинами и женщинами, областью и Россией.
- Записать полученные данные в виде схемы.



ПОЛОВОЙ СОСТАВ НАСЕЛЕНИЯ.

СХЕМА ПО ПРЕДЫДУЩЕМУ ЗАДАНИЮ

Средняя продолжительность жизни
населения ИО



в 2011г. < ЧЕМ В 1990г.



65,5 лет → российский показатель – 68
лет

	ИО	Россия
м	59 лет	62 года
ж	72,1 лет	74 года



ТРУДОВЫЕ РЕСУРСЫ



Люди трудоспособного возраста:
от 16 лет → до 55 - женщины
↘ до 60 – мужчины



пенсионеры, подростки, занятые в
производстве

Наиболее работоспособные – люди в
возрасте от 25 до 50 лет



ТРУДОВЫЕ РЕСУРСЫ

Трудовые ресурсы
зависят

От **численности** населения
и **структуры** населения

Важное в структуре населения
→ **возраст, пол,**
профессионализм,
образование



ТРУДОВЫЕ РЕСУРСЫ.

ОТВЕТЬТЕ НА ВОПРОСЫ (ИСПОЛЬЗУЯ ТЕКСТ УЧЕБНИКА)

- 1) Удовлетворяются ли потребности производства в рабочей силе в Иркутской области?
- 2) Как миграции влияют на изменение этого показателя?
- 3) По показателям, приведенным в таблице 6 «Численность населения и трудовые ресурсы», проследите зависимость трудовых ресурсов от численности населения.
- 4) В каких отраслях производства занята большая часть работающего населения? Используйте для ответа данные таблицы 7 «Среднегодовая численность работников организаций по видам экономической деятельности»



ТРУДОВЫЕ РЕСУРСЫ.

ОТВЕТЬТЕ НА ВОПРОСЫ (ИСПОЛЬЗУЯ ТЕКСТ УЧЕБНИКА)

- 5) Каковы показатели численности безработных области? Какие изменения происходят?
- 6) Составьте краткое описание ситуации по средней месячной заработной плате.
- 7) Сделайте вывод о трудовых ресурсах области, о материальном состоянии населения области.

