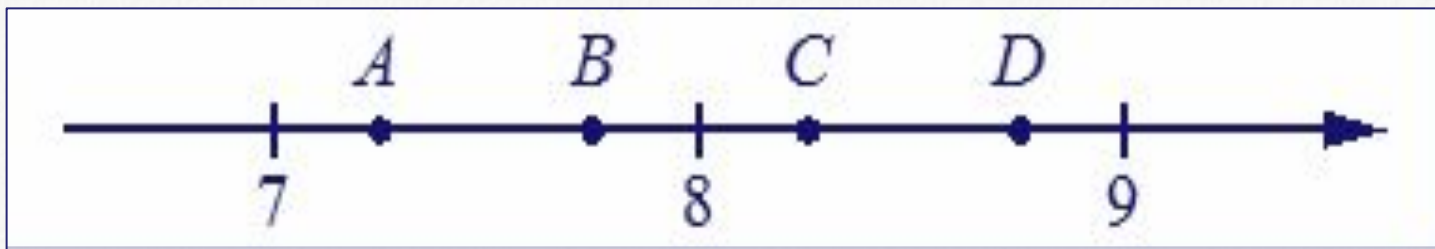


**Математика учит точности
мысли, подчинению логике
доказательства, понятию строго
обоснованной истины, а всё это
формирует личность, пожалуй,
больше, чем музыка.**

Александр Александров



**На координатной прямой отмечены точки
A, B, C и *D*.**



**На координатной прямой отмечены точки
A, B, C и *D*.**

На координатной прямой отмечены точки
A, B, C и *D*.

На координатной прямой отмечены точки
A, B, C и *D*.

На координатной прямой отмечены точки
A, B, C и *D*.

На координатной прямой отмечены точки
A, B, C и *D*.



Установите соответствие между функциями и их графиками

функции

На координатной прямой отмечены точки

A, B, C и D .

На координатной прямой отмечены точки

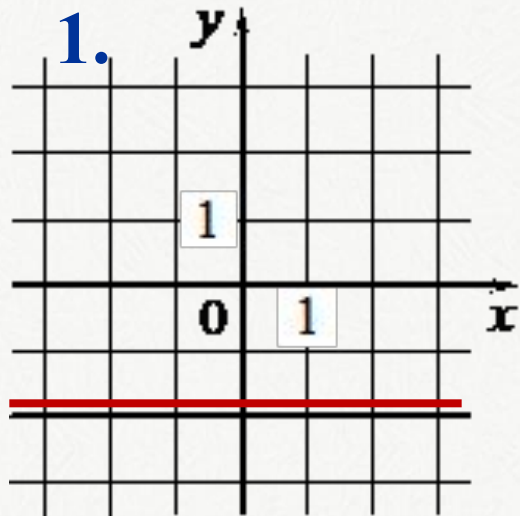
A, B, C и D .

На координатной прямой отмечены точки

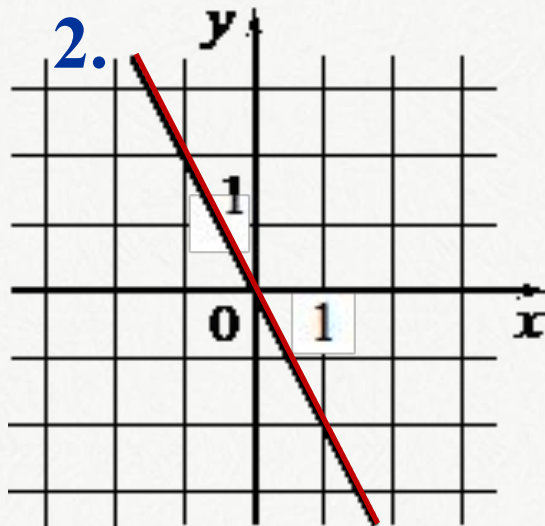
A, B, C и D .

графики

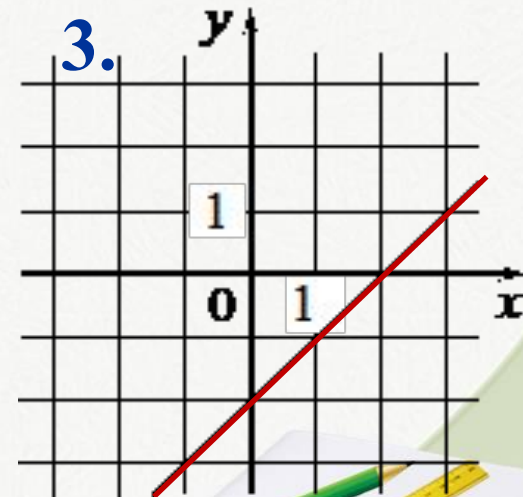
1.



2.



3.



A	B	B
1	3	2



Решение задач

№№ 376, 383 (б, г, е, з)

№№ 384 (в, г), 385 (б, г, е, з)

№№ 386 (г, д), 387 (б, г, е, з)



Домашнее задание

№№ 377, 383 (а, в, д, ж)

№№ 384 (а, б), 385 (а, в, д, ж)

№№ 386 (а – в), 387 (а, в, д, ж)

