

Материк Евразия

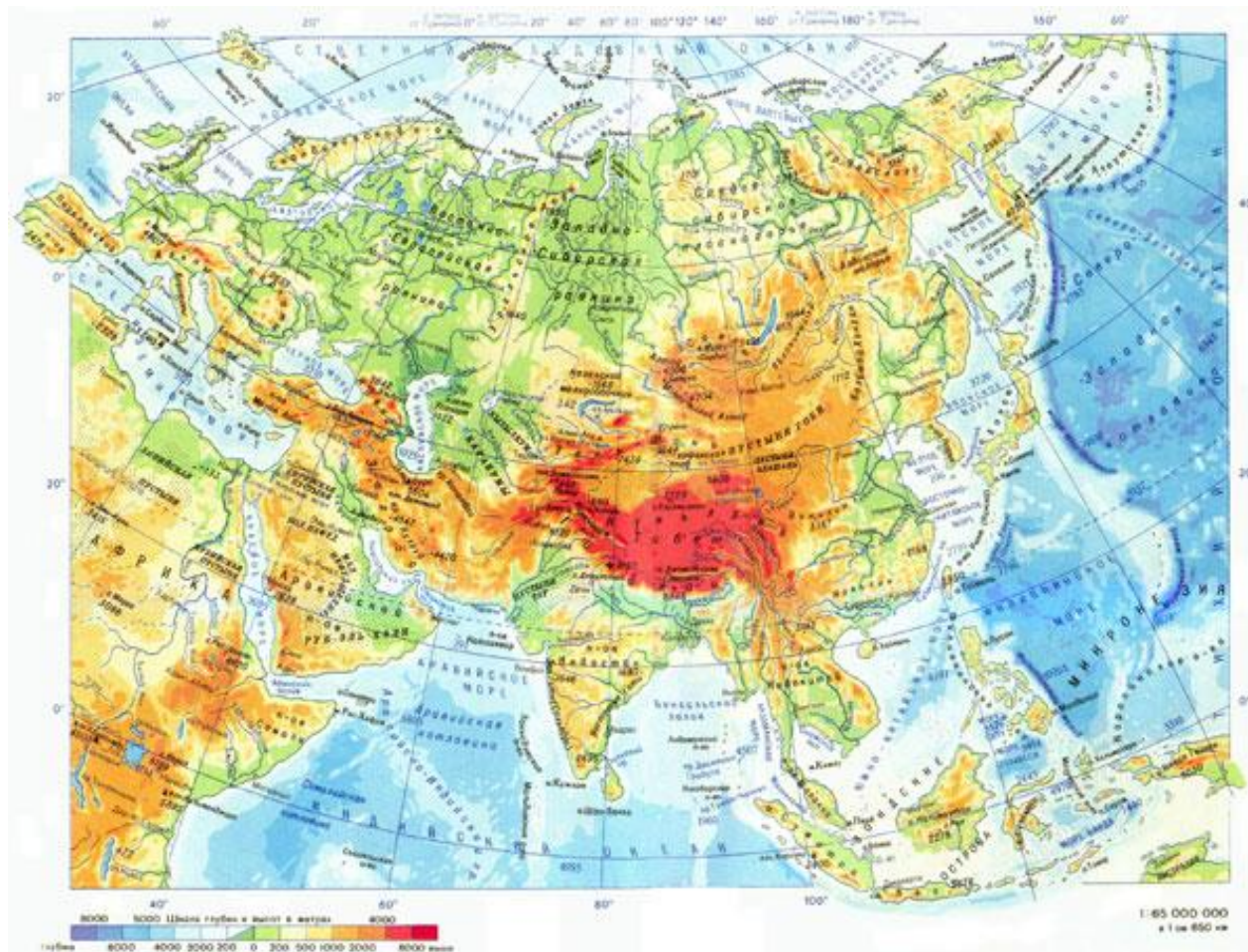
Обобщение

География 7 класс

Учитель: Ключева Н. Л.



Евразия



Разминка

1. Название какого острова на карте Европы буквально означает «Ледяная земля»?
2. Назовите самый крупный остров Японии.
3. Какая самая крупная река протекает в азиатской части материка Евразия?
4. Назовите одну из самых больших пустынь в мире, простирающуюся от гор Алтая и Тянь-Шаня на западе до Северокитайского плато на востоке?
5. Назовите самое крупное озеро Евразии.

Укажите лишнее

1. Волга, Урал, Нева, Сырдарья
2. Индостан, Индокитай, Сахалин, Скандинавский
3. Баренцево, Охотское, Чукотское, Белое
4. Фудзияма, Ключевская Сопка, Килиманджаро, Везувий
5. Альпы, Карпаты, Анды, Пиренеи

Угадай природную зону

- Среди трав наиболее распространены различные злаки. Растения приспособлены к климатическим условиям: многие из них успевают вырасти, зацвести и дать плоды до наступления летнего сухого периода. Среди животных преобладают грызуны – суслики, сурки, которые на зиму впадают в спячку, полевые мыши. Крупные животные не сохранились.

Угадай природную зону

- В этих лесах растут вечнозелёные деревья – магнолия, камелия, камфарный лавр. У них жёсткие кожистые листья, иногда, они выделяют душистые эфирные масла, что уменьшает испарение. Часто встречается бамбук. Диких животных здесь мало, так как эта зона широко освоена человеком. На месте сведённых лесов население выращивает рис, чайный куст, цитрусовые.

Угадай природную зону

- Эти леса занимают большую часть Западной Европы, юг Дальнего Востока, север Китая и Японию. Подходящим для них является морской климат или умеренно-континентальный с жарким летом и достаточно теплой зимой. Почва плодородная, богатая гумусом. Характерны следующие виды деревьев: ясень, каштан, дуб, граб, бук, клен, вяз. Очень богаты леса млекопитающими (копытные, грызуны, хищники), птицами, в том числе промысловыми

Угадай природную зону

- Эта зона характеризуется исключительной суровостью природы. Практически вся ее территория занята многолетними мощными ледниками. В редком и бедном растительном покрове господствуют мхи, лишайники. На юге зоны уже начинают встречаться приземистые кустарнички - полярные ивы, березы, брусника, и пр. В этой зоне обитает не так уж много видов животных. Это: песец, белый медведь, лемминг. На многих островных территориях нет и этих животных. Здесь обитают только морские водоплавающие млекопитающие.



Угадай природную зону

- Эта природная зона представлена, в основном, на побережьях Индокитая и Индостана. Животный мир здесь очень богат — тигры, слоны, буйволы, носороги, олени, антилопы, обезьяны. Эти территории в основном засажены травянистыми растениями, но встречаются и настоящие рощи из индийского банана, пальм, акаций. Есть и ценные виды, например, саловое и тиковое дерево, из которых получают дорогие, редкие сорта древесины.

Найди соответствие – Страна - столица

Испания

Анкара

Индонезия

Киев

Португалия

Кабул

Иран

Джакарта

Украина

Тегеран

Турция

Лиссабон

Беларусь

Мадрид

Афганистан

Минск

Определи страну по описанию:

- Это островное государство находится в Индийском океане.
- Природа богата представителями растительного и животного мира. Так как находится в субэкваториальном климатическом поясе.
- На весь мир славится чаем. Столица – Коломбо.
- Это -

Определи страну по описанию:

- Государство Зарубежной Европы.
- Соседями этого государства являются: на северо-востоке – Франция, на западе – Португалия. Омывается на востоке Средиземным морем.
- Государство дало миру великого путешественника и первооткрывателя – Христофора Колумба.
- Это -

Определи страну по описанию:

- Это островное государство Восточной Азии. До XVII века было закрытым государством. Население однонационально по составу.
- Государство бедное по набору и количеству полезных ископаемых, но развито в промышленном отношении: производят автомобили, роботы, аудиотехнику, бытовые приборы.
- Страна дала миру искусство составления букетов, выращивания и обрезки карликовых растений, одежду кимоно.
- Это -

Определи страну по описанию:

- Островное государство Западной Европы.
- До XVIII века эта страна была великой колониальной державой, ей принадлежали: Австралия, Новая Зеландия, Индия, ЮАР, Ангола.
- Язык этой страны считается языком межнационального общения.
- Это -

Определи страну по описанию

- В недрах этой страны скрывается четверть мировых запасов нефти и газа. Страна занимает первое место по добыче нефти, опережая Россию, США.
- Это малонаселённое королевство занимает большую часть огромного пустынного полуострова.
- Страна стала суверенным государством только в 1932 году, как король Абдель Азиз ибн Сауд подчинил десятка два воинственных племён.
- Это -

Найдите соответствие «Религия – страна»

Италия

Индуизм

Китай

Православие

Иран

Синтоизм

Россия

Япония



Католицизм

Индия

Ислам

Конфуцианство

Задание 8. Где находятся эти достопримечательности?



Великобритания

Германия

Китай

Италия

Франция