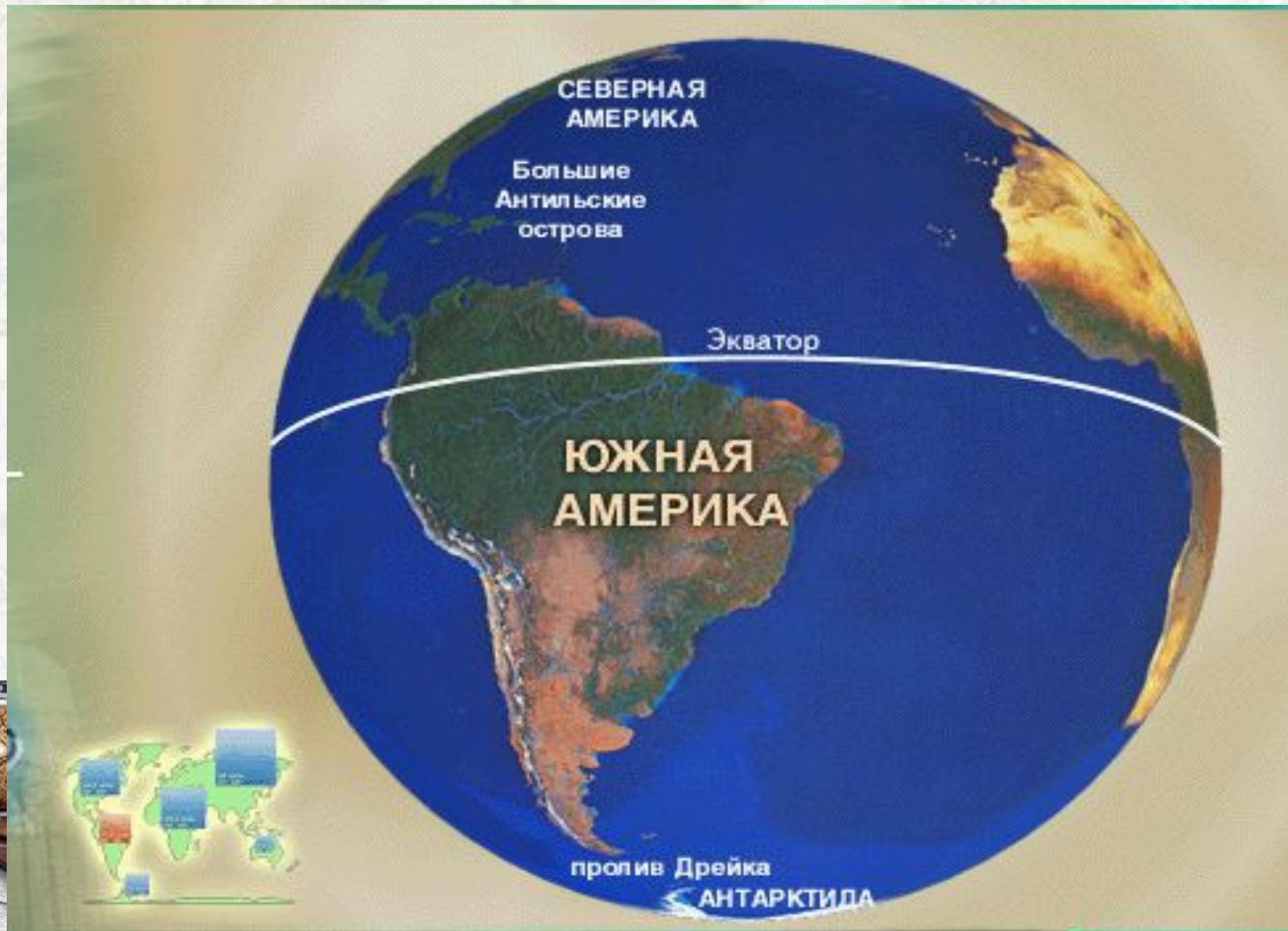
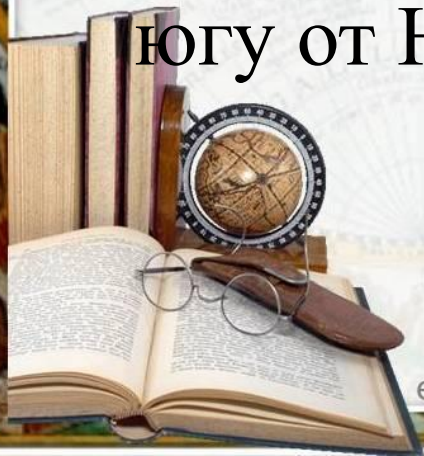


Путешествие по Южной Америке



1. Выберите верное утверждение:

- А. Южная Америка находится только в Южном полушарии;
- Б. Крайняя северная точка Южной Америки – мыс Гальинас;
- В. Восточное побережье Южной Америки омывает Тихий океан;
- Г. Большая часть Южной Америки лежит к югу от Южного тропика.



2. Выберите верное утверждение:

- A. Восточное побережье Южной Америки омывает Атлантический океан;
- B. Ближе всех материков к Южной Америке находится Антарктида;
- C. Береговая линия Южной Америки сильно изрезана;
- D. По площади материк Южная Америка занимает третье место.



3. Выберите верное утверждение:

Южную Америку отделяет от Антарктиды широкий пролив:

A. Магелланов;

B. Дарданеллы;

C. Берингов;

D. Дрейка.



3. У западных берегов Южной Америки проходит холодное течение:

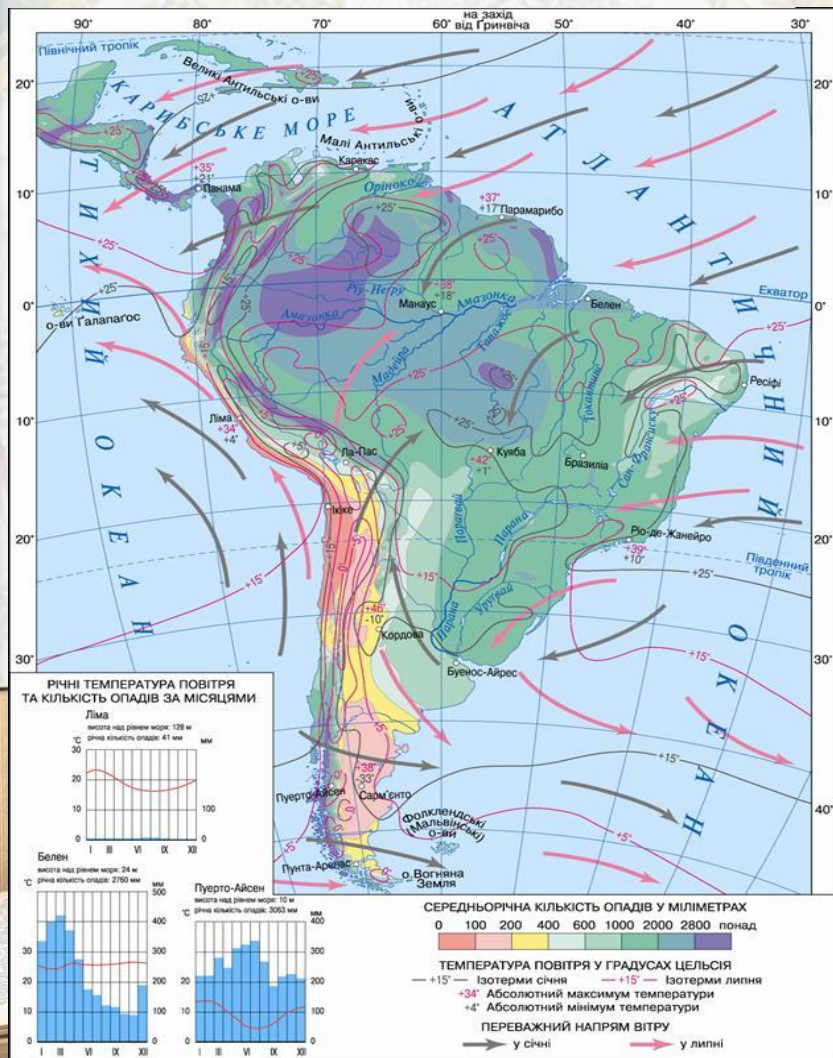
- А. Фолклендское
- В. Гвианское
- С. Бразильское
- Д. Перуанское



1. Дайте характеристику географического положения материка Южная Америка.



Объясните, почему у западных берегов Южной Америки осадков выпадает до 100 мм, а на восточных более 2000 мм



Разгадаешь ребус и узнаешь новую тему урока



+ И Я



Какую цель мы сможем поставить сегодня на уроке?

1. Ознакомиться с государством Бразилия.
2. Охарактеризовать рельеф государства.
3. Изучить растительный и животный мир.
4. Выявить особенности населения.

Задачи урока:

Продолжить работу с: картами,
дополнительным материалом.



Официальное название: Федеративная Республика Бразилия, (бывшая колония Португалии).

Столица: Бразилиа

Общая площадь: 8512 тыс.кв.км. (вместе с островами).

Население: примерно 190 млн. человек





Флаг Бразилии представляет собой зелёное полотнище с жёлтым ромбом в центре. Внутри ромба находится тёмно-синий круг с 27 белыми звёздами. Круг пересечён лентой с национальным девизом Бразилии — «Ordem e Progresso» (с порт. «Порядок и прогресс»). Зелёный и жёлтый — национальные цвета Бразилии. Зелёный цвет символизирует лесные богатства Амазонии, а жёлтый — запасы золота.

Расположение звёзд на флаге изображает небо над Рио-де-Жанейро утром в 9 часов 22 минуты 43 секунды 15 ноября 1889 — в момент провозглашения Бразильской республики. Каждому из 26 штатов, а также Федеральному округу, соответствует своя звезда.

Герб Бразилии состоит из центральной эмблемы, обрамлённой ветвями кофейного дерева с левой стороны и табака с правой, это важные сельскохозяйственные культуры Бразилии. В голубом круге в центре изображено созвездие Южный крест. 27 звёзд возле него означают 26 штатов Бразилии. Голубая лента содержит полное официальное название государства (*República Federativa do Brasil* — Федеративная Республика Бразилия) в первом ряду. Во втором указана дата основания федеративной республики (15 ноября 1889 года).

elenaranko.ucoz.ru







Название страны	Площадь в млн. кв. км	Численность населения в млн. чел.
Колумбия	1,14	38,5
Венесуэла	0,912	23,7
Эквадор	0,284	12,5
Перу	1,28	25
Боливия	1,1	8,3
Чили	0,76	15,3
Бразилия	8,5	195
Парагвай	0,407	5,7
Уругвай	0,18	3,5
Аргентина	2,8	36,5

Таблица №2

Название страны	Площадь в млн. кв. км
Россия	17,1
Канада	10
Китай	9,6
США	9,4
Бразилия	8,5
Австралия	7,6
Индия	3,2

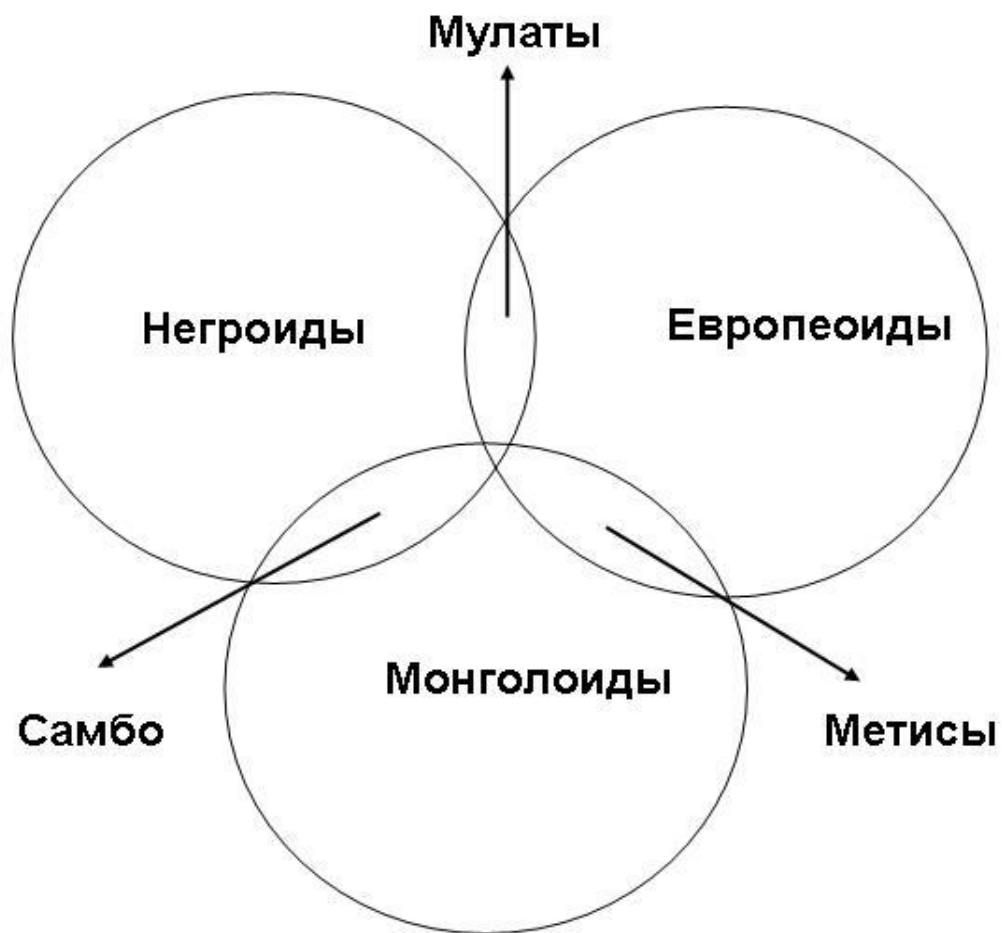
Таблица №3

Название страны	Численность населения в млн. чел.
Китай	1335
Индия	1098
США	298
Индонезия	245
Бразилия	195
Пакистан	166
Бангладеш	147

- Большинство жителей современной Бразилии это индейцы и потомки приплывших туда много-много лет назад европейцев. Говорят в Бразилии на португальском языке.



Состав населения Бразилии



Что вы знаете о Бразилии?

- С какими государствами граничит
- Каков рельеф?
- Какие реки протекают?
- Каков животный мир.
- Традиции населения Бразилии.



Практическая работа

При выполнении работы пользуйтесь комплексной картой Южной Америки

	№1	№2	3№
Определить продукт			
Из какой сельскохозяйственной культуры его получают			
Выращивают ли эти культуры в Бразилии			

Практическая работа

	№1	№2	№3
Какое это зерно			
Выращивают ли эти зерновые культуры в Бразилии			
Какие климатические условия для этого необходимы?			



Практическая работа

	№1	№2	№3
Какие из этих животных имеются в Бразилии?			
Какие природные условия необходимы для их разведения?			
Как используют реки в Бразилии?			

Домашнее задание

1. П 39 стр 158

2. Вопросы с 1-5.

3. Рисунки - Животные Бразилии с характеристикой.

4. Презентация о Рио-де Жанейро.



Интернет – ресурсы

http://www.photo.yarkiyimir.ru/upload/photos/14757/big_1307714712.jpg

карта

<http://cs304111.userapi.com/v304111326/26a5/ONlcubsfLOM.jpg> книги

Вы можете использовать данное оформление
для создания своих презентаций,
но в своей презентации вы должны указать
источник шаблона:

