

**ПРОГРАММА MICROSOFT
EXCEL КАК ИНСТРУМЕНТ
ДЛЯ ОСУЩЕСТВЛЕНИЯ
МЕЖПРЕДМЕТНЫХ
СВЯЗЕЙ**



Касаясь трех великих океанов,
Она лежит, раскинув города,
Покрыта сеткою меридианов,
Непобедима, широка, горда...
Константин Симонов

Задание 1: Постройте круговую диаграмму, используя таблицу «Площади стран»



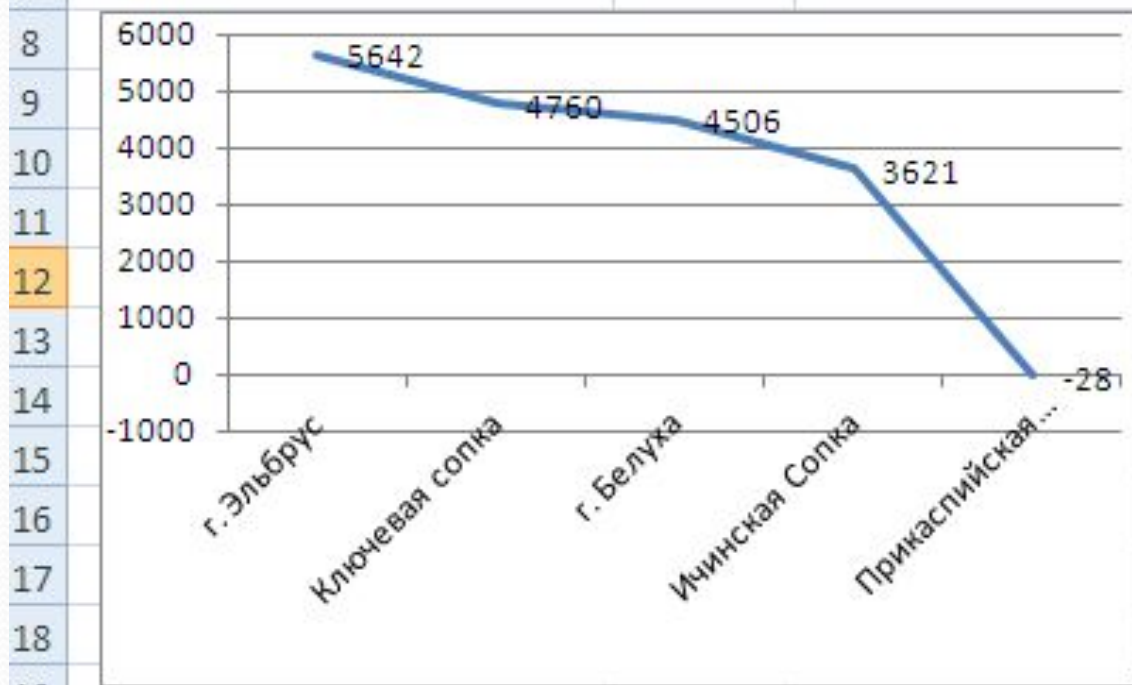
Задание 2: Используя карты атласа, найдите и заполните таблицу «Крайние точки России».

№ группы	Вид крайней точки	Название
1.	Материковая северная	мыс Челюскин
2.	Материковая южная	гора Базардюзю
3.	Материковая западная	Балтийская коса
4.	Материковая восточная	мыс Дежнева
5.	Островная северная	мыс Флигели
6.	Островная восточная	о. Ратманова

Задание 3: Постройте график высот, определите наивысшую точку России, используя карты атласа, таблицы учебника

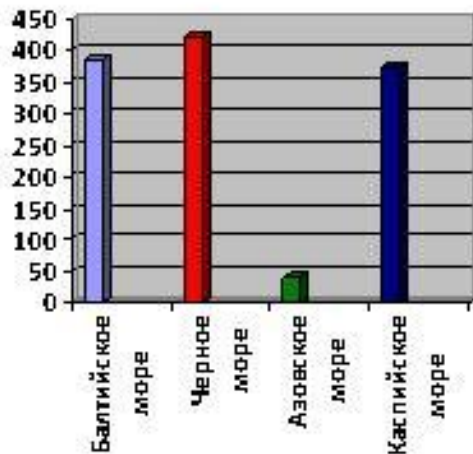
№ группы	Название высоты	Высота в метрах	Местоположение
1	г. Эльбрус		
2	Ключевская Сопка		
3	г. Белуха		
4	г. Победа		
5	Ичинская Сопка		
6	Прикаспийская низменность		

	A	B	C
1	Название	Высота	Месторасположение
2	г. Эльбрус	5642	Кавказ
3	Ключевая сопка	4760	Камчатка
4	г. Белуха	4506	Алтай
5	Ичинская Сопка	3621	Камчатка
6	Прикаспийская низменность	-28	Каспийское море



Задание 4: Выпишите моря, которые омывают берега России. Определите к бассейнам каких океанов они относятся. Постройте столбчатую диаграмму с обозначением глубин

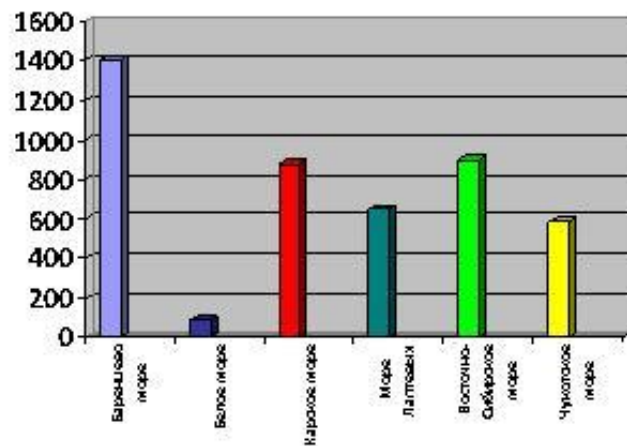
Атлантический океан



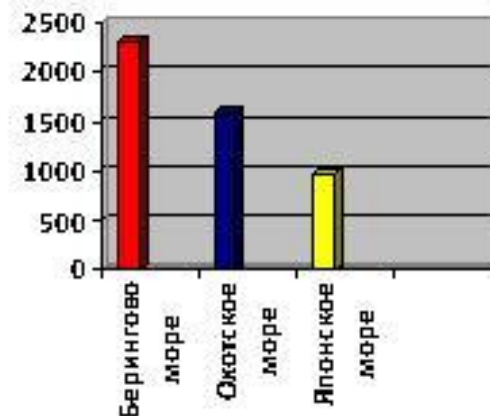
1-2 группа

3-4 группа

Северный ледовитый океан



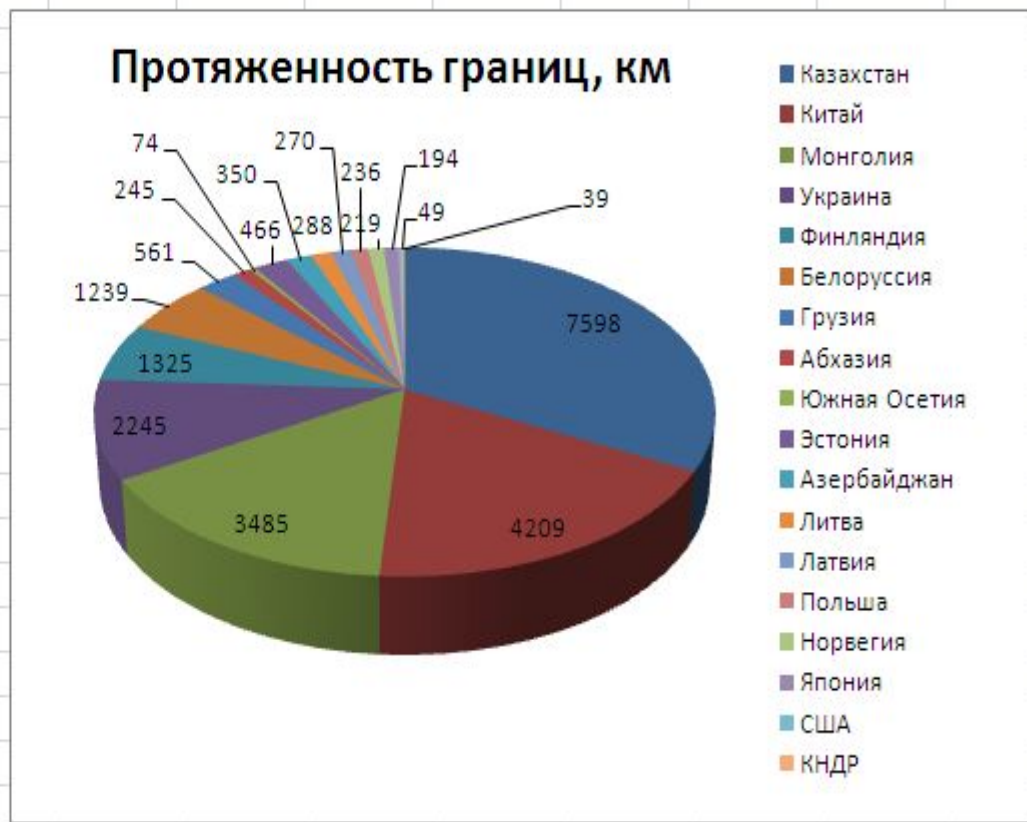
Тихий океан



5-6 группа

Задание 5: Используя данные таблицы, постройте круговую диаграмму, которая характеризует протяженность границ России

	A	B	C	D	E	F	G	H	I	J	K
1	Название страны	Протяженность границ, км									
2	Казахстан	7598									
3	Китай	4209									
4	Монголия	3485									
5	Украина	2245									
6	Финляндия	1325									
7	Белоруссия	1239									
8	Грузия	561									
9	Абхазия	245									
10	Южная Осетия	74									
11	Эстония	466									
12	Азербайджан	350									
13	Литва	288									
14	Латвия	270									
15	Польша	236									
16	Норвегия	219									
17	Япония	194									
18	США	49									
19	КНДР	39									




Задание 6. Уникальные объекты России



о. Байкал



Урочище Аккурум
(каменные грибы)



Дивногорье



Чарские пески (Забайкалье)



Ленские столбы



вулкан Ключевская
Сопка

Задание 7. Используя данные из домашнего задания, заполните таблицу

Название уникального объекта	Географическое положение	В чем уникальность объекта

Темы уроков с использованием ИКТ

1. Формы рельефа земной коры. 6 класс
2. Мировой океан. 6 класс
3. Африка. 7 класс
4. Природные зоны России. 8 класс
5. Почвы России. 8 класс



**Спасибо за
внимание!**