

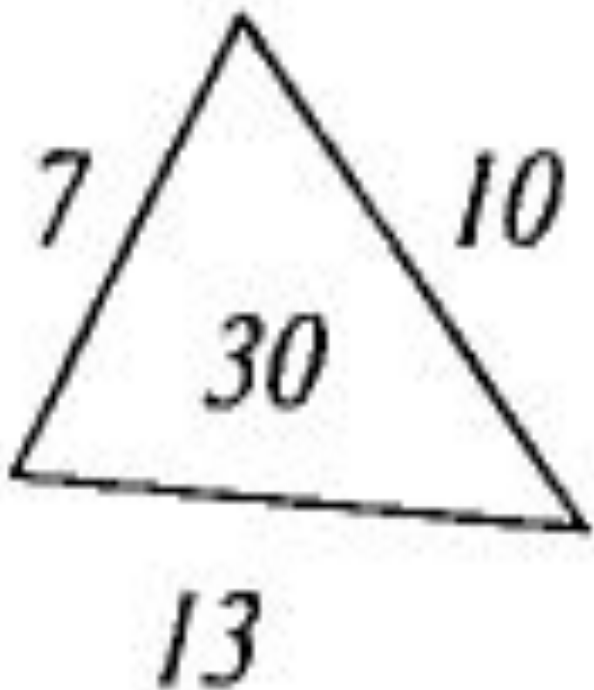


ОКРУЖНОСТЬ



Запомни



Д л и н а

Округлите число

3,1415926

ДО ДЕСЯТИТЫСЯЧНЫХ

3,142 - н; 3-д; 4- м; 3,141- т; 3,15- к;

3,2- е; 3,1415- р; 3,1416 - а; 3,14 -и; 3,1-л;

Длина окружности.




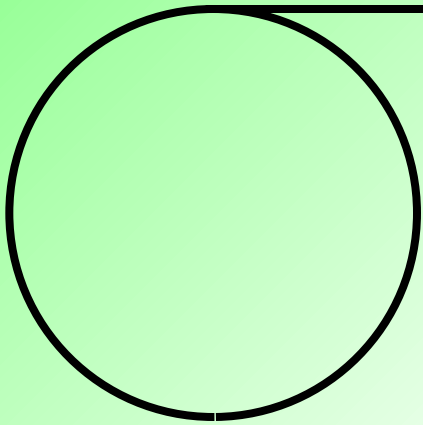
Длина окружности

```
graph TD; A((Длина окружности)) --> B((Проверить основные определения)); A --> C((Вывести формулы)); A --> D((Решать задачи));
```

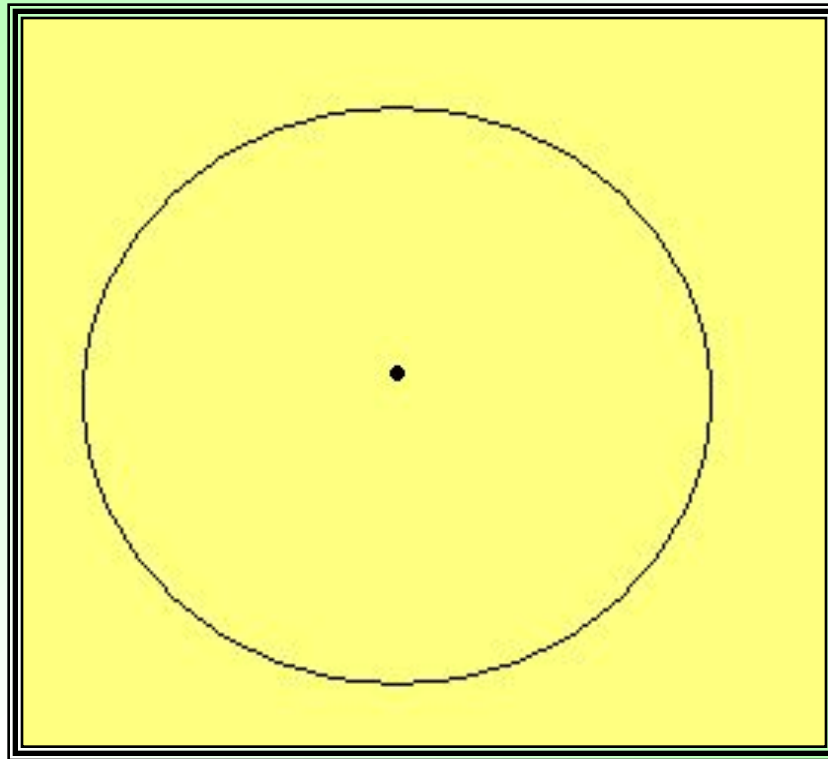
Проверить основные определения


Вывести формулы

Решать задачи



Окружность – геометрическая фигура, состоящая из точек плоскости, равноудаленных от данной точки.



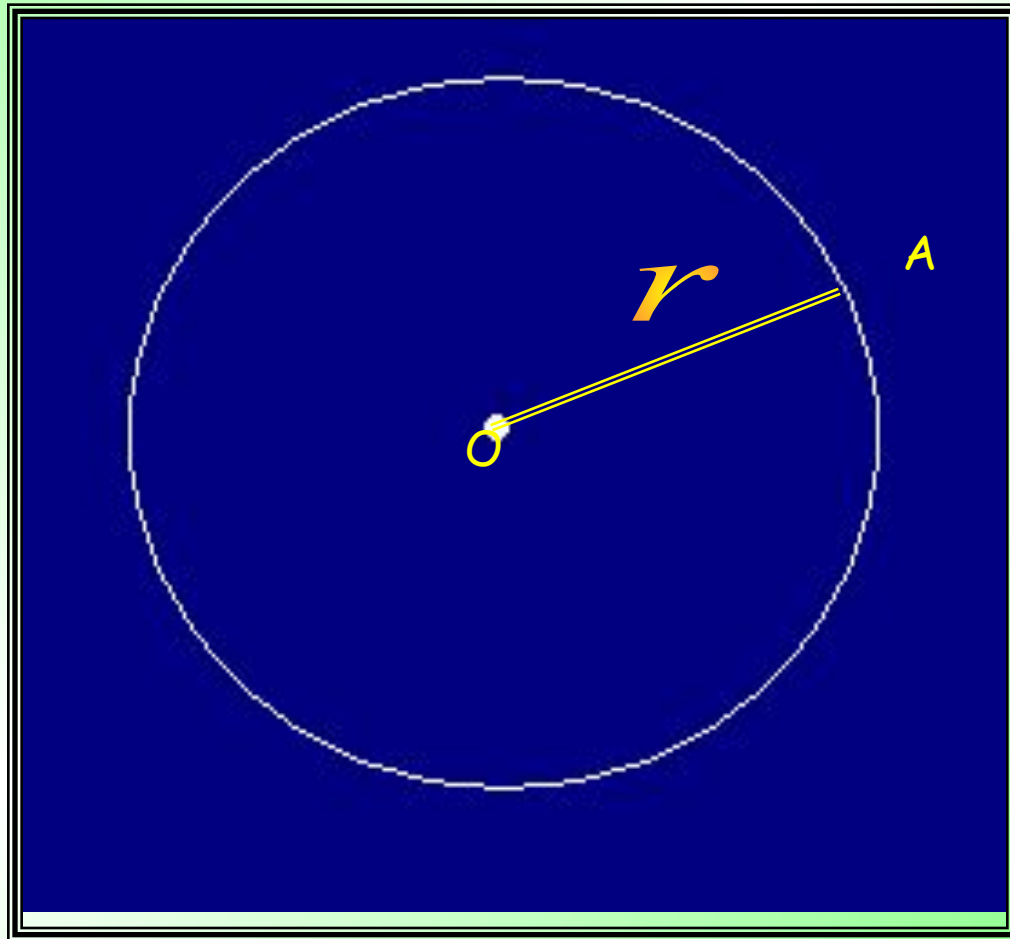


Длина окружности обозначается буквой

C

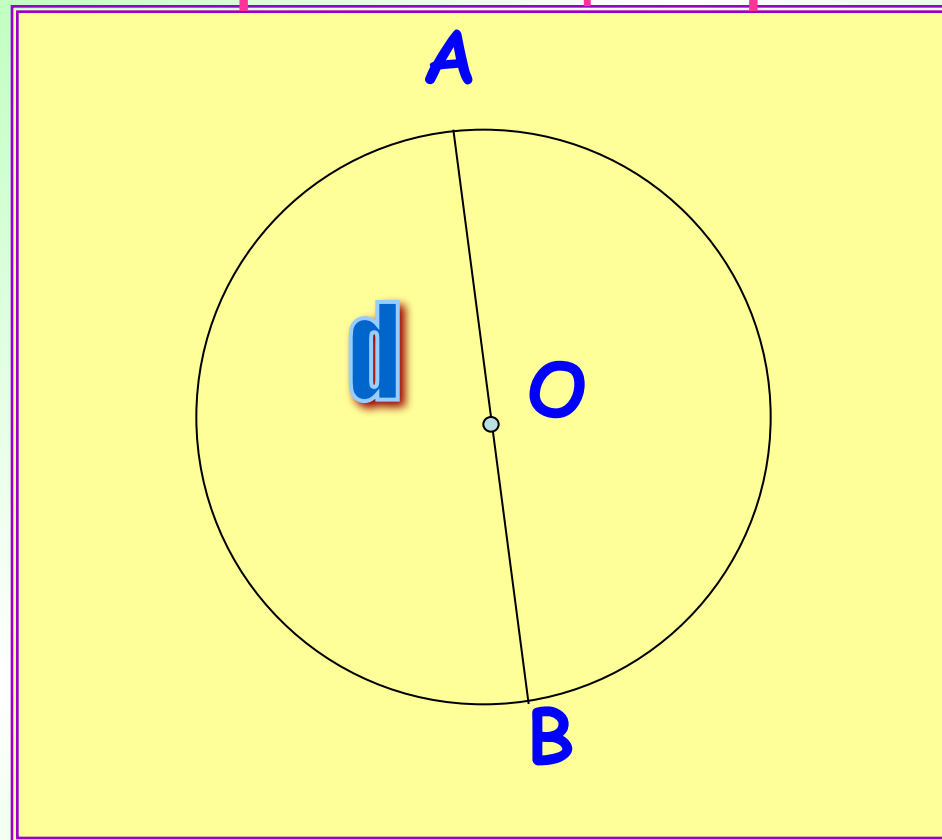
Радиус окружности-

это отрезок, соединяющий центр окружности с любой точкой окружности.

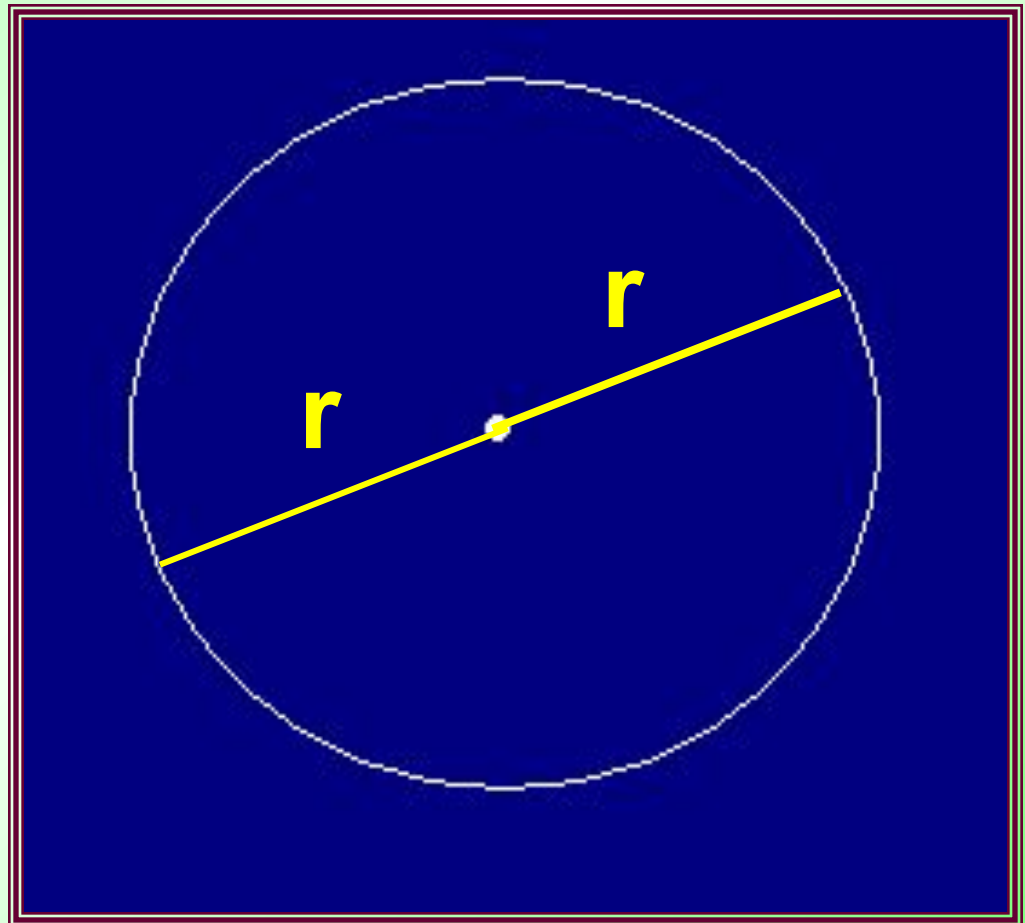


Диаметр окружности

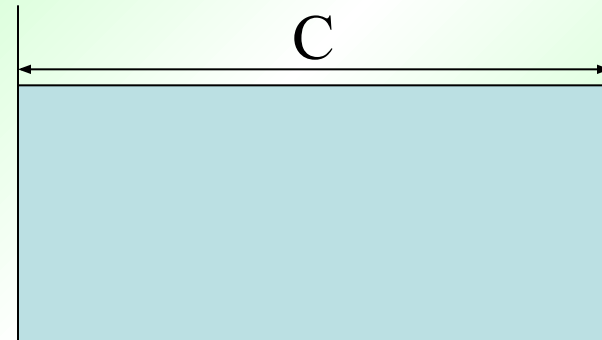
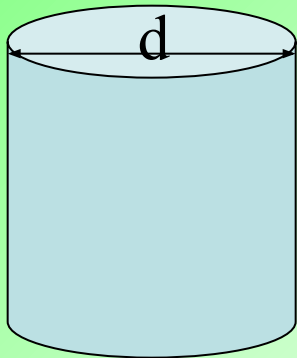
-это отрезок, соединяющий любые две точки окружности и проходящий через ее центр.



$$d=2r$$




Практическая работа .



Указание:

- 1. Измерьте длину окружности и результат запишите в таблицу.
- 2. Измерьте диаметр окружности, результат запишите в таблицу.
- 3. Сделайте вывод.(Во сколько раз длина окружности больше диаметра?)



Рабочий лист


Найди отношения длин окружностей
к диаметрам данных предметов.



№ предмета	Длина окружности (C)	Длина диаметра (d)	$C : d$
1			
2			
3			

$$\pi \approx 3,1415926535\dots$$

Обозначение числа
происходит от первой буквы
греческого слова периферия,
что означает "окружность".



Леонард Эйлер

π

$$C = \pi d$$



$$C = 2\pi r$$

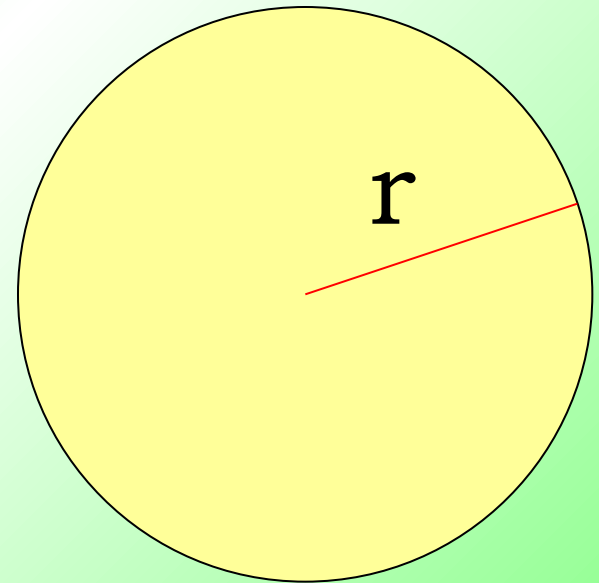


Вычисление длины земного экватора.

$r=6370$ км

$\pi \approx 3,14$

$C=?$



Ответ: $C \approx 40\,003,6$ км.

$$\pi \approx 3,14$$

Найдите длину окружности,
если длина его диаметра 1,5 см.

Найдите диаметр окружности,
длина которой равна 7,85 м.

Найдите радиус окружности,
длина которой 21,98 дм.



$$C = \pi d$$

$$4,71 \text{ см.}$$

$$C = \pi d$$

$$d = C : \pi$$

$$2,5 \text{ м.}$$



$$C = 2\pi r$$


$$r = C : (2\pi)$$

$$3,5 \text{ дм.}$$

Самостоятельная работа.



Домашнее задание



**№867;
№868.**

***Прочитать текст по рубрикой Г*.**



Сегодня на уроке мы:

1.
Повторили

...



2.
Узнали...

3.
Закрепили

...

Что на уроке понравилось?

Что не удалось?

Где в жизни мне
пригодятся знания по
данной теме?

