

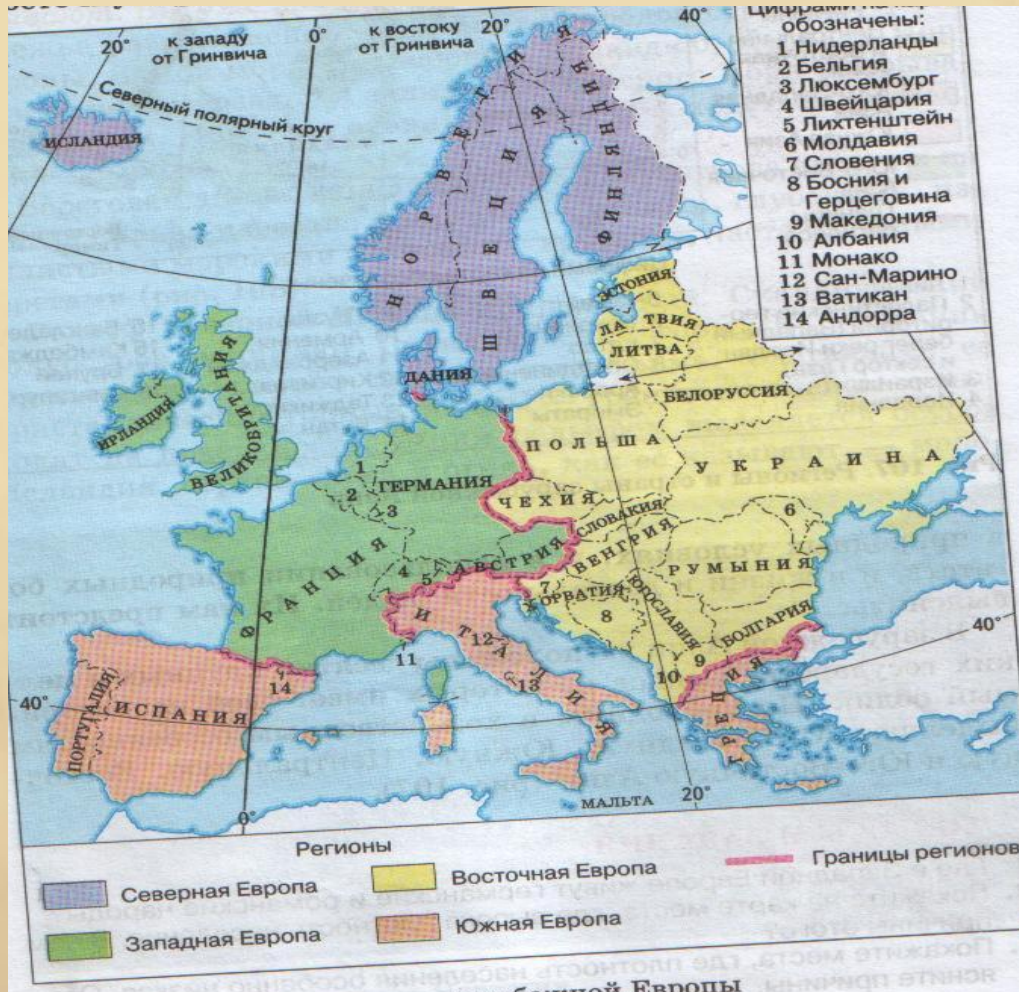
Урок обобщения в 7 классе по теме:  
«Население и страны Европы»

Работу выполнила учитель  
географии СОШ № 27 с  
углубленным изучением  
отдельных предметов Шевырёва  
Татьяна Юрьевна

# Цели и задачи

- Систематизировать и закрепить материал по населению и странам Европы.
- Продолжить формирование навыков работы учащихся с различными информационными источниками знаний.
- Продолжить развивать умение работы с картографическими источниками.

# Схема регионов и стран зарубежной Европы





# Географическое лото «Узнай страну!»

По столице определите страну

1. Париж –

2. Лиссабон –

3. Осло –

4. Варшава –

5. Рим -

# Географическое лото «Узнай столицу!»

- По названию страны определите столицу

1. Германия –

2. Испания –

3. Греция –

4. Исландия –

5. Болгария -




The background of the slide features a faded, sepia-toned map of Europe with a compass rose in the upper left corner. The map shows the outlines of the continent and some latitude/longitude lines. The compass rose has numbers like '091' and '07' visible.

Южная Европа

Западная Европа

Восточная Европа

The background features a faded, sepia-toned map with a prominent compass rose in the upper left corner. The map shows latitude and longitude lines, and some geographical features are visible, though they are out of focus. The overall aesthetic is that of an old, historical document.

ИТОГОВЫЙ  
ГЕОГРАФИЧЕСКИЙ  
ДИКТАНТ

Назовите страну гейзеров?





В какой стране 98% населения  
составляет одна нация?



Самое маленькое государство  
по площади в Европе?







- Местные говорят «Суоми – страна болот», о какой стране идёт речь?



- В какой стране располагается наивысшая точка Европы – г. Монблан?





- Англичане называют эту страну – «страной зелёных лугов». О какой стране так говорят?



- Эта страна известна, как «главный сад Европы»?



Страна и народ, известные своей изысканностью и элегантностью в одежде и обуви?





- Национальная кухня страны, славящаяся колбасами и сосисками?



Страна – родина известных всему миру  
исследователей полярных областей  
Амудсена Р. и Нансена Ф.?



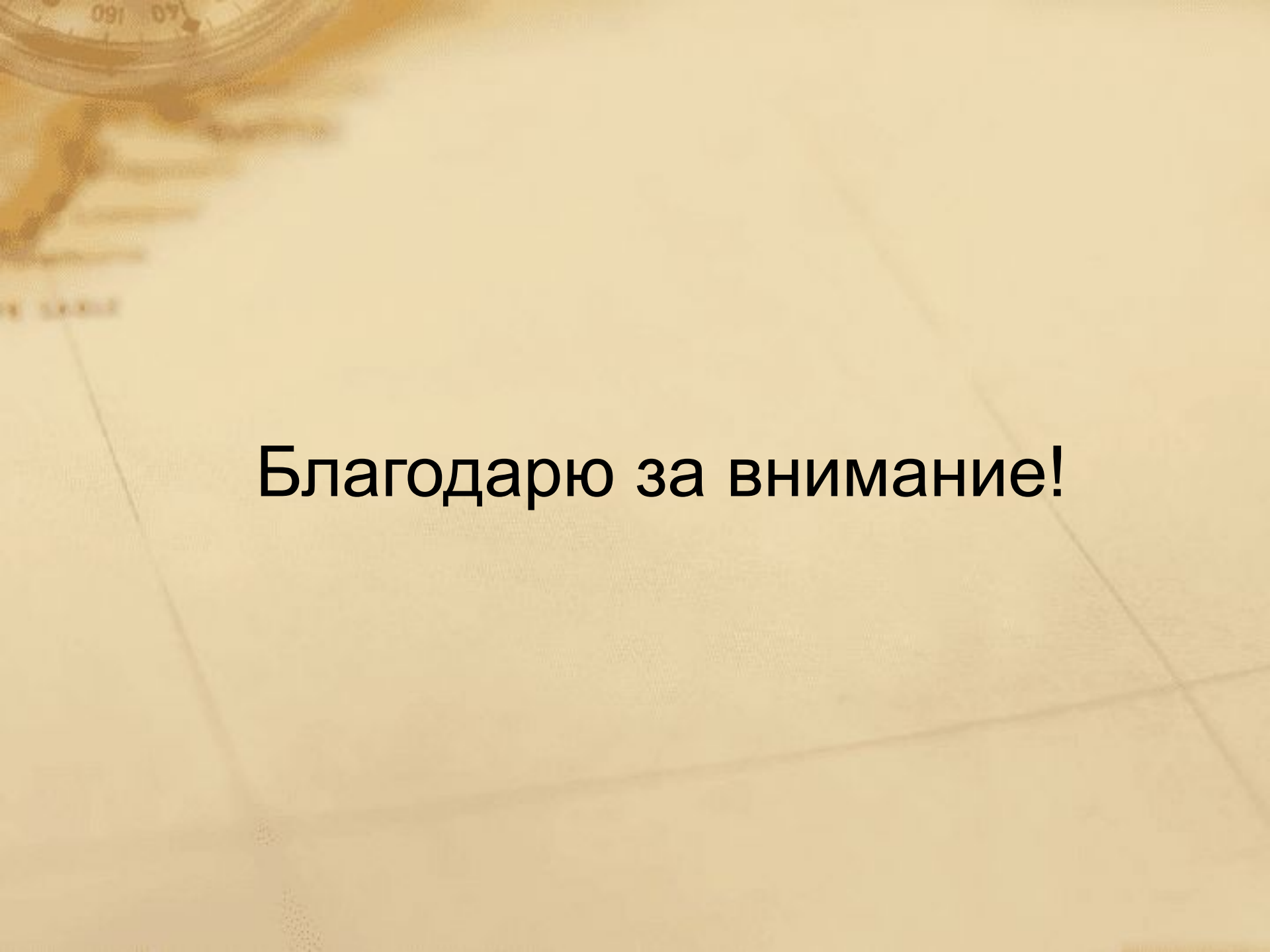
# проверка

- 1. Исландия
- 2. Италия
- 3. Ватикан
- 4. Финляндия
- 5. Франция
- 6. Великобритания
- 7. Италия
- 8. Франция
- 9. Германия
- 10. Норвегия



# проверка

- При наличии 1 ошибки выставляется оценка – 5 баллов;
- 2 ошибки – 4 балла;
- 3-4 ошибки – 3 балла;
- 5 ошибок – 2 балла.



**Благодарю за внимание!**