

Бен-Секка

Сомали

Африка

Рас-Хафун

Игольный

30,3 млн. км²

Альмади

Гвинейский залив

Мадагаскар

Повторим:

- 1) Что такое рельеф?
- 2) Какие формы рельефа вы знаете?
- 3) Каким цветом на карте изображены горы?
- 4) Каким цветом на карте изображены равнины?



Формы рельефа




Равнина



Плоскогорье



Горы



Возвышенность



2. Выбери правильный ответ:

А. Африка – ...по величине территории материк.

- 1) первый
- 2) ~~второй~~
- 3) третий
- 4) четвертый


Б. Крайняя южная точка Африки – ...

- 1) мыс Бен-Секка
- 2) мыс Игольный
- 3) мыс Рас-Хафун
- 4) мыс Альмади

В. Африка омывается водами...

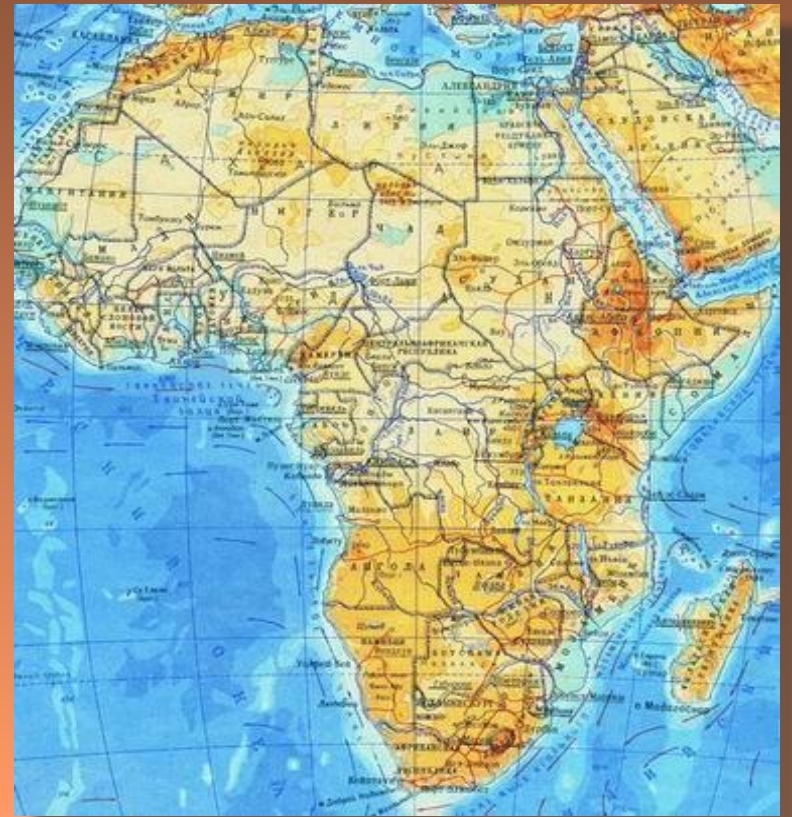
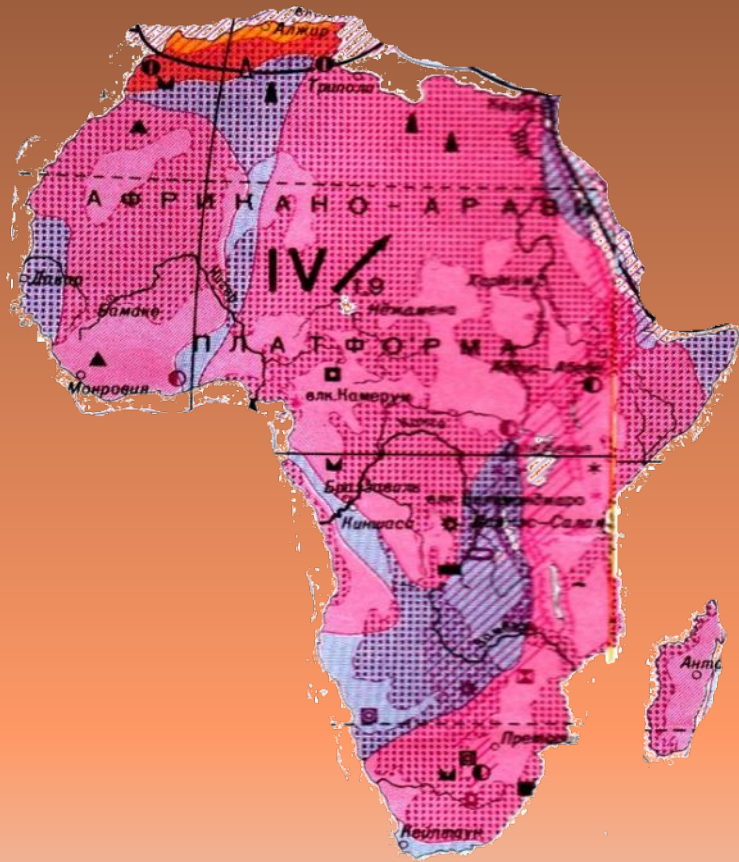
- 1) Индийского океана
- 2) Тихого и Атлантического океанов
- 3) Атлантического и Индийского океанов
- 4) Тихого и Индийского океанов

Г. Площадь территории Африки (вместе с островами) равна ... млн. кв. км.

- 1) 54,9
 - 2) 30,3
 - 3) 24,2
 - 4) 17,8
- 

Рельеф и полезные ископаемые Африки





Рельеф отдельных частей материка

Северная Африка

Высокий Атлас

Наивысшая точка

г. Тубкаль, 4 165 м



Низкий Атлас

Великие Африканские разломы



Восточная Африка

Восточно-Африканское плоскогорье



Эфиопское нагорье



Килиманджаро

Южная Африка

Драконовы горы



Капские горы

Выводы:

- Максимальная высота – 5895м, вулкан Килиманджаро.
 - Преобладание равнин высотой 200 – 1000м, так как в основании лежит Африкано-Аравийская платформа.
 - Великие Восточно-Африканские разломы.
 - На северо-западе горы Атлас, на юге Капские и Драконовы горы.
- 