

Координатная

плоскость

Те, кто в детстве играл в морской бой, помнят, что каждая клетка на игровом поле определялась **двумя координатами - буквой и цифрой**

	1	2	3	4	5	6	7	8	9	10
а	■		■							■
в	■									■
с	■					■	■			■
д	■									
е						■	■			
ф			■	■					■	
к	■					■			■	
л										
м			■	■					■	
н	■									

	A	B	C	D	E	F	G	H	
8		■		■		■		■	8
7	■		■		■		■		7
6		■		■		■		■	6
5	■		■		■		■		5
4		■		■		■		■	4
3	■		■		■		■		3
2		■		■		■		■	2
1	■		■		■		■		1
	A	B	C	D	E	F	G	H	

аналогично в шахматах


Немного истории



Гиппарх



Птолемей



Рене Декарт



Более чем за 100 лет до н.э
греческий ученый **Гиппарх**
предложил опоясать на
карте земной шар
параллелями и
меридианами и ввести
теперь хорошо известные
географические
координаты: широту и
долготу и обозначить их
числами.



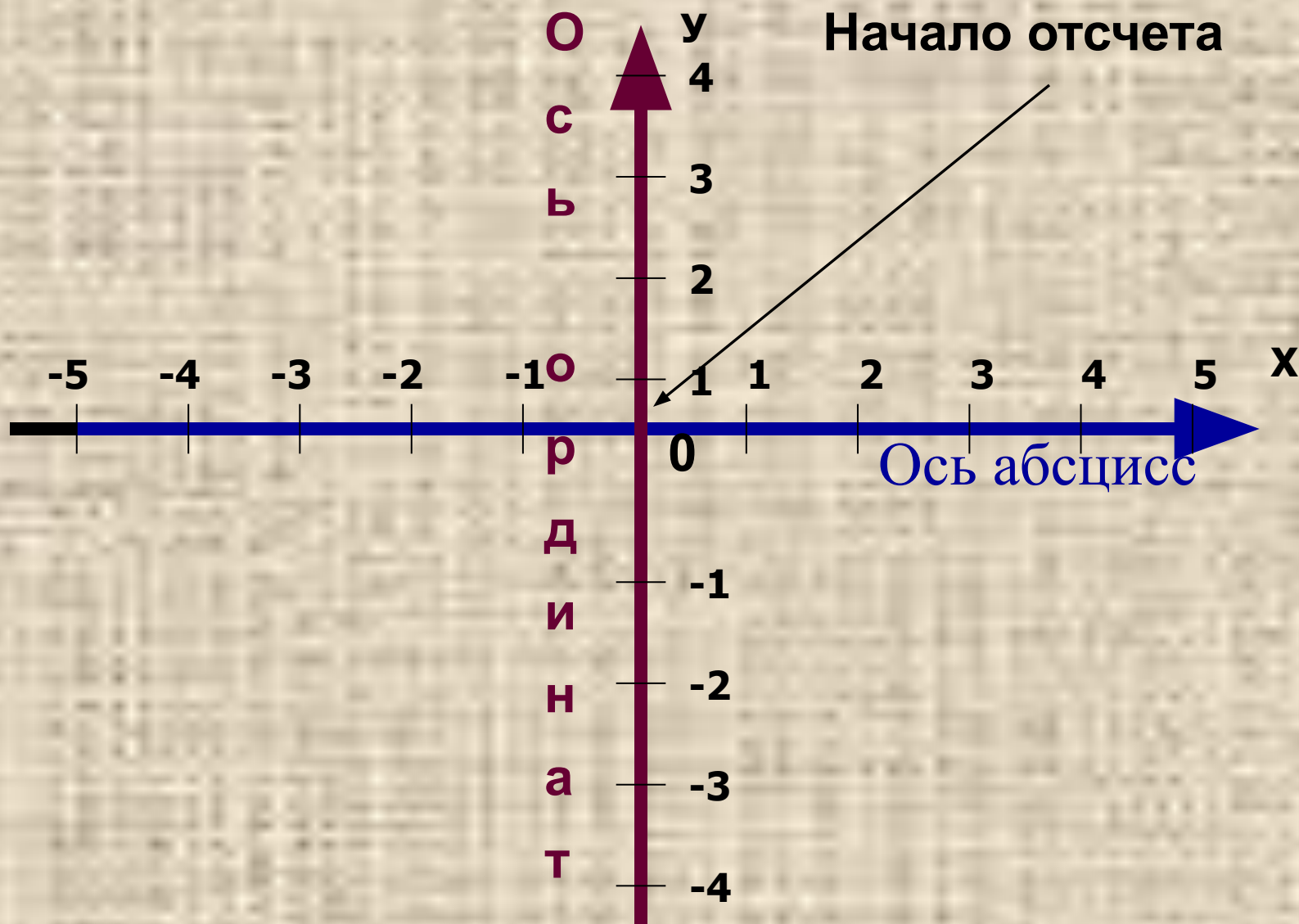
Во II веке н.э.
знаменитый
древнегреческий
астроном **Клавдий
Птолемей** уже
пользовался
долготой и широтой в
качестве
географических
координат.





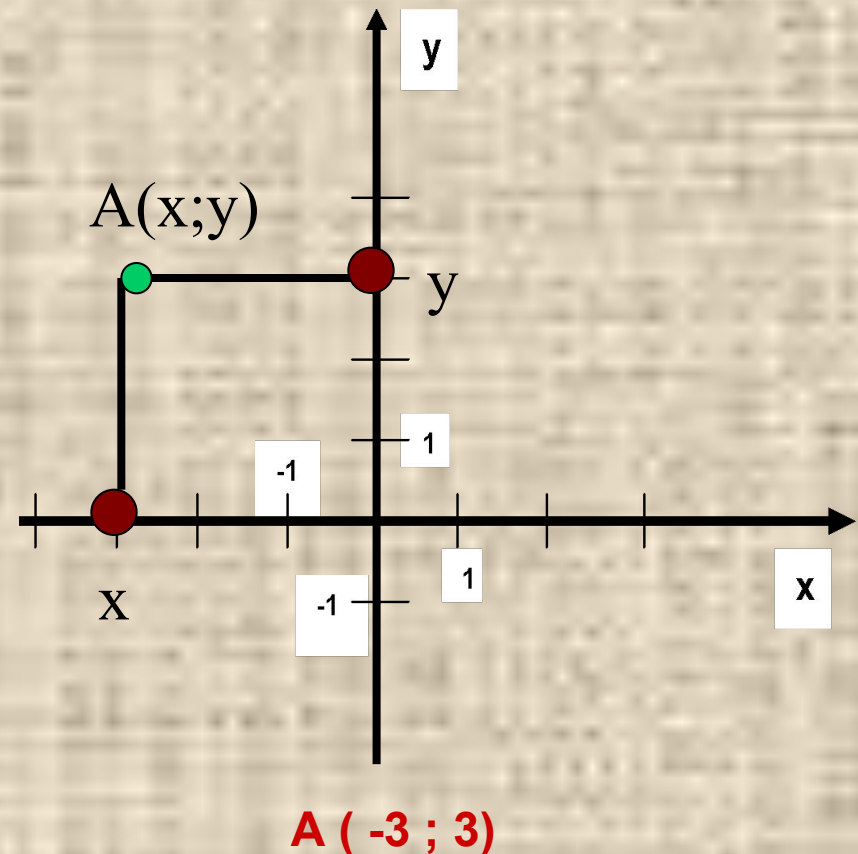
Рене Декарт (1596-1650)
французский философ,
естествоиспытатель,
математик. Целью
Декарта было описание
природы при помощи
математических законов.
Автор координатной
плоскости, поэтому ее
часто называют
декартовой системой
координат.

Прямоугольная система координат



Алгоритм построения точки $A(x;y)$ в прямоугольной системе координат

1. На оси абсцисс найти точку x .
2. Через нее провести прямую, перпендикулярную оси абсцисс.
3. На оси ординат найти точку y .
4. Через нее провести прямую, перпендикулярную оси ординат.
5. Точка пересечения проведенных прямых и есть искомая точка A с координатами $(x; y)$
6. Какие координаты имеет точка A ?



Начертите в тетради систему координат, взяв единичный отрезок длиной 1 клетка. Отметьте точки:

- **A(4;3)**
- **B (-3;4)**
- **C(1;0)**
- **D(0;3)**
- **E(-3;-2)**
- **F(5;-4)**

