




«Обыкновенные дроби»

R

Z

N



$$\frac{1}{4}$$



$$\frac{1}{6}$$

Проверь себя

- Как называются эти дроби?

$$\frac{2}{5}; \frac{4}{5}; \frac{1}{4}; \frac{1}{2}; \frac{5}{6}$$

- А это какие дроби?

$$\frac{7}{6}; \frac{17}{15}; \frac{12}{5}; \frac{6}{5}$$





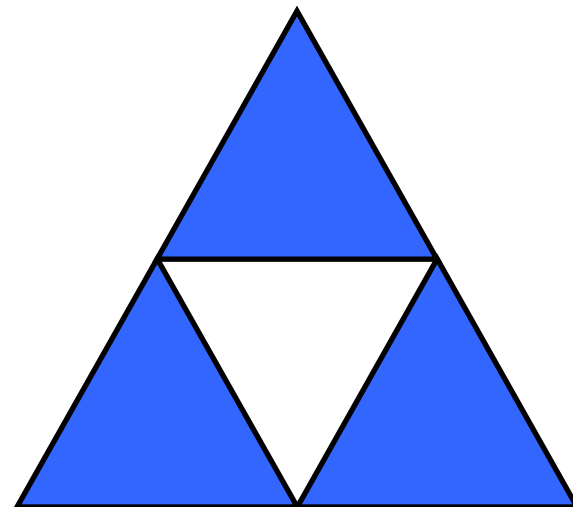
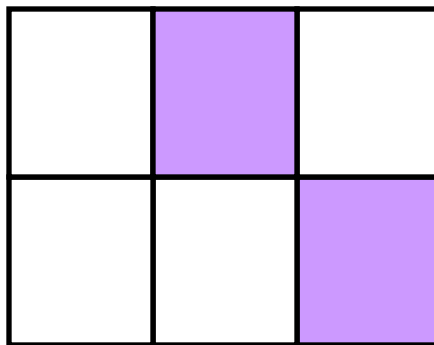
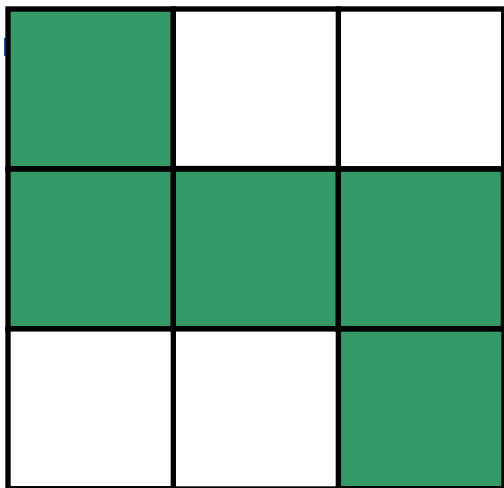
Задача



На подарок мальчику
друзья собрали $\frac{1}{4}$
стоимости
велосипеда.
Велосипед стоил
4000
рублей. Сколько
денег собрали
друзья?



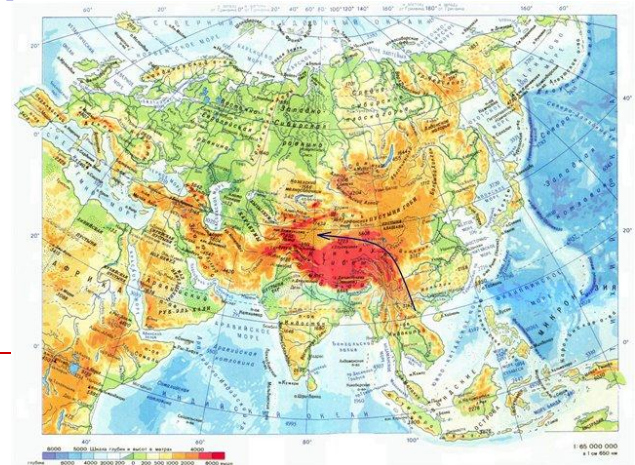
Какая часть фигуры закрашена? Запиши дробью





Россия

Занимает $\frac{1}{3}$ часть площади Евразии. Наша страна настолько большая, что на ее территории могли бы разместиться целые материки, такие, как Австралия и Антарктида.



Символы России



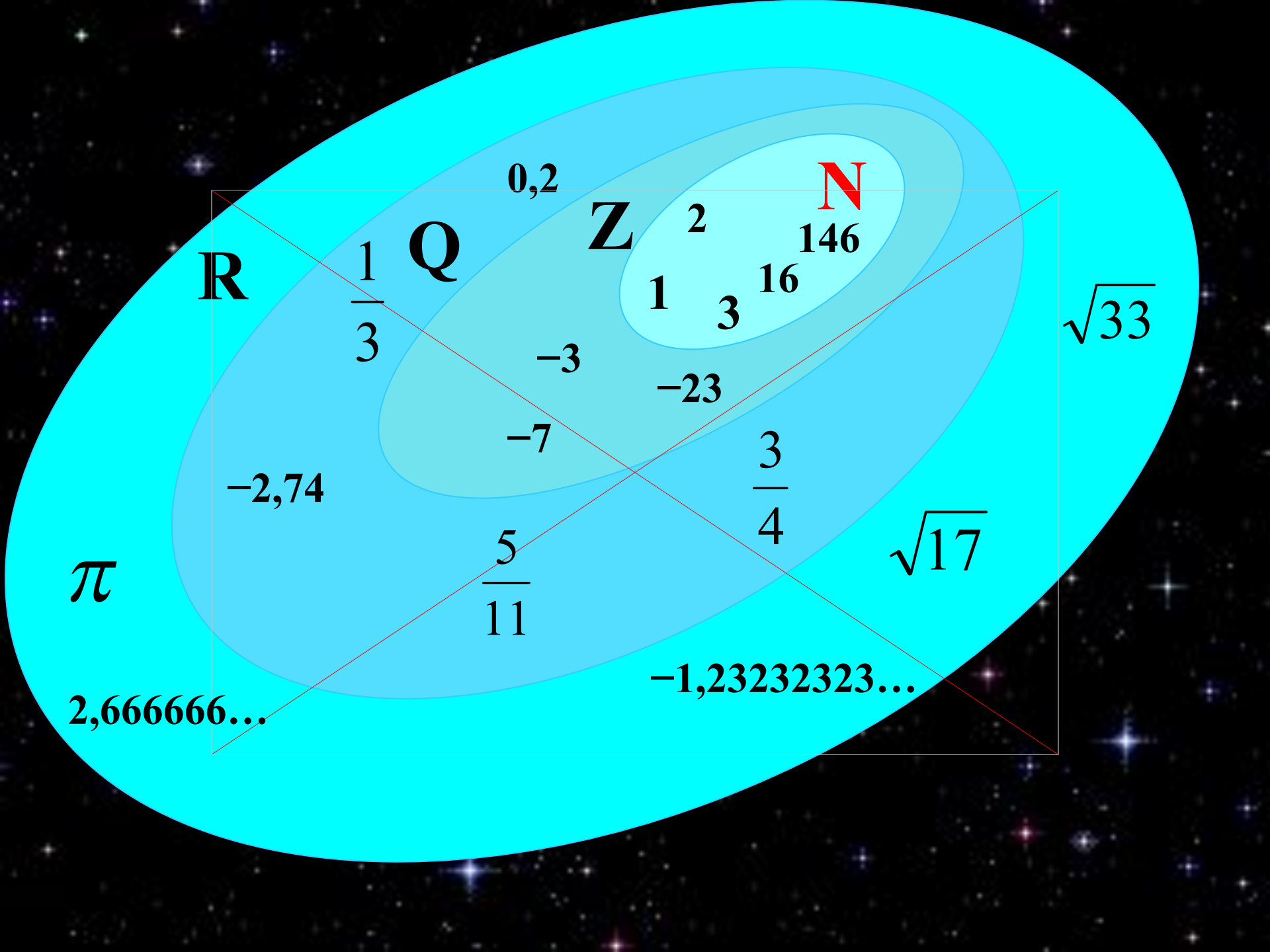
Россия

- 1) Какая часть флага России синяя ?
- 2) Запишите дробью красную часть флага.



ВОПРОС - ОТВЕТ

- 1. Как называются число над чертой и число под чертой?**
 - 2. Что показывает знаменатель дроби? Числитель дроби?**
 - 3. Какие задачи мы решали на уроке?**
 - 4. Как найти часть от числа?**
 - 5. Как найти несколько частей от числа?**
-





**Я познаю мир
чисел**

Список использованной литературы и источников:

Виленкин Н.Я., Жохов В.И., Чесноков А.С., Шварцбург С.И. Математика: 5 класс. Учебник для общеобразовательных учреждений. – М.: Мнемозина, 2014.