



СЛОЖЕЊЕ И
ВЫЧУТАЊЕ
ΠΟΛΟЖИΤΕΛΗ
ЫХ И
ΑΓΡΑΦΑΤΕΛΗ^ο
ЫХ ЧУСΕΛ



ТИРОВЕРКА

ДОМАШНЕГО ЗАДАНИЯ

Команды	Звезда	Орел	Трактор	Сокол	Чайка
Число забитых мячей	49	37	17	21	6
Число пропущенных мячей	16	28	23	35	28
Разность забитых и пропущенных мячей	33	9	-6	-14	-22

Иностранные марки – ? сост. 30 %

Российские марки – ?

1105 марок



Пусть в альбоме было x российских марок, тогда $0,3x$ марок было иностранных. Всего в альбоме было $(x + 0,3x)$ марок. Зная, что всего было 1105 марок, составим и решим уравнение.

$$x + 0,3x = 1105;$$

$$1,3x = 1105;$$

$$x = 1105 : 1,3;$$

$$x = 11050 : 13;$$

$$x = 850.$$

Итак, 850 марок было российских, тогда $850 \cdot 0,3 = 255$ (мар.) было иностранных.

Проверка:

$$850 + 255 = 1105;$$

1105 = 1105 – верно.

Ответ: 255 марок; 850 марок.

$$\text{a) } AB = -3 - (-7) = 4$$

$$\text{б) } MN = 2,3 - (-4,2) = 6,5$$

$$\text{в) } PK = \frac{1}{6} - \left(-\frac{2}{3}\right) = \frac{5}{6}$$

$$\text{г) } CD = 1\frac{2}{7} - \left(-2\frac{5}{7}\right) = 4$$

РАСПОЛОЖИТЕ ЧИСЛА В ПОРЯДКЕ ВОЗРАСТАНИЯ

	2,5	-0,2	0	-7,5	-3,5	1,3	5	2,6
П	А	И	М	О	Л	И	А	Д

МАТЕМАТИКА И ЗУМЖЯЯ ОЛИМПИАДА



СКАЖИТЕ, С ЧЕТО НАЧИНАЮТСЯ ОЛИМПИЙСКИЕ ИТРЫ?

- с большого праздника;
- с зажигания Олимпийского огня;
- с дискотеки.

ТЕОРЕТИЧЕСКИЙ ДИКТАНТ

«Да» - «+»

«Нет» - «-»

СЛАЛОМ

I

команда

-4



II

команда

-8



ZORLMOJ.VU

III

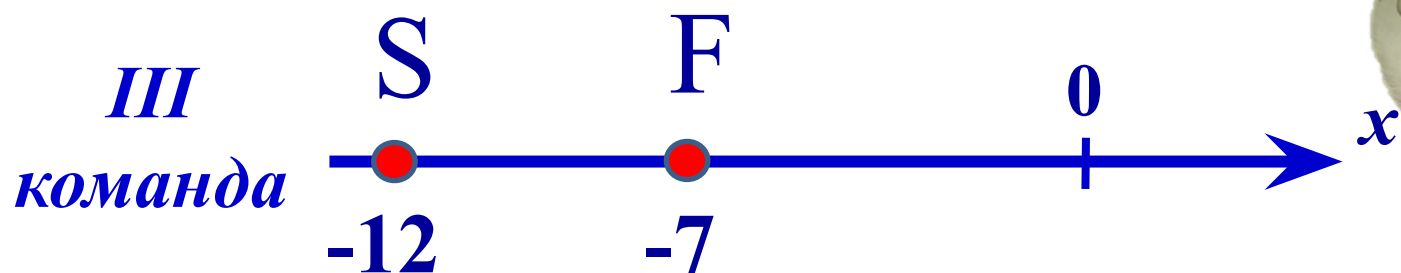
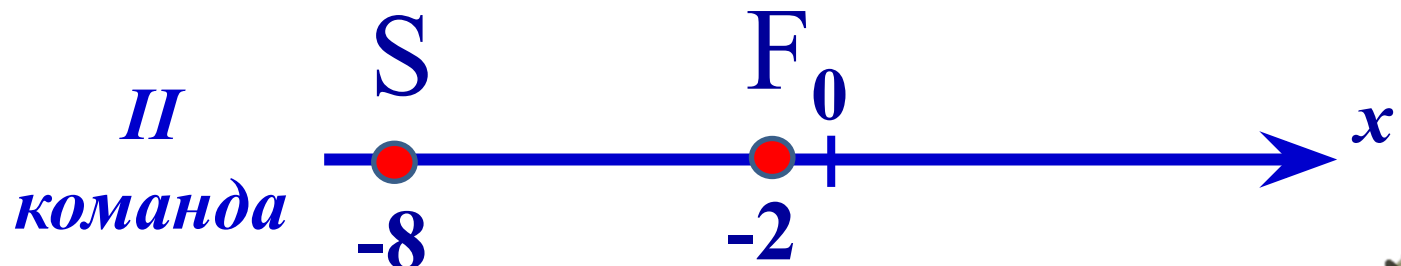
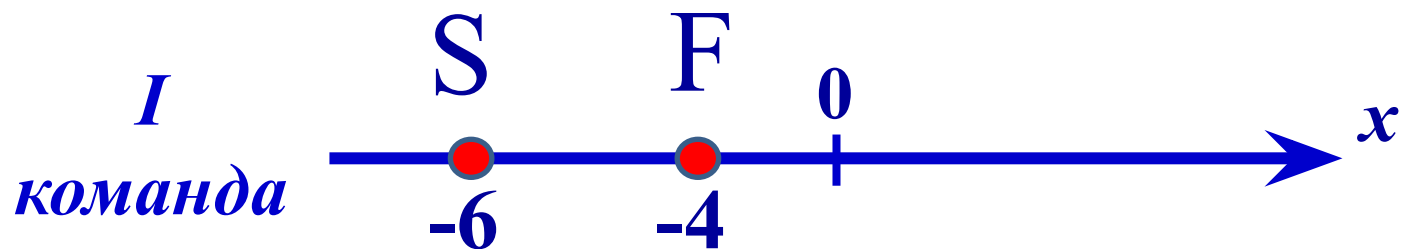
команда

-12



ПРОИДЕННАЯ ДИСТАНЦИЯ

Найдите расстояние от точки S до точки F



ΠΡΟΠΩΣΗΝΑ ΔΙΣΤΑΨΙΑ

I
команда

$$SF = -4 - (-6) = -4 + 6 = 2$$

II
команда

$$SF = -2 - (-8) = -2 + 8 = 6$$

III
команда

$$SF = -7 - (-12) = -7 + 12 = 5$$

РЕШИТЕ УРАВНЕНИЕ:

а) $|x| = 11$

а) $x=11; x=-11$

б) $x + (-9) = 4$

б) $x=13$

в) $5\frac{2}{3} - (-x) = 14\frac{2}{3}$

в) $x=8$

Дополнительное
уравнение:

$$|x| = -8$$



ΜΕΔΑΛΙΣΤΕΣ ΤΑΧΥΕΙ ΣΤΟ ΜΠΟΪ ΡΟΓΟΝΙ



13

11

9

ФУЗКУЛЬТМУЖУТКА



САМОСТОЯТЕЛЬНАЯ РАБОТА

Выполни задание и вместе
вспомним наших чемпионов!



ΣΚΕΛΕΤΟΝ



WORLD-TRIP



ΦΥΤΥΦΗΛΟΕ ΚΑΤΑΓΕΛΥΕ



БОБСЛЕЙ



ДОМАШНЯЯ РАБОТА



Выполни задание из
раздаточного материала:


«3» - выполнить пункт а);

«4» - выполнить пункты а) и б);

«5» - выполнить пункты а)-г).



ΡΕΦΛΕΚΣΙΑ



СПАСИЋО ЗА УРОК