




Подготовка к ЕГЭ

Задание А12



1. В каком варианте ответа правильно указаны все цифры, на месте которых пишется одна буква Н?


В первых картинах И.Н. Никитина есть некоторая упрощё(1)ость: фигуры выхваче(2)ы из темноты неопределё(3)ого пространства лучом яркого света и существуют вне связи с природой.

1) 1

2) 2

3) 1,2

4) 1,2,3



2. В каком варианте ответа правильно указаны все цифры, на месте которых пишется НН?


На картине Вермейера «Уличка» мостовая вымете(1)а, мощё(2)ое плиткой крыльцо вымыто, фасады домов снизу выбеле(3)ы извёсткой.

1) 1

2) 2

3) 3

4) 1,3



3. В каком варианте ответа правильно указаны все цифры, на месте которых пишется НН?


В духе классицизма скульптор создал обобщё(1)ый, идеальный образ, в котором объедине(2)ы невида(3)ая сила и изящество.

1) 1

2) 2

3) 1,2

4) 1,3



4. В каком варианте ответа правильно указаны все цифры, на месте которых пишется НН?


Золотилось солнце на востоке, за тума
(1)ой синью отдалё(2)ых лесов, за
белой снежной низме(3)остью, на
которую глядел с невысокого берега
древний русский город.

1) 1

2) 1,2

3) 2,3

4) 1,2,3



5. В каком варианте ответа правильно указаны все цифры, на месте которых пишется НН?

Может быть, коньки назва(1)ы коньками именно потому, что в старину делали деревя(2)ые коньки, украше(3)ые золотым завитком в виде лошади(4)ой головы.

1) 1,2

2) 2,3

3) 1,2,3

4) 3,4




ПРОВЕРЬ СЕБЯ

1 – 2) 2 – 2)

3 – 4)

4 – 4) 5 – 2)



1. В каком варианте ответа правильно указаны все цифры, на месте которых пишется одна буква Н?


В первых картинах И.Н. Никитина есть некоторая упрощён**н**ность: фигуры выхваче**н**ы из темноты неопределён**н**ого пространства лучом яркого света и существуют вне связи с природой.

1) 1

2) 2

3) 1,2

4) 1,2,3



2. В каком варианте ответа правильно указаны все цифры, на месте которых пишется НН?


На картине Вермейера «Уличка» мостовая выметена, мощённое плиткой крыльцо вымыто, фасады домов снизу выбелены извёсткой.

1) 1

2) 2

3) 3

4) 1,3



3. В каком варианте ответа правильно указаны все цифры, на месте которых пишется НН?


В духе классицизма скульптор создал обобщё**н**ный, идеальный образ, в котором объедине**н**ы невидан**н**ая сила и изящество.

1) 1

2) 2

3) 1,2

4) 1,3



4. В каком варианте ответа правильно указаны все цифры, на месте которых пишется НН?


Золотилось солнце на востоке, за туман**Н**ой синью отдалён**Н**ых лесов, за белой снежной низме**Н**ностью, на которую глядел с невысокого берега древний русский город.

1) 1

2) 1,2

3) 2,3

4) 1,2,3



5. В каком варианте ответа правильно указаны все цифры, на месте которых пишется НН?

Может быть, коньки назва**н**ы коньками именно потому, что в старину делали деревя**нн**ые коньки, украше**нн**ые золотым завитком в виде лошади**н**ой головы.

1) 1,2

2) 2,3

3) 1,2,3

4) 3,4