

Отгадайте загадки

1. Не видать ее корней,
Вершина выше тополей,
Все вверх и вверх она идет,
Но не растет.....

2. Стала группа гор в цепочку,
Есть для перевалов точки.
И конца цепочке нет –
Это тянется ...

3. Её название – два слова.
Первое – цветочек с поля.
Алый, с черной сердцевинкой
И с дурманящею силой.
Справа **"Кинли"** напиши,
Все название найди!



Где находятся горы?



Эверест 8848 м



Аконкагуа 6960 м



Килиманджаро 5895 м



Эльбрус 5642 м

- Какую форму рельефа мы изучили на прошлом уроке?
- На какие группы горы делятся по абсолютной высоте?
- По карте полушарий определите какие горы пересекает параллель 30° ю.ш.
- По карте полушарий определите какие горы расположены вдоль меридиана 60° в.д.

Тема:

РАВНИНЫ СУШИ



Как угрюмый кошмар исполина,
Поглотивший луга и леса,
Без конца протянулась равнина
И краями ушла в небеса.
И краями пронзила пространство,
И до звезд прикоснулась вдали,
Затенив мировое пространство
Монотонной печалью земли.

К.Бальмонт

***Назовите главное отличие гор от
равнин***



Попробуйте сами сказать, что такое «равнина»



Равнины – это участки земной поверхности, на которых перепады относительных высот не превышают 200м.



По характеру рельефа выделяют следующие виды равнин:

Плоские (без перепада
высот)
Западно - Сибирская

Холмистые (с перепадом
высот менее 200 м)
Восточно - Европейская



**По абсолютной высоте
выделяют три группы
равнин:**

Низменности (0-200м): Амазонская,
Прикаспийская

Возвышенности (200-500м): Валдайская

Плоскогорья (500-1000м):
Среднесибирское

Низменность



Возвышенность



Плоскогорье

Определите каким цветом на физической карте показаны равнины:

- **Западно – Сибирская равнина**

(зеленый цвет)

- **Среднерусская возвышенность**

(желтый цвет)

- **Среднесибирское плоскогорье**

(оранжевый цвет)

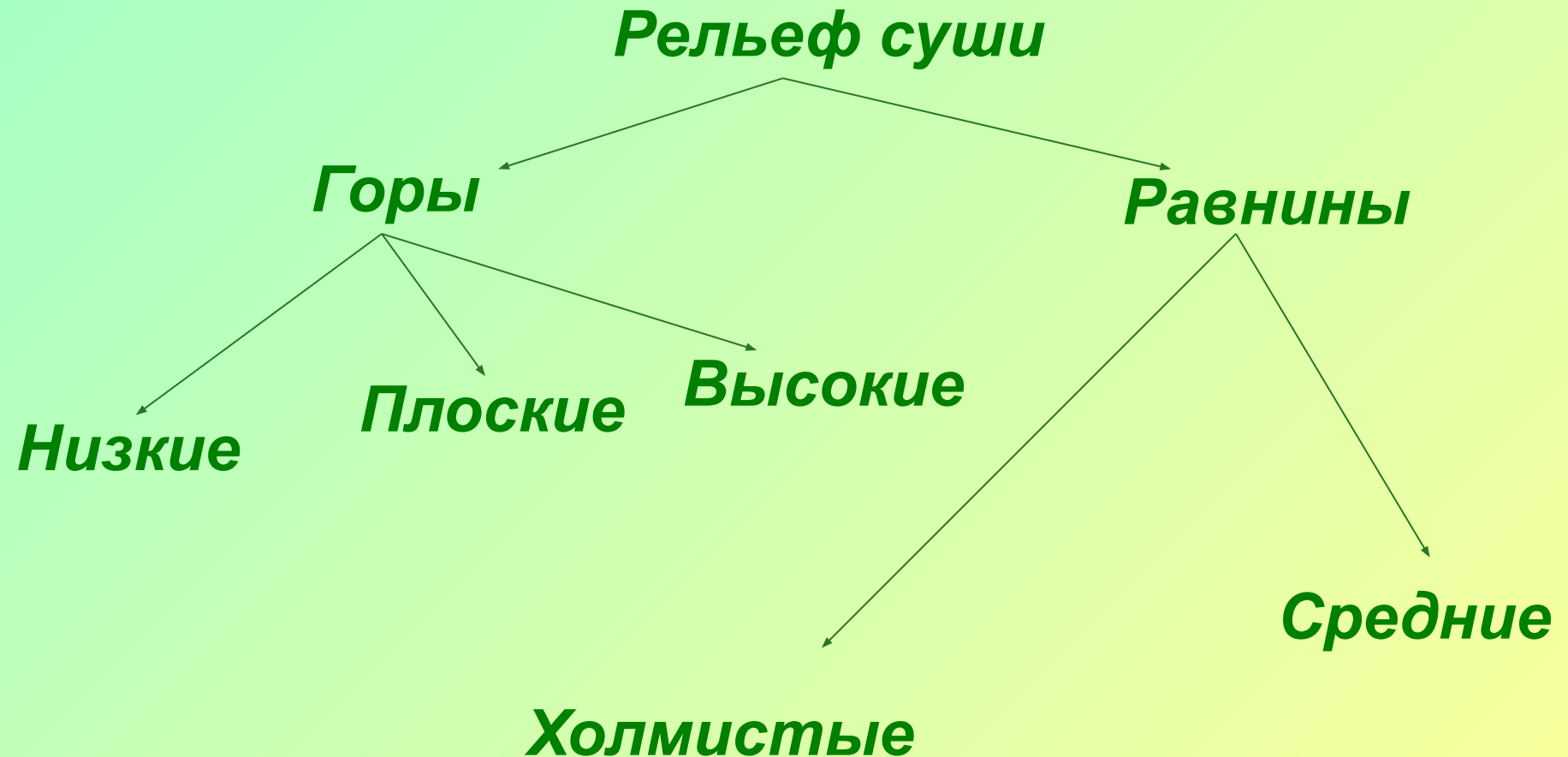
Определите лишнее понятие

- Западно-Сибирская
- Амазонская
- Восточно-Европейская
- Кордильеры
- Среднесибирское


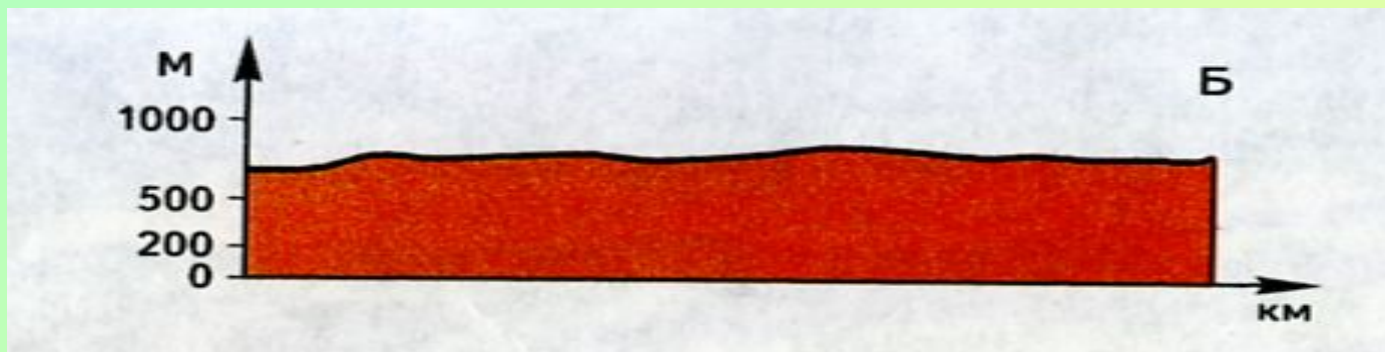
Определите лишнее понятие

- Амазонская
- Среднерусская
- Западно-Сибирская
- Восточно-Европейская

Какая ошибка допущена в классификации?



Определите, какой вид равнин изображен на профиле



Домашнее задание

1. § 21, стр. 63, упр. 4 (письменно)

2. Нанести на контурную карту:

- Восточно – Европейскую равнину
- Западно – Сибирскую равнину
- Амазонскую низменность
- Среднерусскую возвышенность
- Среднесибирское плоскогорье

3. (По желанию)

Составить кроссворд по теме «Рельеф»