

Урок-путешествие по Африке.

A large, ancient pyramid, likely the Great Pyramid of Giza, stands in a vast desert landscape under a clear blue sky. The pyramid is constructed from dark, weathered stone blocks, showing significant erosion and some missing sections. The foreground is a flat, sandy desert floor. In the distance, a few small figures of people can be seen near the base of the pyramid, providing a sense of scale.

**Учитель географии
МОУ «Усть-Бюрская СОШ»
Метелкина З.З.**

Географический пролив



О.Номенклатурный



Задание 1: нанести объекты, характеризующие географическое положение материка.

**Атлантический
океан**

Индийский океан

Северный тропик

Южный тропик

Экватор

**Начальный
меридиан**

Средиземное море

Красное море

Гвинейский залив

Остров Мадагаскар

**Мозамбикский
пролив**

Мыс Бен - Сека

Мыс Рас - Хафун

Мыс Альмади

Мыс Игольный

Географическое положение Африки



Географический пролив

О. Номенклатурный

О. Успеха





Задание 2: Найдите лишний объект в рельефе Африки.


1. Низкая Африка, Средняя Африка, Высокая Африка.
2. Капские горы, Драконовы горы, Альпийские горы.
3. Бразильское плоскогорье, Эфиопское нагорье, Нагорье Тибести.
4. Атлас, нагорье Ахаггар, Мадагаскар.
5. Везувий, Килиманджаро, Камерун.
6. Восточно-Африканское плоскогорье, Эфиопское нагорье, Атлас

Рельеф Африки

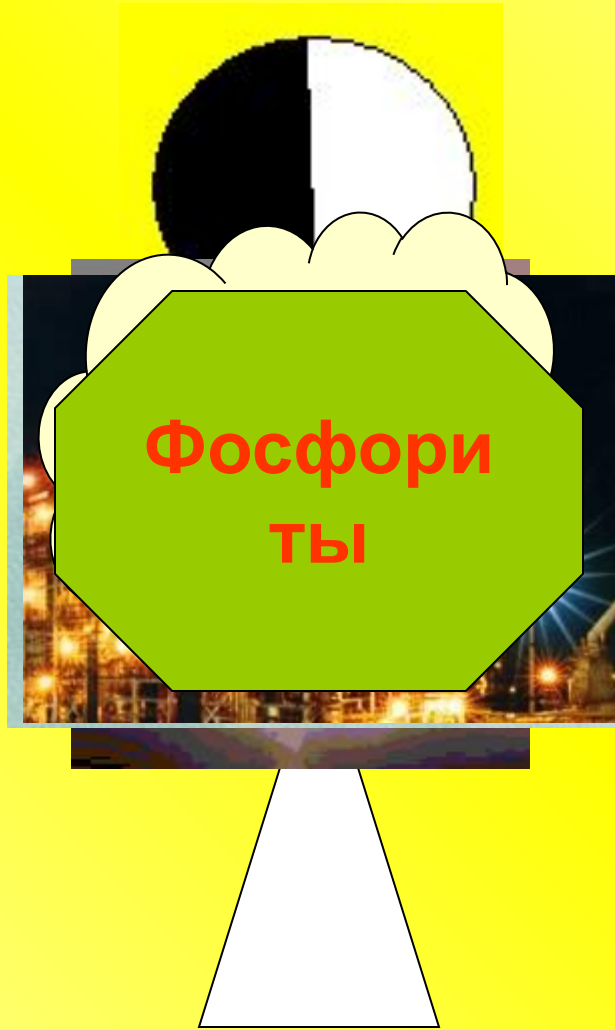
- | | | |
|-------------------------------------|-------------------|-----------------|
| 1. Низкая Африка | Средняя Африка | Высокая Африка |
| 2. Капские горы | Драконовы горы | Альпийские горы |
| 3. Бразильское плоскогорье | Эфиопское нагорье | |
| Нагорье Тибести | | |
| 4. Атлас | Нагорье Ахаггар | Мадагаскар |
| 5. Везувий | Килиманджаро | Камерун |
| 6. Восточно-Африканское плоскогорье | | |
| Эфиопское нагорье | Атлас | |




1




2




3




4



5



6




Географический пролив

О. Номенклатурный



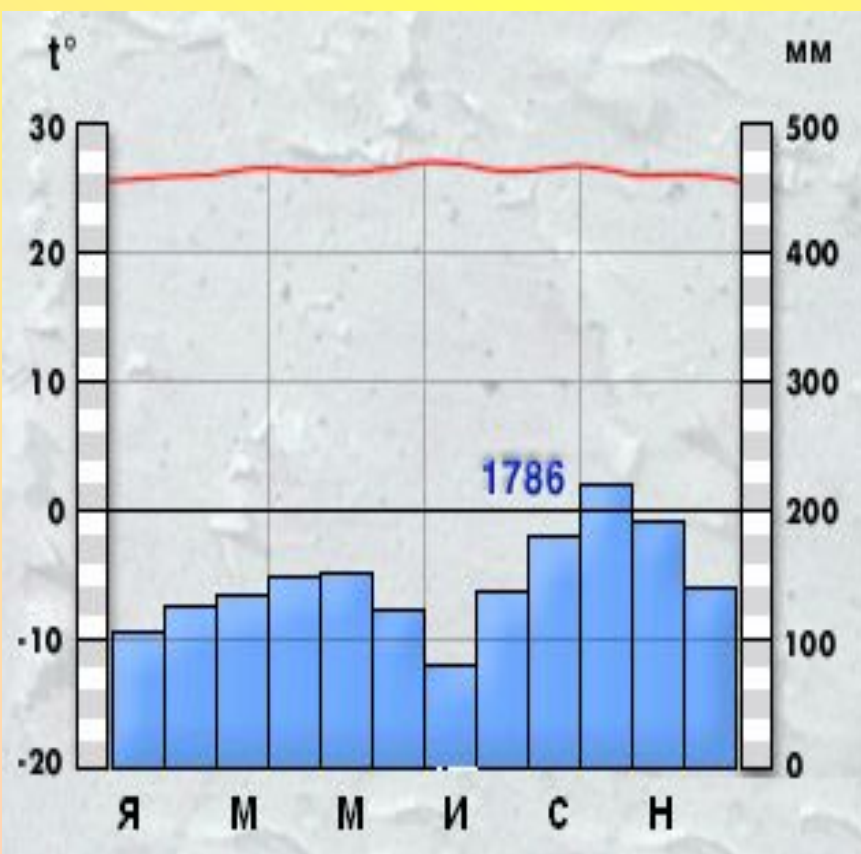
О. Успеха



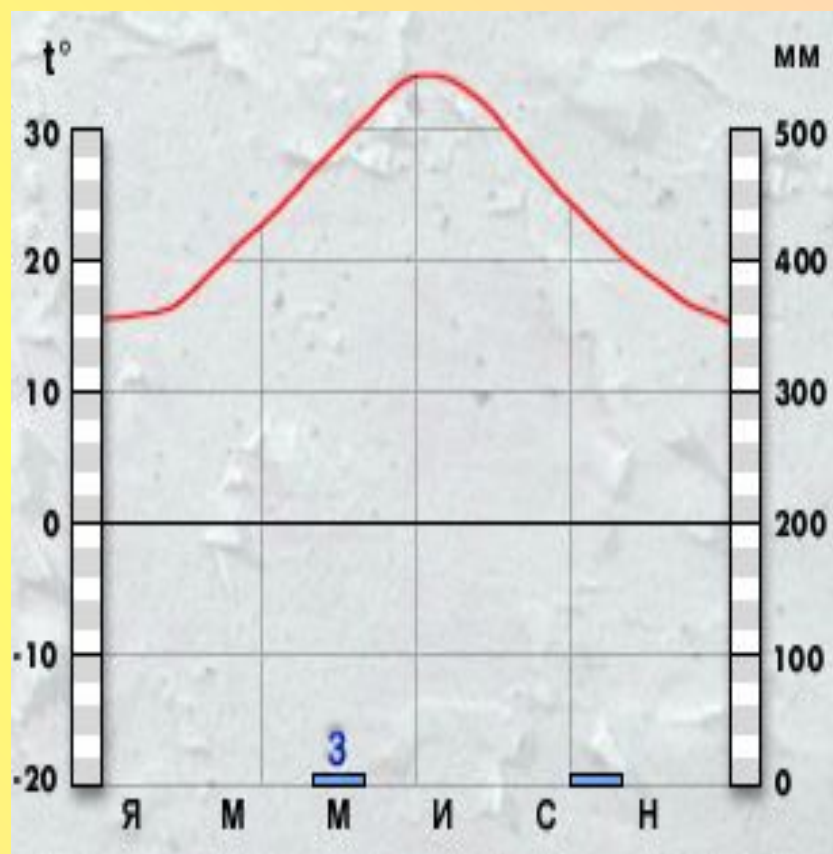
О. Солнечный



Задание 3: Определить какой климатической зоне соответствует диаграмма, и охарактеризовать ее.



I



II

Географический пролив


О. Номенклатурный


О. Успеха


О. Солнечный


Берег Пиратов



Задание 4: Ответить на вопросы о внутренних водах Африки.

- 1. Самая длинная река мира?**
- 2. Самое длинное пресное озеро мира?**
- 3. Самая полноводная река Африки? Почему?**
- 4. Третья по длине и площади бассейна река Африки?**
- 5. Какое озеро в Африке самое глубокое? Почему?**
- 6. Назовите мелководное озеро Африки? От чего меняется ее площадь?**
- 7. Самое большое озеро Африки?**
- 8. Какая река Африки имеет цветные притоки?**
- 9. Назовите крупнейший водопад Африки? Какова его высота?**
- 10. Почему река Нил, хотя и протекает через пустыню, не пересыхает в течение года?**
- 11. Самая крупная из рек Африки, текущая в Индийский океан?**
- 12. Крупное озеро в Мозамбике, Танзании и Малави?**

Географический пролив

О. Номенклатурный

О. Успеха

О. Солнечный

О. Туристов

Берег Пиратов



Природные зоны Африки.

Определите природные зоны

I



II



Экваториальные леса



Саванны



Пустыни



Географический пролив

О. Номенклатурный

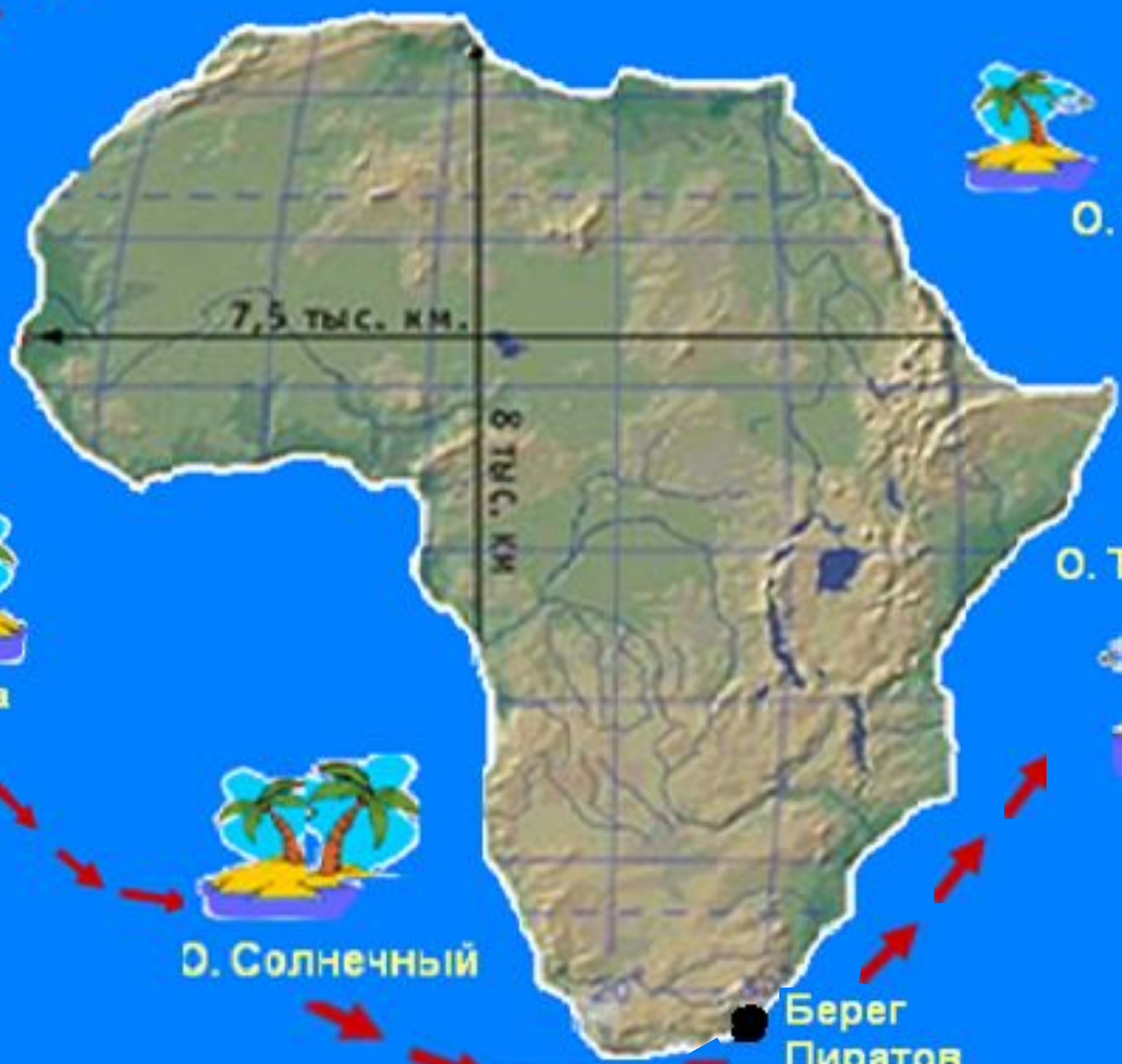
О. Трудяг

О. Успеха

О. Туристов

О. Солнечный

Берег Пиратов



Регионы Африки

Соотнеси страны с регионами Африки

Северная
Африка

Западная
Африка

Центральна
я
Африка

Восточная
Африка

Южная
Африка

Страны

Египет
Чад
ЮАР
Судан
Эфиопия
Танзания
Алжир
Мали
Ангола
Мадагаскар
Нигер
Конго
Марокко
Нигерия
Мозамбик

Географический пролив

О. Номенклатурный

О. Трудяг

О. Успеха


О. Туристов

О. Солнечный

Берег Пиратов



Разгадай кроссворд



1. Народы, населяющие Эфиопское нагорье.
2. Страны, лишённые политической и хозяйственной самостоятельности, находящиеся в зависимости от других более развитых стран.
3. Представители европеоидной расы живут в основном на севере материка.
4. Народы экваториальных лесов, малорослы (ниже 150 см), темнокожи, коренасты.
5. Темнокожая раса.
6. Жители острова Мадагаскар.

Кроссворд «Население Африки»

¹э ф и о п ы

²к о л о н и я

³а р а б ы

⁴п и г м е и

⁵н е г р о и д ы

⁶м а л а г а с и й ц ы



