

Дорожные знаки

Знаки приоритета

Знаки приоритета устанавливают очередность проезда перекрестков, пересечений проезжих частей или узких участков дороги.

Знаки приоритета не действуют на регулируемых перекрёстках!

ЗНАКИ ПРИОРИТЕТА



2.1
Главная
дорога



2.2
Конец
главной
дороги



2.3.1



2.3.2



2.3.3



2.3.4



2.3.5



2.3.6



2.3.7

Примыкание второстепенной дороги



2.4
Уступите
дорогу




2.5
Движение
без остановки
запрещено



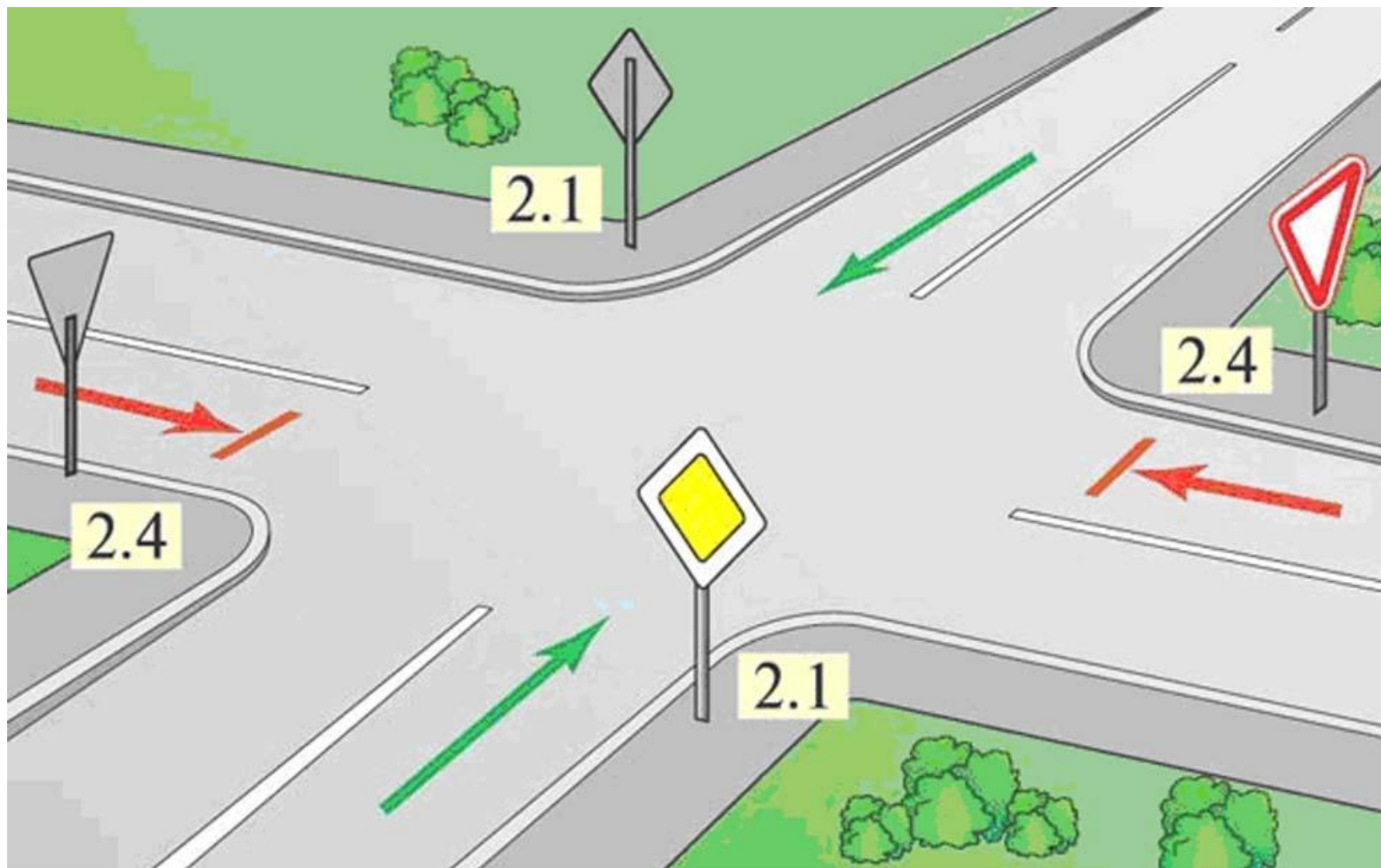
2.6
Преимущество
встречного
движения




2.7
Преимущество
перед
встречным
движением



2.1
Главная
дорога





2.2
Конец
главной
дороги



2.3.1
Пересечение с
второстепенной
дорогой



2.3.2
Примыкание
второстепенной
дороги



2.3.3
Примыкание
второстепенной
дороги



2.3.4



2.3.5

**Примыкание
второстепенной дороги**



2.3.6



2.3.7

Примыкание
второстепенной дороги



2.4
Уступите
дорогу



2.5
Движение
без остановки
запрещено

2.5. "Движение без остановки запрещено".

Запрещается движение без остановки перед стоп-линией, а если ее нет - перед краем пересекаемой проезжей части. Водитель должен уступить дорогу транспортным средствам, движущимся по пересекаемой, а при наличии таблички 8.13 - по главной дороге.


Знак 2.5 может быть установлен перед железнодорожным переездом или карантинным постом. В этих случаях водитель должен остановиться перед стоп-линией, а при ее отсутствии - перед знаком.





В каком месте Вы должны остановиться?

1. Перед знаком (А).
2. Перед перекрестком (Б).
3. Перед краем пересекаемой проезжей части (В).




2.6

**Преимущество
встречного
движения**



2.7

**Преимущество
перед встречным
движением**



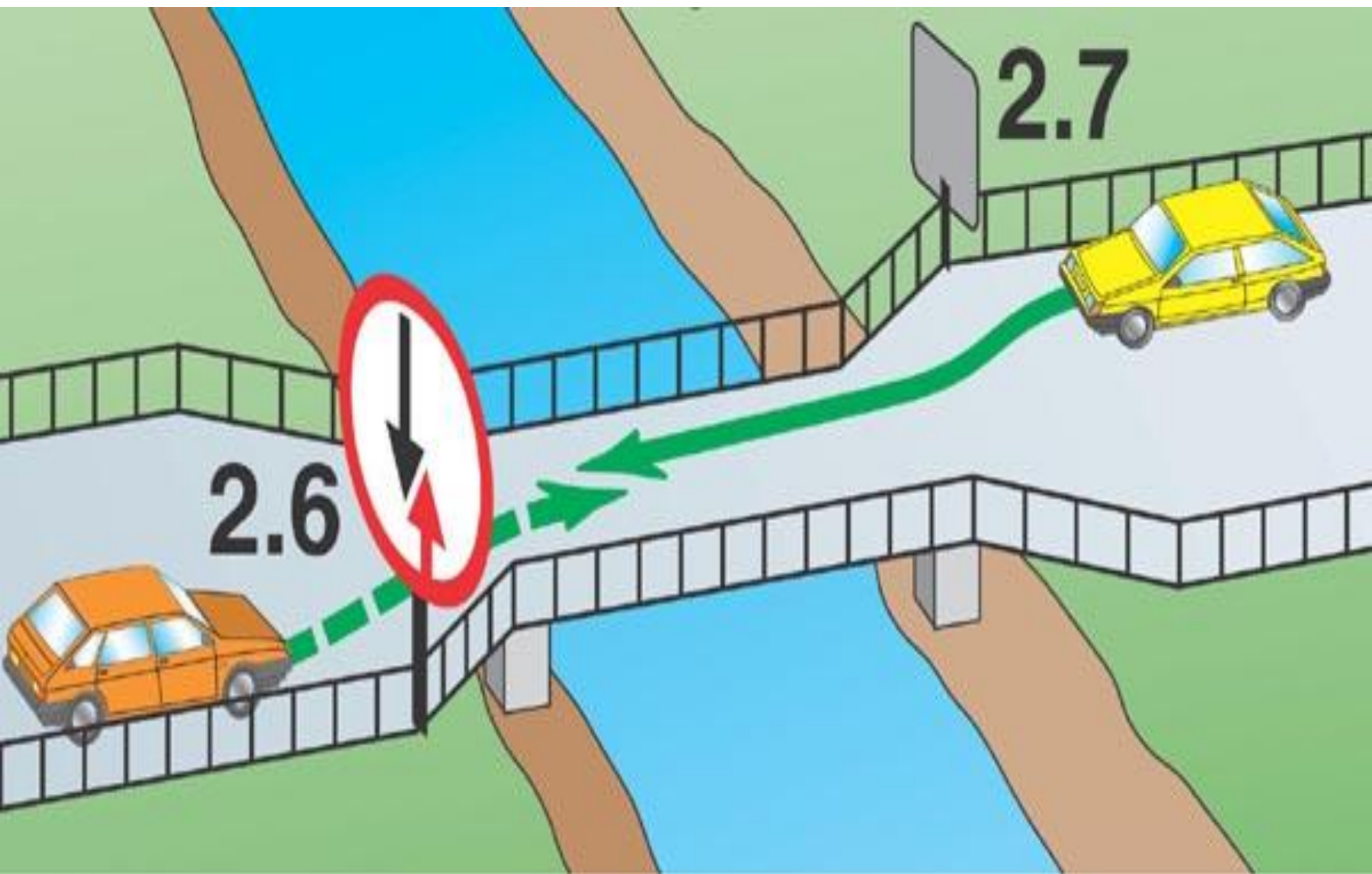
2.6

**Преимущество
встречного
движения**



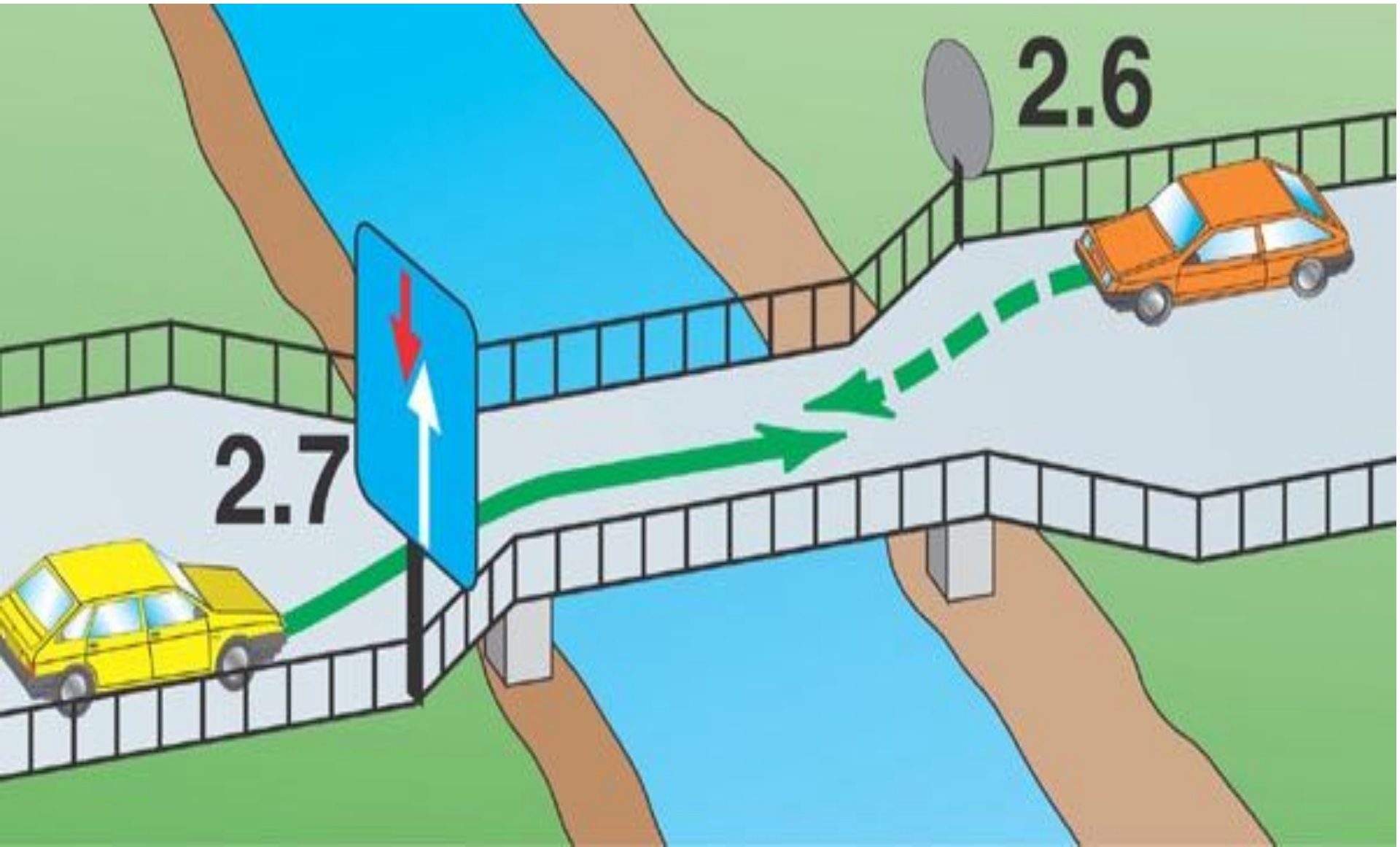
2.7

**Преимущество
перед встречным
движением**



2.6

2.7





Разрешено ли Вам въехать на мост одновременно с мотоциклистом, если Вы не затрудните ему движение?

1. Да.
2. Нет.



А



Б



В



Г

Какие знаки означают, что Вы должны уступить дорогу, если встречный разъезд затруднен?

1. Только В.
2. А и В.
3. Б и В.
4. Б и Г.



А



Б



В

Какие знаки предоставляют Вам преимущество при проезде нерегулируемых перекрестков?

1. Только А.
2. А и В.
3. Все.