

СВОЯ ИГРА

Создано учителем: Новиковой М.Е.

ВРЕМЯ

ПОСЧИТАЙ

РЕБУСЫ

АНАГРАММЫ

**ЗАМОРОЧКИ
И
ИЗ БОЧКИ**

100

100

100

100

100

200

200

200

200

200

300

300

300

300

300

400

400

400

400

400

500

500

500

500

500

**СКОЛЬКО МИНУТ
В 3 ЧАСАХ?**



180 МИНУТ



**Если в 12 часов ночи
идет дождь, то можно ли
через 72 часа ожидать
солнечную погоду?**




Нет, будет опять ночь



Двое играли в шахматы
2 часа. Сколько часов
играл каждый?



2 часа



Сейчас 6 часов вечера.
Какая часть суток
прошла?



3/4



Часы бьют один раз
каждые полчаса.

Сколько раз пробьют
Часы за одни сутки?




48 раз



В семье у каждого из
шести братьев есть
по сестре. Сколько
детей в этой семье?



7 детей




Зайцы пилят бревно.
Они уже сделали 12
распилов. Сколько
получилось чурбаков?




13




**Сколько получится
десятков, если 2 десятка
умножить на 3 десятка?**




60 десятков



У Марины одно целое
яблоко, две половинки
и четыре четвертинки.
Сколько яблок у




Три яблока



Три курицы за 3 дня
снесли 3 яйца.

Сколько яиц снесут
12 кур за 12 дней?



48 яиц




T



И=A

Точка






Минус






$$K=M$$

Сумма



2"



"Ъ


ДРОБЬ



СчастливыЙ случай



500 баллов



БОРМ




РОМБ



ДАРАКВТ




КВАДРАТ



ЛЕТЛИВЕД



ДЕЛИТЕЛЬ



ПРИЦЯОРОП



ПРОПОРЦІЯ



ИТЛИЬЛЕСЧ



ЧИСЛИТЕЛЬ



Каков рост Дюймовочки?



дюйм=2,54см



Пять стогов и семь стогов



на свеэли и сложил
вместе. Сколько



Один



Три ласточки вылетели
из одной точки,
когда они будут
в одной плоскости?



В любой момент



**Мал золотник,
да дорог. Чему
равен золотник?**

Золотник=4,3 г.



В древности такого термина
не было. Его ввел в 17 веке
французский математик
Франсуа Виет,
в переводе с латинского он
означает «спица колеса».
Что это?

Радиус



СПАСИБО ВАМ ИГРУШКИ МОЛОДЦЫ!

