

Задания по теме: «Северо- Западный экономический район»

Кириченко Нина Николаевна –преподаватель географии Нахимовского
военно-морского училища

Практическая работа

На контурную карту нанести государства и экономические районы, с которыми граничит Северо-Западный экономический район.

Образец

На контурной карте показать основные субъекты федерации и центры субъектов в составе Северо-Западного района.

Образец

На контурной карте обозначьте крупные промышленные центры района, электростанции, порты

Образец



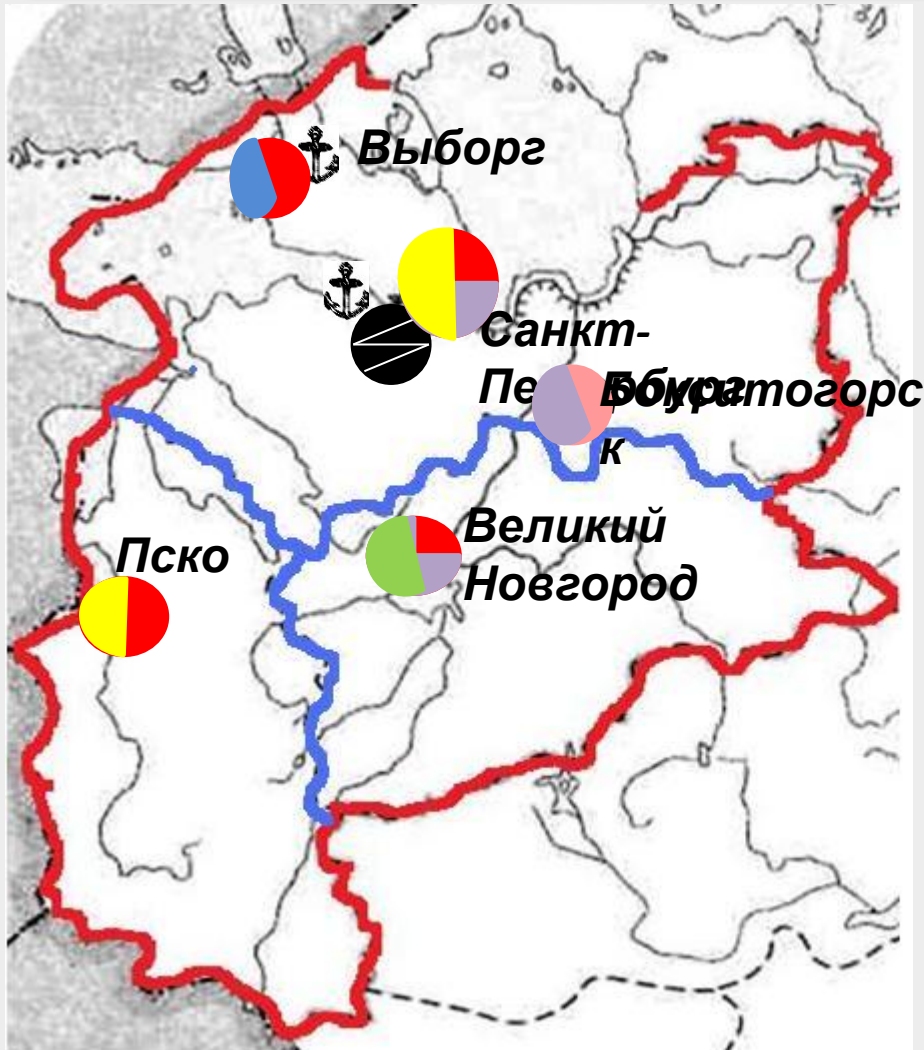
Практическая работа



Практическая работа



Практическая работа



Порты



Ленинградская
АЭС



Машиностроение



Химическая



Пищевая



Лесная



Легкая



Цветная
металлургия



Тест по теме «Северо-Западный район»

1. С какими из перечисленных стран граничит Северо-Западный район?
А. Польша и Финляндия
В. Эстония и Швеция
Б. Латвия и Финляндия
Г. Литва и Словакия
2. В состав Северо-Западного экономического района входит...
А. Тверская область
В. Смоленская область
Б. Псковская область
Г. Ярославская область
3. Что является главной чертой географического положения района?
А. Положение в пределах Русской равнины
В. Бывшее столичное положение
Б. Приморское положение
Г. Окраинное положение
4. Какая часть населения проживает в Северо-Западном районе?
А. 5,6%
В. 8,5%
Б. 10,5%
Г. 12,4%
5. Северо-Западный экономический район специализируется на
А. Черной металлургии
В. Электроэнергетике
Б. Химической промышленности
Г. АПК

Проверк

а



1. С какими из перечисленных стран граничит Северо-Западный район?
А. Польша и Финляндия
В. Эстония и Швеция
Б. Латвия и Финляндия
Г. Литва и Словакия
2. В состав Северо-Западного экономического района входит...
А. Тверская область
В. Смоленская область
Б. Псковская область
Г. Ярославская область
3. Что является главной чертой географического положения района?
А. Положение в пределах Русской равнины
В. Бывшее столичное положение
Б. Приморское положение
Г. Окраинное положение
4. Какая часть населения проживает в Северо-Западном районе?
А. 5,6%
В. 8,5%
Б. 10,5%
Г. 12,4%
5. Северо-Западный экономический район специализируется на
А. Черной металлургии
В. Электроэнергетике
Б. Химической промышленности
Г. АПК



Вопросы

1

Ленинградская область, Псковская область,
Новгородская область, Санкт-Петербург

2

Машиностроение, химическая, пищевая,
цветная металлургия, лесная

3

Ленинградская АЭС

4

Алюминиевая промышленность

5

Приморское положение



Задание 1. По данным таблицы построить столбчатую диаграмму «Отраслевая структура промышленности Северо-Западного района»

Отрасль промышленности	Доля в промышленной продукции, %
Электроэнергетика	4,4
Топливная	2,5
Черная металлургия	1,0
Цветная металлургия	1,5
Химическая промышленность	4,3
Машиностроение	7,4
Лесная промышленность	7,1
Промышленность строительных материалов	4,7
Легкая промышленность	4,9
Пищевая промышленность	5,0

2

3

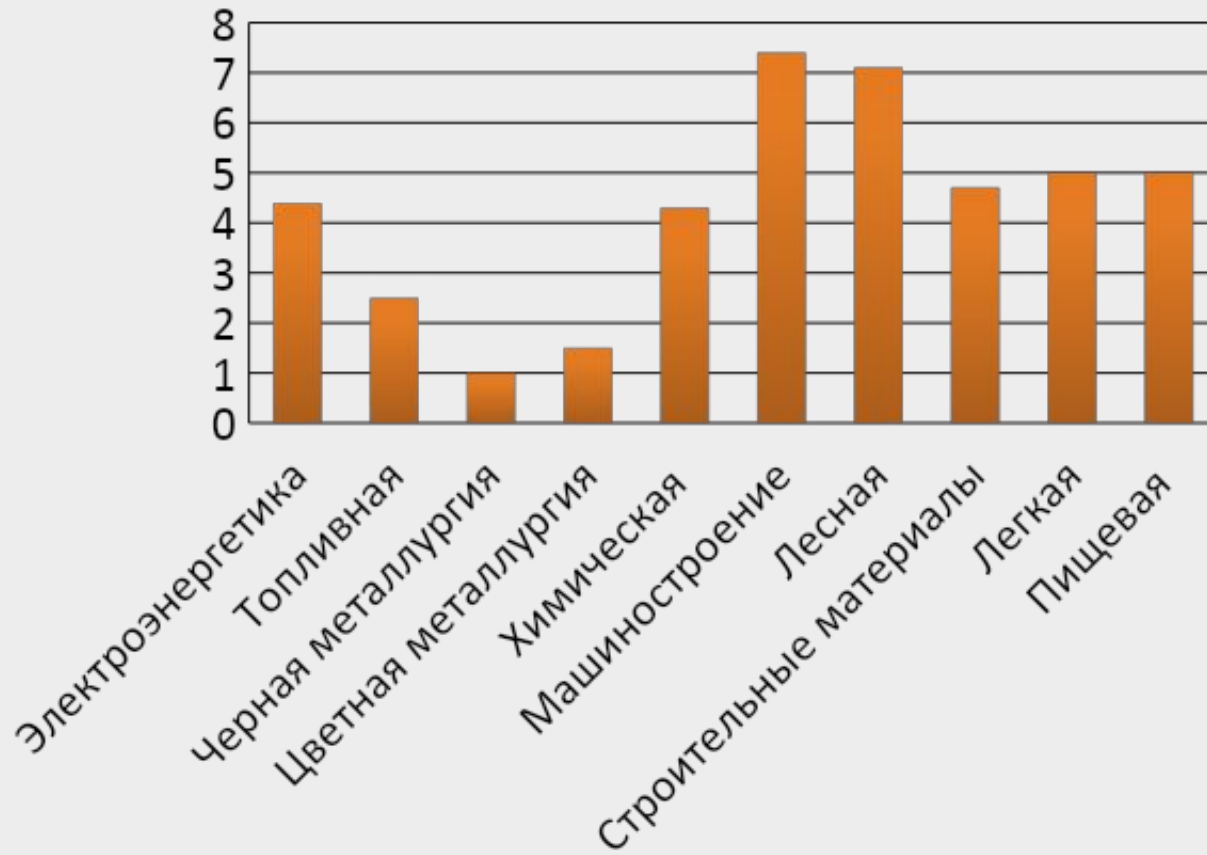
4

5

Образец



Образец к 1 заданию



Задание 2. Выберите верные утверждения.		Да	Нет
1	Северо-Западный - самый маленький экономический район России.	<input type="radio"/>	<input type="radio"/>
2	Плотность населения Северо-Западного района одна из самых низких в России.	<input type="radio"/>	<input type="radio"/>
3	Отличительная черта Северо-Запада –выгодное положение по отношению к торговым путям.	<input type="radio"/>	<input type="radio"/>
4	Санкт-Петербург –центр алюминиевой промышленности.	<input type="radio"/>	<input type="radio"/>
5	Развиты все виды транспорта. Обеспеченность транспортной сетью одна из самых высоких в стране.	<input type="radio"/>	<input type="radio"/>
6	Район обеспечен высококвалифицированными ресурсами.	<input type="radio"/>	<input type="radio"/>
7	Машиностроение, химическая, легкая и пищевая промышленность –отрасли специализации.	<input type="radio"/>	<input type="radio"/>

1

3

4

5



Вариант 3 Определите по описанию субъект федерации, входящий в состав Северо-Западного экономического района.

1

2

3

4

4. Областной центр – старейший город России, столица средневековой феодальной республики, расположен на р. Волхов. Здесь производят азотные и комплексные удобрения. Здесь родился известный географ и путешественник Н.Н. Миклухо-Маклай.

Субъекты федерации	Ответ
Псковская область	2
Нижегородская область	4
Ленинградская область	3
Санкт-Петербург	1

Проверка

1

2

4

5



Задание 4 Имена каких известных людей России связаны с Северо-Западом? Составьте таблицу, в которую занесите:

а/имена и фамилии этих людей

б/годы их жизни

в/место проживания

г/кем они являлись /ученый, поэт, изобретатель и др./

д/чем прославились /их заслуги перед Россией/

При заполнении таблицы можно пользоваться ресурсами интернет

1

2

3

5

Образец

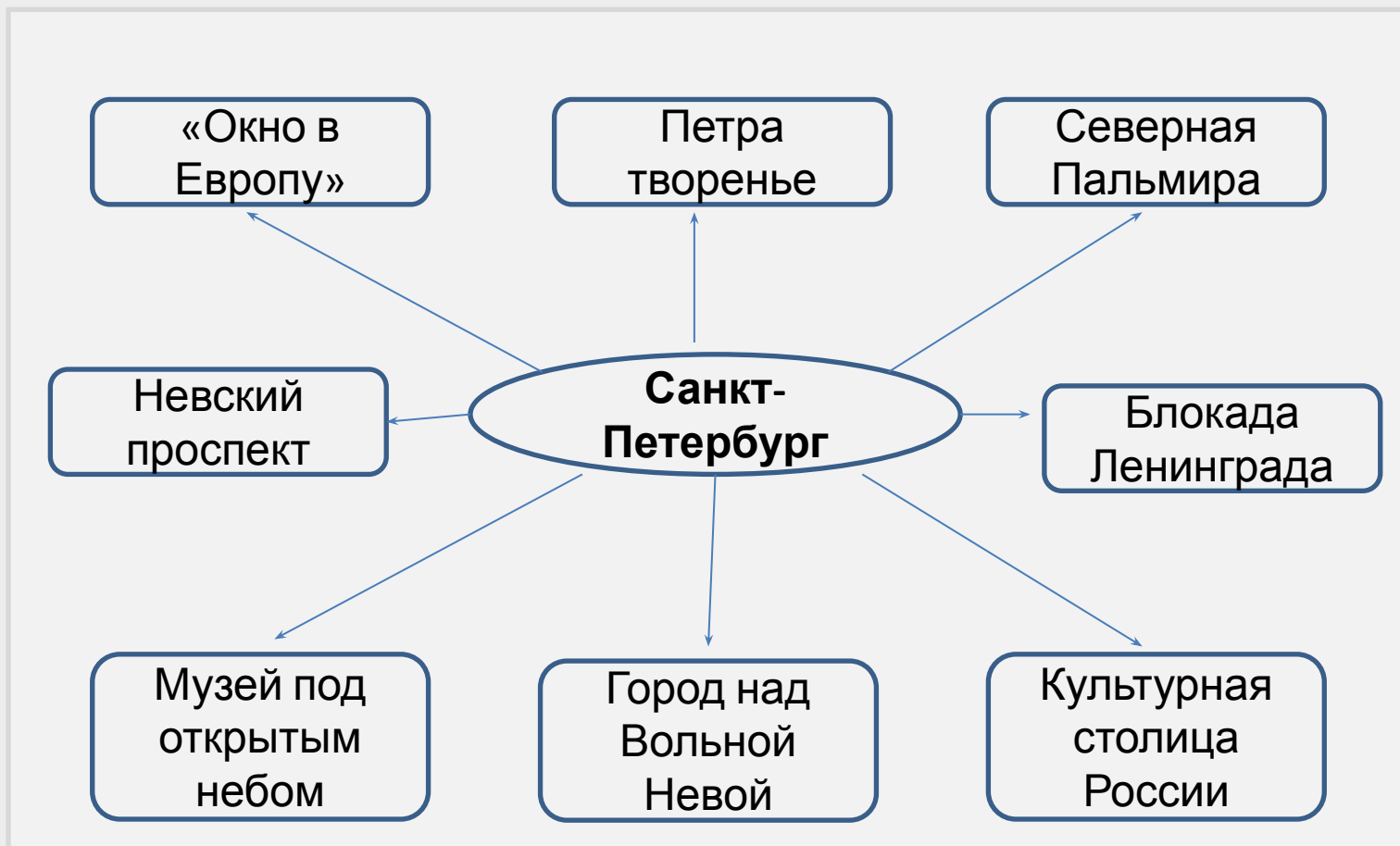


Образец к 4 заданию

Имена и фамилии знаменитых людей	Годы жизни	Место проживания	Область деятельности	Заслуги
Пушкин А.С.	1799-1837	г.Санкт-Петербург Михайловское Псковская	Литература	Великий русский поэт
Ушаков Ф.Ф.	1745-1817	область г.Санкт-Петербург	Военное дело	Адмирал, участник русско-турецкой войны
Пржевальский Н.М.	1839-1888	г.Санкт-Петербург	География	Исследователь Центральной Азии



Задание 5 Используя строчки из стихов, фрагменты литературных произведений, метафоры составьте кластер «Санкт-Петербург в жизни россиян» Образец



1

2

3

4



Вопросы ГИА и ЕГЭ

А1. В состав Северо-Западного экономического района входит...

А. Тверская область

В. Смоленская область

Б. Псковская область

Г. Ярославская область

А2. С какими из перечисленных стран граничит Северо-Западный район?

А. Белоруссия и
Финляндия

В. Латвия и Норвегия

Б. Эстония и Швеция

Г. Литва и Словакия

А3. Какая часть населения России проживает в Северо-Западном райо

А. 5%

В. 10,5%

Б. 8,5%

Г. 12,4%

Ответы

1-Б; 2-А; 3-
А



В1. К берегам какого залива имеет выход Ленинградская область?

Ответ

Финский залив

В2. Используя данные таблицы, определите среднюю плотность населения в Псковской области. Ответ запишите цифрами.

Регион	Площадь территории , тыс.км ²	Численность населения, тыс. чел.
Псковская область	55,399 тыс км	673,5

Ответ

12 чел.на 1 км²

В3. Расположите перечисленные города Северо-Западного района в порядке увеличения численности их населения

А) Псков
Б) Великие Луки
Новгород

В) Выборг
Г) Великий

Ответ

В,Б,Г,А



С1. Какие факторы способствуют развитию в пределах Северо-Западного района туристско-рекреационного комплекса? Укажите не менее двух факторов.

1. Многочисленные памятники истории и культуры в Великом Новгороде, Пскове, Санкт-Петербурге и городах Санкт-Петербургской агломерации.
2. Хорошо развитая инфраструктура района.

С2. Чем обусловлено размещение алюминиевого завода в городе Волхов Ленинградской области? Укажите не менее двух факторов

1. Наличие ГЭС, поскольку производство металлического алюминия- энергоемкое производство.
2. Наличие бокситов /Тихвин/ и глиноземных заводов в г. Пикалево и г. Бокситогорске.

