



Предмет: математика

Клас: 5

Тема: Порівняння десяткових дробів

Вчитель: Задорожнюк С.І.

Школа : Павлівська загальноосвітня



I-III ступенів



Що там цікавого?

Я залишусь

вдома,
посплю!




Привіт! Ми
вирушаємо у
подорож по країні
ДРОБИ. Ти з нами?

Прочитайте ці числа, щоб пройти до міста



1,2; 5,7; 0,14; 0,06; 2,014; 1,02; 0,052;
10,02; 154,235; 45,1402; 9,012; 0,36



$$\frac{14}{10} = 1 \frac{4}{10} = 1 \frac{2}{5}$$

Ми зараз нам ідемо! Назвіть
Перетворіть непростий звичайний
серед дробів то не правильний
дріб, який має чисельник 14 і ...
хмара, кінце



$$\frac{14}{15}; \frac{14}{10}; \frac{12}{5};$$



Напишіть назви кожного розряду числа

143,052

0	ДЕСЯТІ
1	СОТНІ
2	ТИСЯЧНІ
3	ОДИНИЦІ
4	ДЕСЯТКИ
5	СОТІ

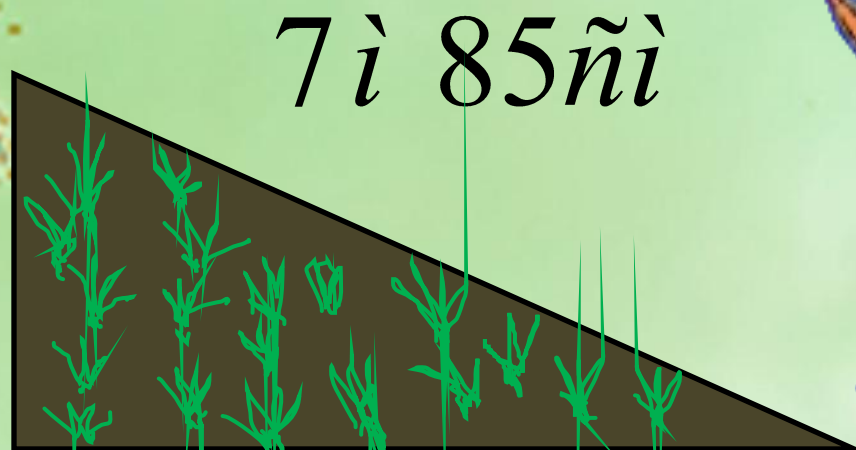


**У нас з'явився новий
друг! Чудово!**

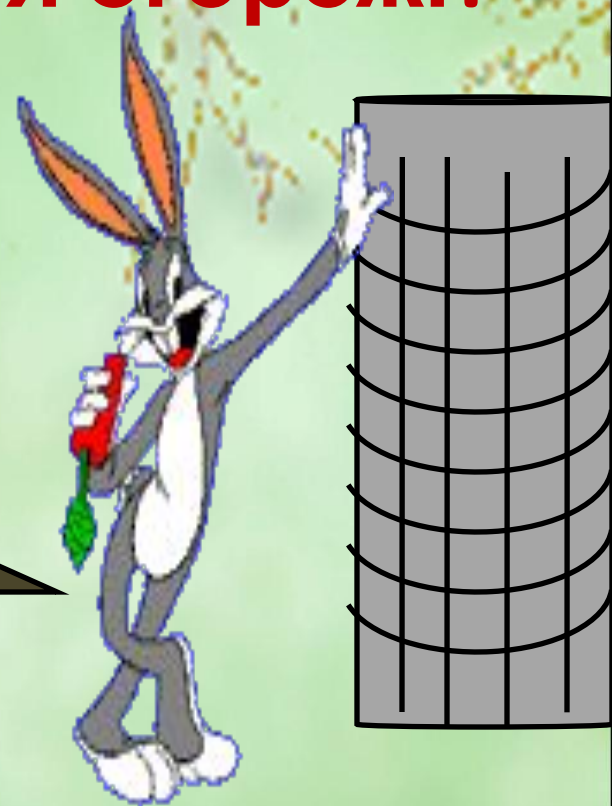
Кролик вирощує на городі улюблену моркву. Дізнайтесь, чи вистачить йому 12 метрів паркану для огорожі?



2 і 65 нї



4 і 45 нї



13 і 195 нї = 14 і 95 нї




35,9 0000

64,0000



Працюйте разом

Десятиформі числа порівнюють і в рядно і так то цілі розділяють на частини з десяти, соти, тисячі, мільйони, і т.д. Десять разів менше, ніж соти - з сотими. Поясніть на прикладі, як це робиться



2,56
125,6
25,6
256
0,256
4,56

5,6
5,16
5,62
5,63
5,06
5,60
5,634



Працюйте разом:
розставте числа у порядку зростання



Песик плаче, бо не може впорядкувати
числа.

Допоможіть розставити їх в порядку
зростання

25,6 25,16 25,62 125,6 256 2,56

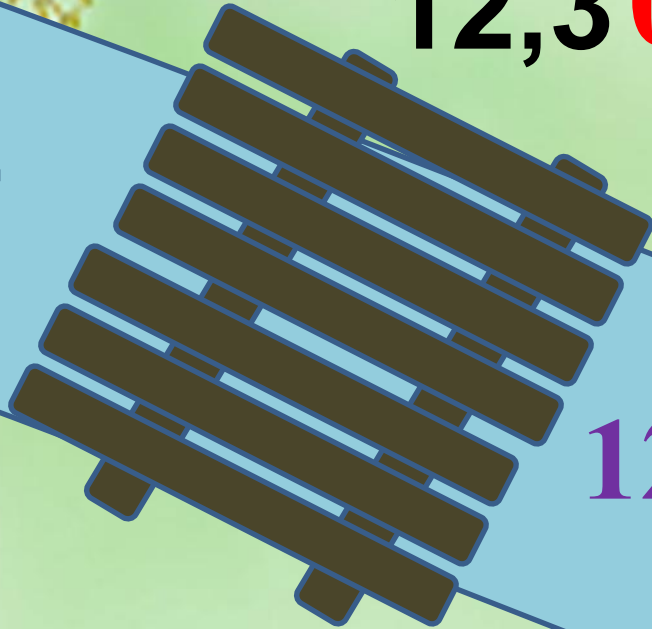


Щоб встигнути перейти на інший берег,
швидко підбери дроби, які
задовольняють нерівність

12,36

12,04

$12,30 < a < 12,50$



12,4

12,2

12,42



Працюйте разом

Подорож містом закінчилась. Але джину потрібна наша допомога.



Підберіть такі цифри, щоб нерівності були вірними:

$$2,45 < 2,4_ < 2,49$$

$$7,3 < 7,3_ < 7,4$$



Перевір:

$$2,45 < 2,46 < 2,49$$

$$2,45 < 2,47 < 2,49$$

$$2,45 < 2,48 < 2,49$$

$$7,3 < 7,31 < 7,4$$

$$7,3 < 7,32 < 7,4$$

$$7,3 < 7,33 < 7,4$$


$$7,3 < 7,34 < 7,4$$

$$7,3 < 7,35 < 7,4$$



Б Д


Рухаємось під чудову мелодію



**Після розминки можна
попрацювати.
Завдання**



Працюйте разом



**Подорож була
цікава? Які пригоди
вам запам'ятались?**



Відповідайте



**Пропоную ще два
смайлика за виконане
завдання. Працюйте
парами за комп'ютерами**

