

ЧАСТЬ 1

РАЗДЕЛ III. Монументальная архитектура стран Древнего Востока (9 баллов)

- Как называется архитектурное сооружение, в какой стране и городе оно находится?


Вариант ответа:

*0. Пирамиды Микерина, Хеопса, Хефрена. Египет,
Гиза*




Как называется архитектурное сооружение, в какой стране и городе оно находится?

- 1



Как называется архитектурное сооружение, в какой стране и городе оно находится?

- 2




Как называется архитектурное сооружение, в какой стране и городе оно находится?

• 3




Как называется архитектурное сооружение, в какой стране и городе оно находится?

- 4



Как называется архитектурное сооружение, в какой стране и городе оно находится?

• 5



Как называется архитектурное сооружение, в какой стране и городе оно находится?

- 6



Как называется архитектурное сооружение, в какой стране и городе оно находится?

• 7



Как называется архитектурное сооружение, в какой стране и городе оно находится?

• 8



Как называется архитектурное сооружение, в какой стране и городе оно находится?

- 9



**РАЗДЕЛ IV. Изобразительное искусство
стран Древнего Востока.
(6 баллов+2 творческих балла)**


**Чье скульптурное
изображение вы
видите на снимке?
Укажите название
работы и страну.**

• 1




**Чье скульптурное
изображение вы
видите на снимке?
Укажите название
работы и страну.**

• 2



**Чье скульптурное
изображение вы
видите на снимке?
Укажите название
работы и страну.**

• 3




**О каких видах деятельности человека рассказывают нам предложенные фрески Древнего Египта?
Расскажите об одной из них.**

4.



5.



6.




О каких видах деятельности человека рассказывают нам предложенные фрески Древнего Египта? Расскажите об одной из них.

• 4



**О каких видах
деятельности
человека
рассказывают нам
предложенные фрески
Древнего Египта?
Расскажите об одной
из них.**

• 5



О каких видах деятельности человека рассказывают нам предложенные фрески Древнего Египта? Расскажите об одной из них.

• 6



Часть 2

Задание II. Живопись Китая

- Назовите жанры китайской живописи.
- *За каждый правильный ответ 1 балл.
Всего 3 балла.*

Назовите жанры китайской живописи.

• а



**Назовите жанры
китайской
живописи.**

•6



**Назовите
жанры
китайской
живописи.**

• **В**



Задание VII.

Соотнесите архитектурное сооружение

- За каждое правильно выстроенное соотнесение 2 балла. Всего 10 баллов.
- 2 поощрительных балла за абсолютно правильный ответ.
- Вариант ответа: 1. вА

1.



2.



3.



4.



5.



Задание VIII

- Назовите изображенные на картинках предметы, виды искусства
- *За каждый правильный ответ 1 балл.
Всего 12 баллов*

Назовите изображенные на картинках предметы, виды искусства

- 1



Назовите изображенные на картинках предметы, виды искусства

- 2



Назовите изображенные на картинках предметы, виды искусства

- 3



Назовите изображенные на картинках предметы, виды искусства

- 4



Назовите изображенные на картинках предметы, виды искусства

- 5



Назовите изображенные на картинках предметы, виды искусства

- 6



Назовите изображенные на картинках предметы, виды искусства

• 7



Назовите изображенные на картинках предметы, виды искусства

- 8



Назовите изображенные на картинках предметы, виды искусства

• 9



Назовите изображенные на картинках предметы, виды искусства

- 10



Назовите изображенные на картинках предметы, виды искусства

- 11



Назовите изображенные на картинках предметы, виды искусства

- 12




Задание IX.

Соотнесите изображение с названием и страной, где находится.

- За каждое правильное соотнесение 2 балла. Всего 10 баллов. 2 поощрительных балла за абсолютно правильный ответ
- Вариант ответа: 1.вА

1.



2.



3.



4.



5.

