

# МИР

# МАТЕМАТИКИ

## "СЧАСТЛИВЫЙ СЛУЧАЙ"


### игра

Для учащихся



Команда №1

# Беспокойные сердца.



далее

Этот турнир ждали мы  
По нему стосковались умы  
Дружно будем задачи решать -  
Мы хотим математику знать.  
Как же нам не веселиться?  
Не смеяться, не шутить?  
Ведь сегодня на турнире  
Мы решили победить

**ДЕВИЗ :**  
**НЕ ОСТАНАВЛИВАТЬСЯ НА ДОСТИГНУТОМ.**

Команда №2

# **Математики.**

Сегодняшний турнир

Мы выиграть хотим

И просто вам победу не дадим


Придётся попотеть и постараться

За каждое очко мы будем драться

Смекалку мы проявим и отвагу

А если вдруг не повезёт

Победа всех когда -нибудь найдёт.



дале

е

**ДЕВИЗ :**

**ТОЛЬКО ВПЕРЁД**



# Правила игры

Командам поочерёдно задают вопросы примерно в том же темпе, как в известной телевикторине «Счастливый случай».

Победителем объявляется команда, ответившая на большее число вопросов, чем соперники.

далее

# Вопросы – команде № 1

1. Двое играли в шахматы 2ч. Сколько времени играл каждый?
2. Какой знак надо поставить между двумя двойками, чтобы получить число больше двух, но меньше трёх?
3. Три разных числа сначала сложили, затем их же перемножили. Сумма и произведение оказались равными. Какие это числа?
4. Наименьшее натуральное число?
5. Бежала тройка лошадей. Каждая лошадь пробежала 5 км. Сколько километров проехал ямщик?
6. Прибор для построения окружности?
7. Какой буквой записывалось число 50 в Древнем Риме?
8. Может ли при делении получиться ноль?
9. Отрезок, соединяющий точку окружности с центром.
10. Сколько надо букв «г», чтобы получилась большая куча сена?
11. Формула площади прямоугольника, со сторонами  $a$  и  $b$ ?
12. Два в квадрате – 4, три в квадрате – 9. Чему равен угол в квадрате?
13. Чему равно  $13 \cdot 25 \cdot 0 \cdot 0,1$ ?
14. Найдите 1% рубля.
15. В семье у каждого из шести братьев есть по сестре. Сколько детей в этой семье?

[далее](#)



# Вопросы - команде № 2

1. Тройка лошадей пробежала 30 км. Какое расстояние пробежала каждая лошадь?
2. Что легче: 1кг ваты или 1кг железа?
3. Петух стоя на одной ноге весит 5 кг. Сколько он будет весить, если встанет на две ноги?
4. Формула периметра прямоугольника со сторонами а и в?
5. Прибор для измерения углов?
6. К однозначному числу, большему нуля, приписали такую же цифру. Во сколько раз увеличилось число?
7. Чему равна  $\frac{1}{4}$  часть часа?
8. Сколько действующих лиц в сказке «Репка»?
9. Может ли при умножении получиться ноль?
0. Единица массы драгоценных камней?
1. Площадь прямоугольника 36 см<sup>2</sup>. Чему равна сторона квадрата с такой же площадью?
2. К натуральному числу справа приписали три нуля. Во сколько раз увеличилось число?
3. Какой объект не увеличивает увеличительное стекло?
4. Одно яйцо варят 4 мин. Сколько минут нужно варить 5 яиц?
5. Разделите 100 на половину?



далее





# Послесловие:

- В интернет ты войди,
- «Ту» страницу найди.
- Чтобы ты не блуждал,
- В ту страницу попал.
- Я тебе мой дружок
- Адресок подсказал.

Адрес очень простой  
[www. ru](http://www.school.ru)

[www.school.ru](http://www.school.ru)

u

Ты предмет свой найди,  
Только там не «кури»  
И раздел посмотри.

дале

е




Ну, а если «дружок»  
Ничего не найдёшь.  
Посмотри в уголок  
На другой адресок.

[www.informika.ru](http://www.informika.ru)

[Vschool.km.ru](http://Vschool.km.ru)

u





# Эпилог:



Если хочешь опять  
Ты меня повстречать.  
Прокрути, просмотри  
Вновь работу мою.

Я живу не в глуши.  
В интернет не ходи.  
Там меня не ищи.

Ведь о технике «той»  
Можно только мечтать.

Хоть не долг наш век,  
Может снова опять  
Я приеду, приду.  
И друзей тут своих  
Повстречаю опять...

Но довольно!

**ПОКА!**

Вот закончилось всё  
И тебе хочется знать,  
«Кто-ж победил?»  
По названию команд  
Ты догадался опять.




Это только Мечта.....

На  
начало






# ОТВЕТЫ -1



1. 2ч.
2. Запятую.
3.  $1+2+3=1*2*3$
4. 1
5. 5 км.
6. Циркуль.
7. L
8. Да.
9. Радиус.
10. Сто.
11.  $S=a \cdot b$
12.  $90^\circ$
13. 0
14. 1 копейка
15. 7

Не нужно многого умения  
Прочтя вопросы те.  
И правильно ответишь без  
сомнения,  
А всё ж засомневался ты!.



далее

е

# ОТВЕТЫ -2



1. 30 км
2. Одинаково
3. 5 кг
4.  $P=2(a+b)$
5. Транспортир
6. В 11раз
7. 15 мин.
8. 6
9. Да.
10. Карат
11. 6 см
12. В 1000раз
13. Угол
14. 4 мин.
15. 200



Вот и снова «дружок»  
Ты в ответ заглянул.  
Видно что-то не так,  
Раз об этом смекнул.



далее

е

# ВОПРОСЫ КОМАНДЕ №1

1. Двое играли в шахматы 2ч. Сколько времени играл каждый?
2. Какой знак надо поставить между двумя двойками, чтобы получить число больше двух, но меньше трёх?
3. Чему равен 1 пуд?
4. Наименьшее натуральное число?
5. Бежала тройка лошадей. Каждая лошадь пробежала 5 км. Сколько километров проехал ямщик?
6. Прибор для построения окружности?
7. Какой буквой записывалось число 50 в Древнем Риме?
8. Может ли при делении получиться ноль?
9. Какую часть часа составляет 20 минут?
10. Сколько надо букв «г», чтобы получилась большая куча сена?
11. Формула площади прямоугольника, со сторонами а и в?
12. Два в квадрате – 4, три в квадрате -9. Чему равен угол в квадрате?
13. Чему равно  $13 \cdot 25 \cdot 0 \cdot 0,1$ ?
14. Найдите 1% рубля.
15. В семье у каждого из шести братьев есть по сестре. Сколько детей в этой семье?