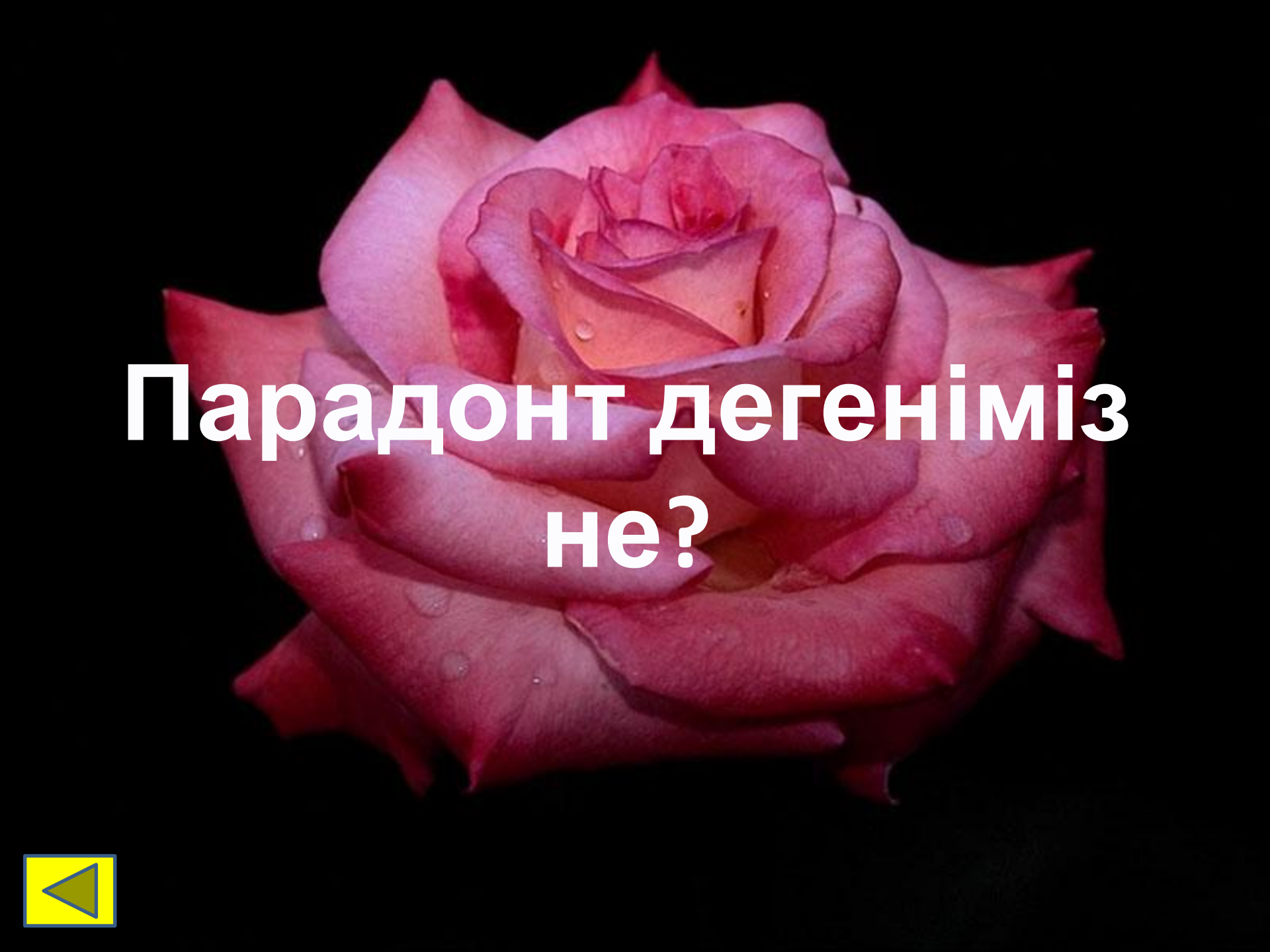



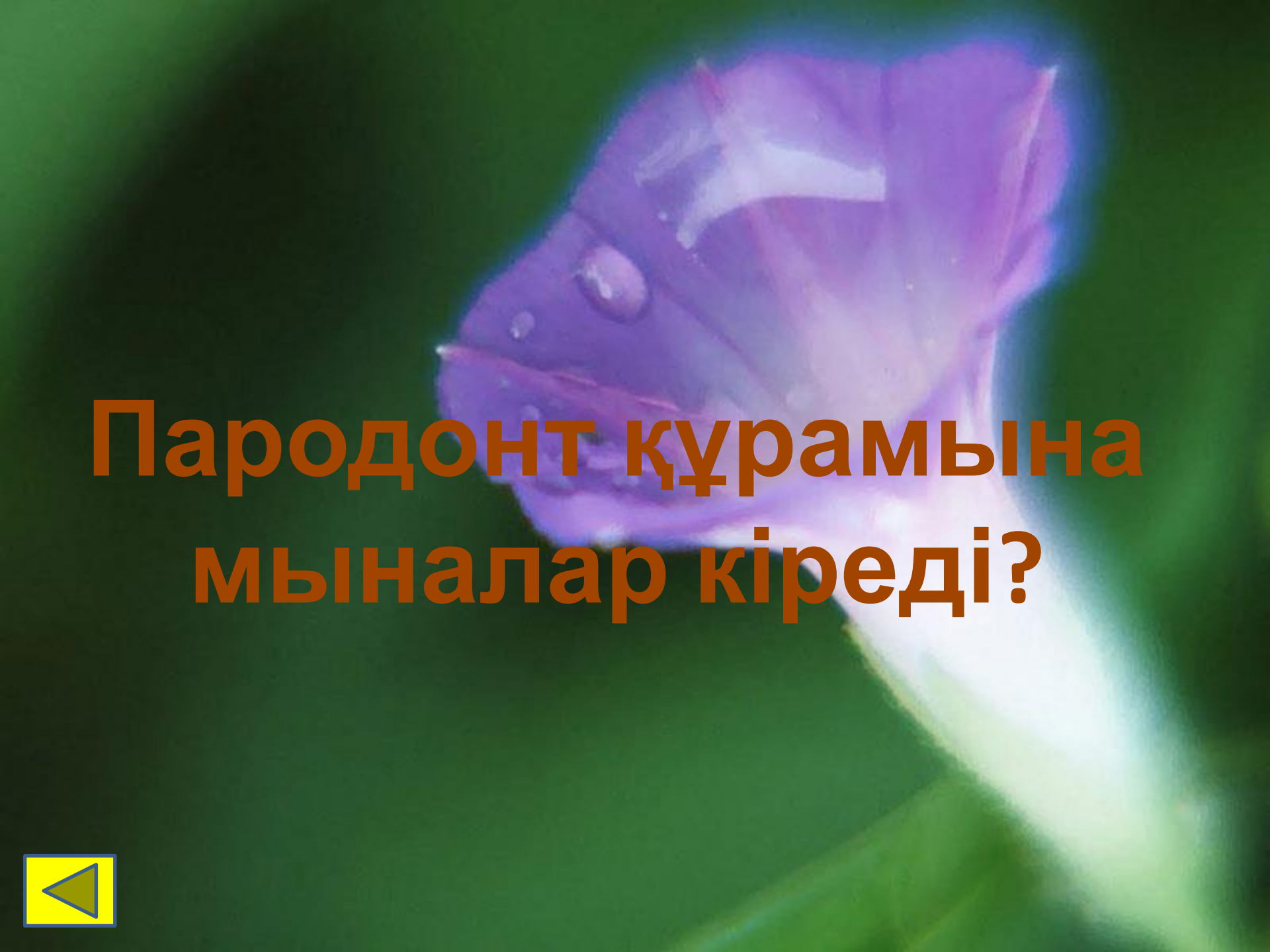
A 4x3 grid of numbers is centered on a landscape background. The background features rolling green hills in the foreground, snow-capped mountains in the mid-ground, and a blue sky with light clouds. The grid consists of 12 cells, each containing a number. The numbers are arranged in a pattern that increases from top-left to bottom-right. The colors of the cells alternate in a checkerboard pattern: dark blue for the top-left, top-right, middle-right, and bottom-right cells, and white for the top-middle, middle-left, middle-middle, and bottom-middle cells.

10	10	20
30	40	40
60	60	70
80	90	90




**Парадонт дегеніміз  
не?**





**Пародонт құрамына  
мыналар кіреді?**



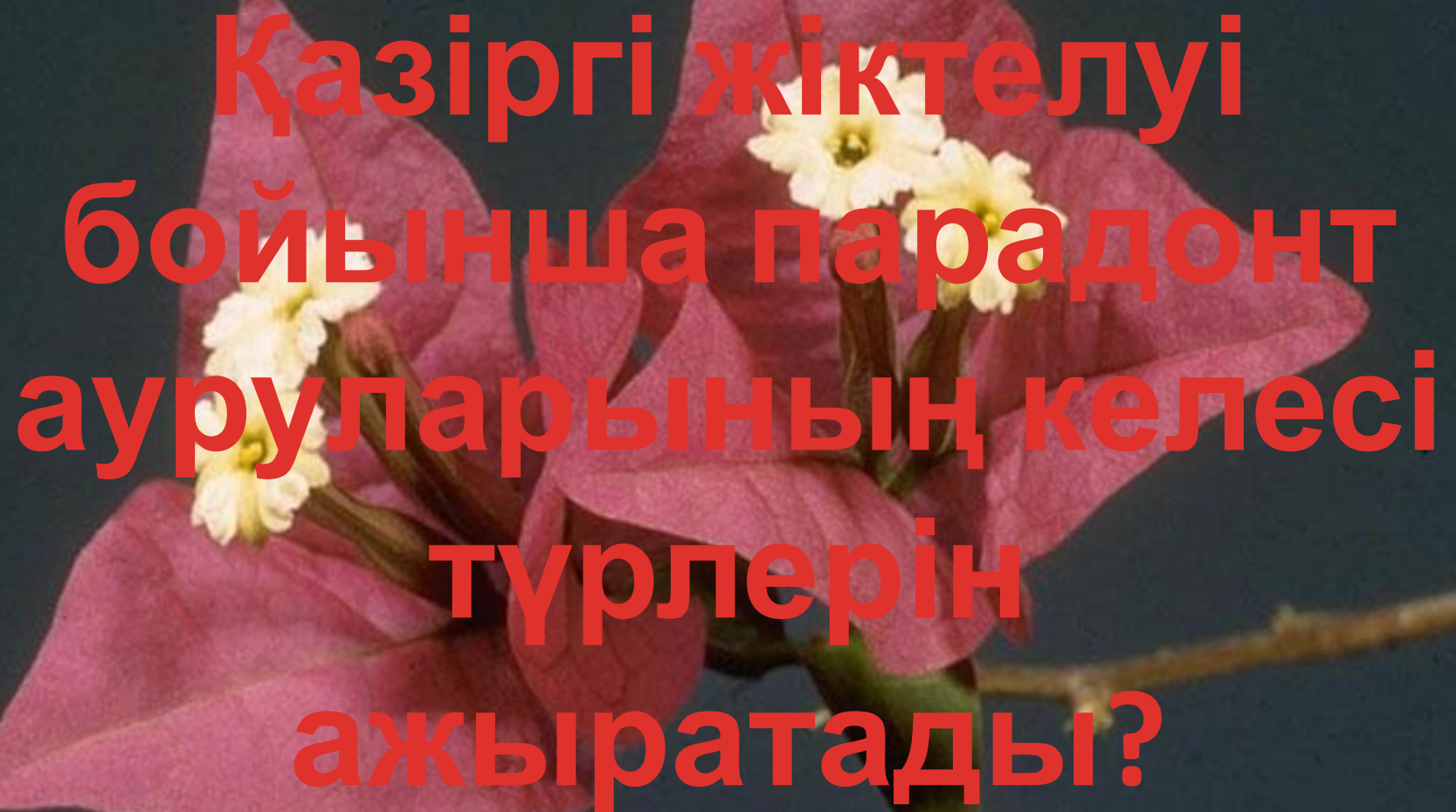
**ПАРАДОНТИТ  
БОЛҒАН ЖАҒДАЙДА  
МИКРООРГАНИЗМД  
ЕРДІҢ БІРНЕШЕ  
ТҮРЛЕРІ  
БАЙҚАЛАДЫ?**






Парадонтит кезіндегі  
емдеу жолдары?






**Қазіргі жіктелуі  
бойынша парадонт  
ауруларының келесі  
түрлерін  
ажыратады?**



**ПАРАДОНТ  
ҚАБЫНУЫ  
БОЛУЫНА ҮЛКЕН  
МАНЫЗДЫ РӨЛДІ .....  
АТҚАРАДЫ?**



**Парадонт ауруының  
дамуына әкелетін ең  
басты себептерінің  
бірі болып .....  
табылады?**





**Дамып келе жатқан  
қан жасушаларының  
I класына сипаттама  
беріңіз?**



**ДАМЫП КЕЛЕ  
ЖАТҚАН ҚАН  
ЖАСУШАЛААРЫҢ,  
II КЛАСЫНА  
СИПАТТАМА  
БЕРІҢІЗ?**

