



**Кызыклы
математика**

10 20 30 40 50

**«Ох, бу
алгебра!»**

10 20 30 40 50

Тигезләмәләр

10 20 30 40 50

**Тиз исәплә, тиз
уйла!**

10 20 30 40 50



**5 укучы 5 йомырканы 5
минутта пешерер.**

**10 укучы 10 йомырканы
ничә минутта пешерер?**



**Бер гаиләдә 2 ата, 2 ул, 1
онык. Болар барлығы
ничә кеше?**



**Бүлмэдэ почмак саен бер мөчө,
һәр мөченең койрыгында 1 мөчө,
һәр мөченең каршысында өчәр
мөчө.**

Бүлмэдэ барысы ничә мөчө?



**7 шәм яна иде,
берсен сүндерделәр.
Ничә шәм калыр?**



**Пончикның комбинезонында
17 кесәсе бар:
10 кесә- алда,
калганнары – артта.**




**Алгы кесәләрдә 2 шәр пончик,
арттагыларында – 3әр.**


**Барлығы Пончикның ничә
пончигы бар ?**




**Иң зур икеурынлы сан
белән аңа капма-
каршы сан аермасын
тап ?**




**Өч тапкыр кырык
һәм бишнең суммасы
ничә була?**




**3) Нинди санның
33 %ы 33 саны була?**



**2012 санының 4 нче
дәрәжәсе нинди
цифрға тәмамлана?**



**Ослик Иа – Иа съедает за
обедом 40 кустиков
чертополоха по 50 грамм
каждый. Винни – Пух – 4 банки
меда по полкило каждая. Кто
потяжелел за обед больше?**



Билгесез хэрэфне айтегез:
 $2x - 5 = 1$ (р), $2x - 1 = 13$ (л),
 $8 - x = ?$ Чишү ачкычы:
портфель.



2)Тигезләмә төзеп мәсьәләне чиш:

Класста 36 укучы.

Малайлар кызларга

караганда 2 тапкыр артык.

Класста ничә малай һәм

ничә кыз?




Кайсы тигезләмә артык?

1. $3x + 4 = 7,$


2. $18 - 5x = 8,$

3. $2x + 4 = 20,$


4. $9 - x = 5.$



**Чебурашка белэн крокодил
Генага, Шапокляк карчык 39 –
эшәкелек эшлэгән. Крокодилга
Чебурашкага караганда 7 гә
күбрәк эләккән. Нәрберсенә
карчык ничәшәр начарлык
эшлэгән?**




Гена белән Чебурашка урманга гөмбәгә барганнар. Крокодилга караганда Чебурашка 3 тапкыр күбрәк гөмбә тапкан. Аларның икесенә бергә 24 кортсыз гөмбәләре булып чыккан. Гөмбәләрнең яртысы кортлы булса, Гена ничә гөмбә тапкан?




1) Сорау урынындагы санны тап:

5 2
7 ! 12 8 ! 10

?
9 ! 16




2) Саннар рәтен дэвам
ит: 7, 9, 16, 25, 41.....




3) Саннар рәтен дәвам ит:

15, 1, 13, 2, 11, 3, 9



4) 1) Сорау урынындагы санны
тап:

24 (38) 52, 47 (50) 53,
14 (?) 38.



**Микки-маус 20 шар тотып
очып киткән. Ул киёмнәре
белән бергә 7 кг икән. һәр шар
0,5 кг «күтәрсә», түбән төшә
башлар өчен ничә шарны
ычкындырырга кирәк?**

