



**“Шаян- тапкыр
математиклар”**

10

20

30

40

50

**“Жир үлчөү
турында фән”**

10

20

30

40

50

“Жырлыйк эле!”

10

20

30

40

50

**“Жилдөн житез
уйлым мин!”**

10

20

30

40

50



**Марат белән Азат үзләренең
өйләреннән капма-каршы
чыгалар. Маратның тизлегә 4
км/сәг., Азатның тизлегә 5
км/сәг. Очрашу вакытында
аларның кайсысы мәктәптән
ераграк булыр?**



**Винтик белән Шпунтик
узыш автомобиле жыйгач,
Торопыжка утырып китә һәм
5 минуттан вата.**

**Винтик белән Шпунтик-
ка, Торопыжка 1 сәгать
йөри алсын өчен ничә
автомобиль жыярга кирәк?**




**Вакыт 12 тулып
15 минут.**


**Сәгать уклары
арасында
нинди почмак
ясалыр?**




**Эт үзеннән 120 м ераклыктагы
төлкене куа. Әгәр төлке
минутына 320м, эт минутына
300 м үтсә, эт төлкене
ничә минуттан соң куып
житәр?**




Трое коротышек вместе выпивают за праздничным столом 6 бутылок сладкой воды, а Сахарин Сахаринович Сиропчик выпивает в 5 раз больше чем другой любой коротышка. Сколько бутылок воды нужно Сиропчику на праздник?




**Квадратның ягын 3
тапкыр киметкәч,
мәйданы ничек
үзгәрер ?**




**Километр
метрдан ничә
тапкыр зуррак?**




**Кайсы сүз артык:
өчпочмак,
турыпочмаклык,
линейка,
квадрат?**




**Әгәр бирелгән қысынкы
почмакның эчендә аның
түбәсеннән 2 нур
үткәрелсә, ничә почмак
төзелер?**




**Ягы 1 метр булган кубны ягы 1
әр см булган кубикларга кисеп,
бу кубиклардан багана
өйделәр. Нинди биеклектә
багана килеп чыкты?**




1




2




5



7





1000000




1	2	3	4	5
А	В	Т	О	Р

3	4	2	1	5
?				




$2x - 5 = 1$ (А), $2x - 1 = 13$ (Т),
 $8 - x = 3$ (?). Сорау билгесенә
нинди хәреф куелырга тиеш?
Ачкыч: К В А Д Р А Т.



Саннар рәтен дәвам ит:

7; 9; 16; 25; 41....



В школе для бесенят было 10 учеников. На дом каждому задали совершить по три мелких пакости. Один бесенок не выполнил задание. Сколько мелких пакостей было выполнено бесенятами?

