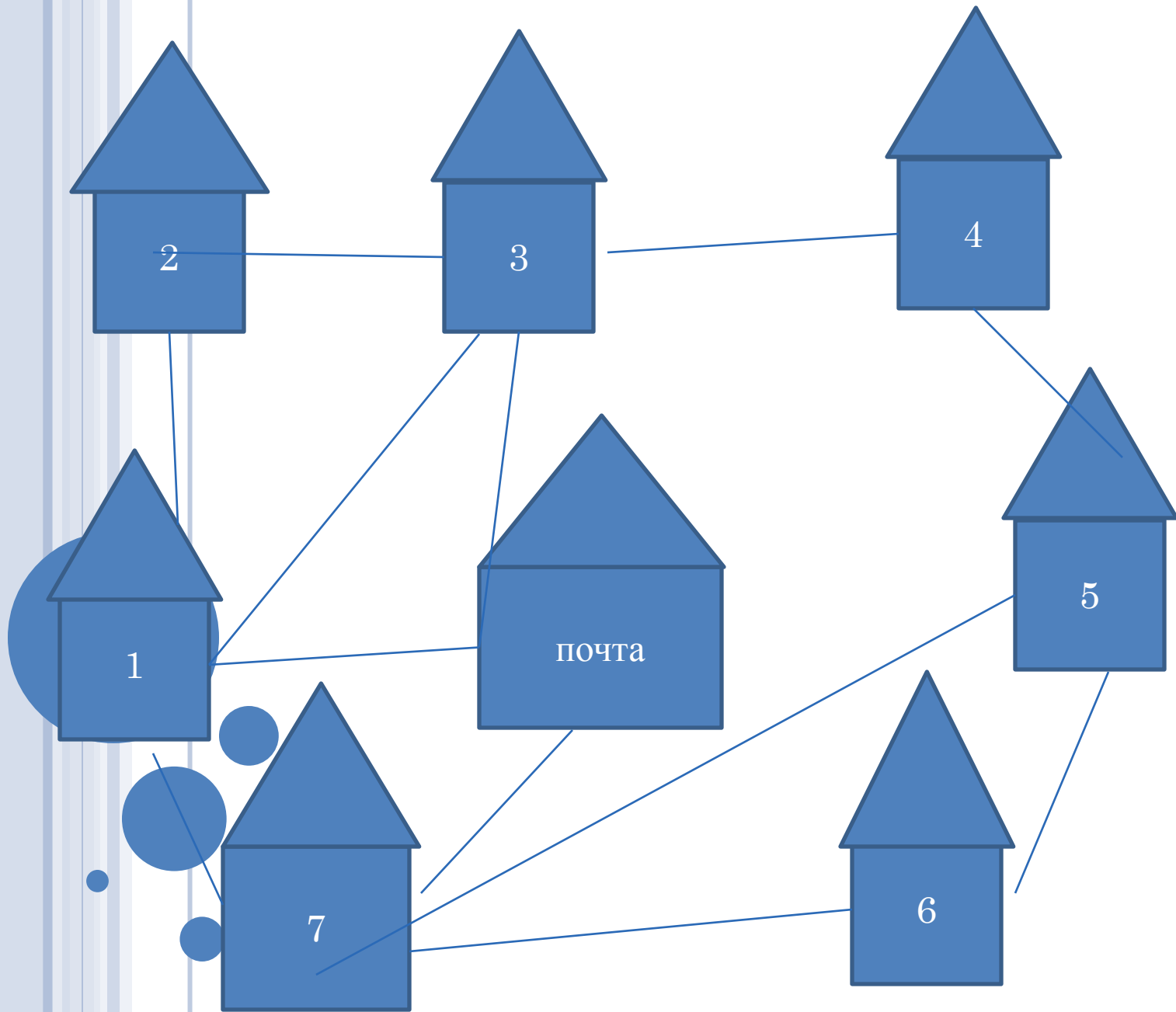





24	6	18	2	18
20	15	9	22	5
3	25	12	19	11
10	23	7	1	16
17	4	21	14	8

**Где живет дядя Федор?**





**Как нет на свете без ножек столов,  
Как нет на свете без рожек козлов,  
Котов без усов и без панцирей раков,  
Так нет в математике действий без знаков.  
Вот задача не для робких.  
Вычитай, дели и множь,  
Плюсы ставь , а так же скобки,  
Верим к финишу придешь.**



**Вместо звездочек поставить  
такие знаки действий , чтобы  
равенства были верными**

$$33/40 * 10/11 = 0,75$$

$$5 * 5 * 5 * 5 = 3$$


$$3 * 2 * 1 = 2$$



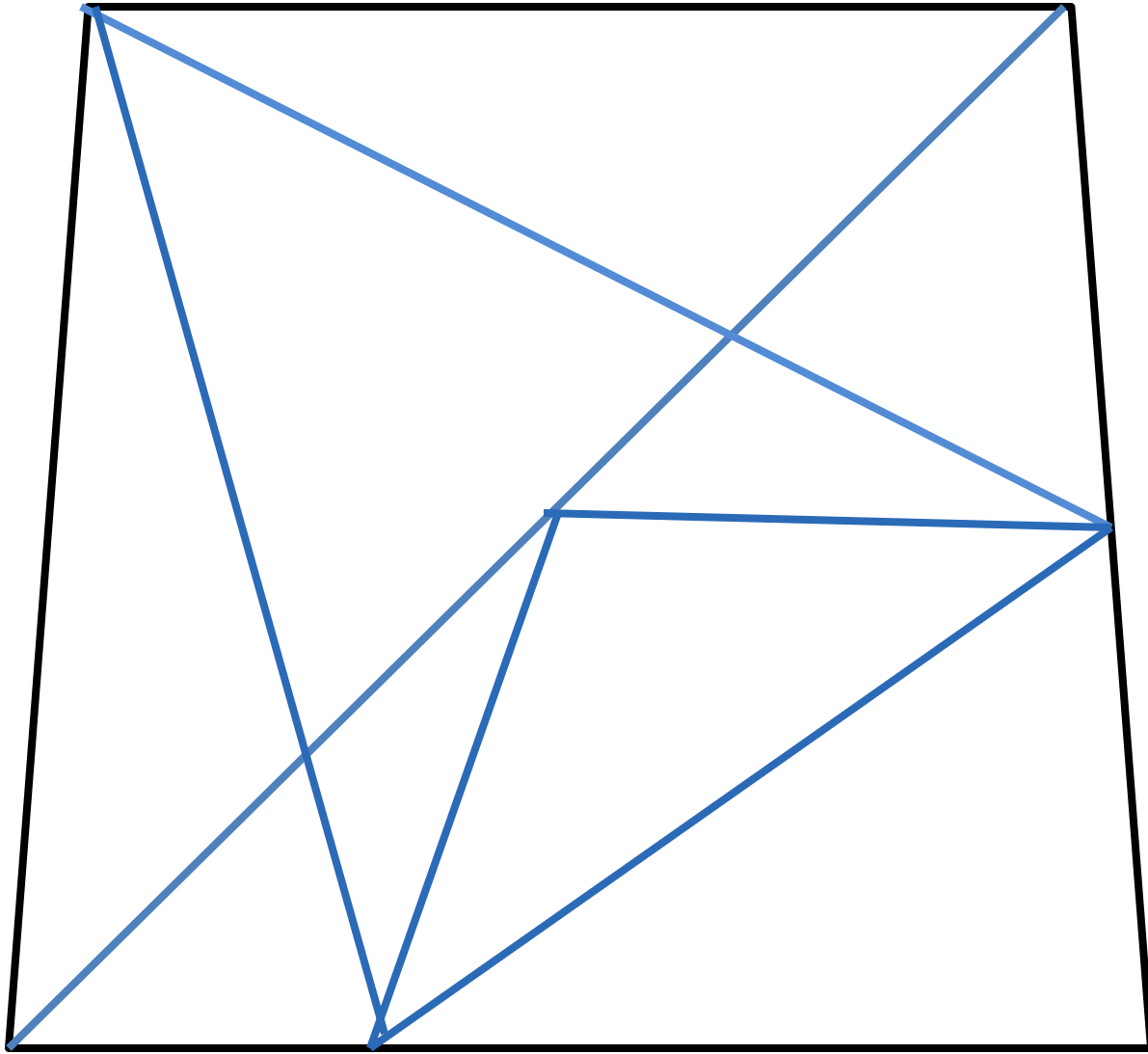
# ГЕОМЕТРИЧЕСКИЙ КОНКУРС



**Часто знает и дошкольник,  
Что такое треугольник,  
А уж вам-то как не знать,  
Но совсем другое дело-  
Быстро , точно и умело  
Треугольники считать  
Например , в фигуре этой  
Сколько разных - посмотри!  
Все внимательно исследуй  
И по краю и внутри.**







## Хочу все знать

**Знаете ли вы , что на Южном побережье Азии и на многих островах Индийского океана обитают крупные рукокрылые животные, их называют летучими собаками, но они имеют и другое название. Что это за название ?**



# ХОЧУ ВСЕ ЗНАТЬ

48:

$$\square = \square$$

0.2

0,12

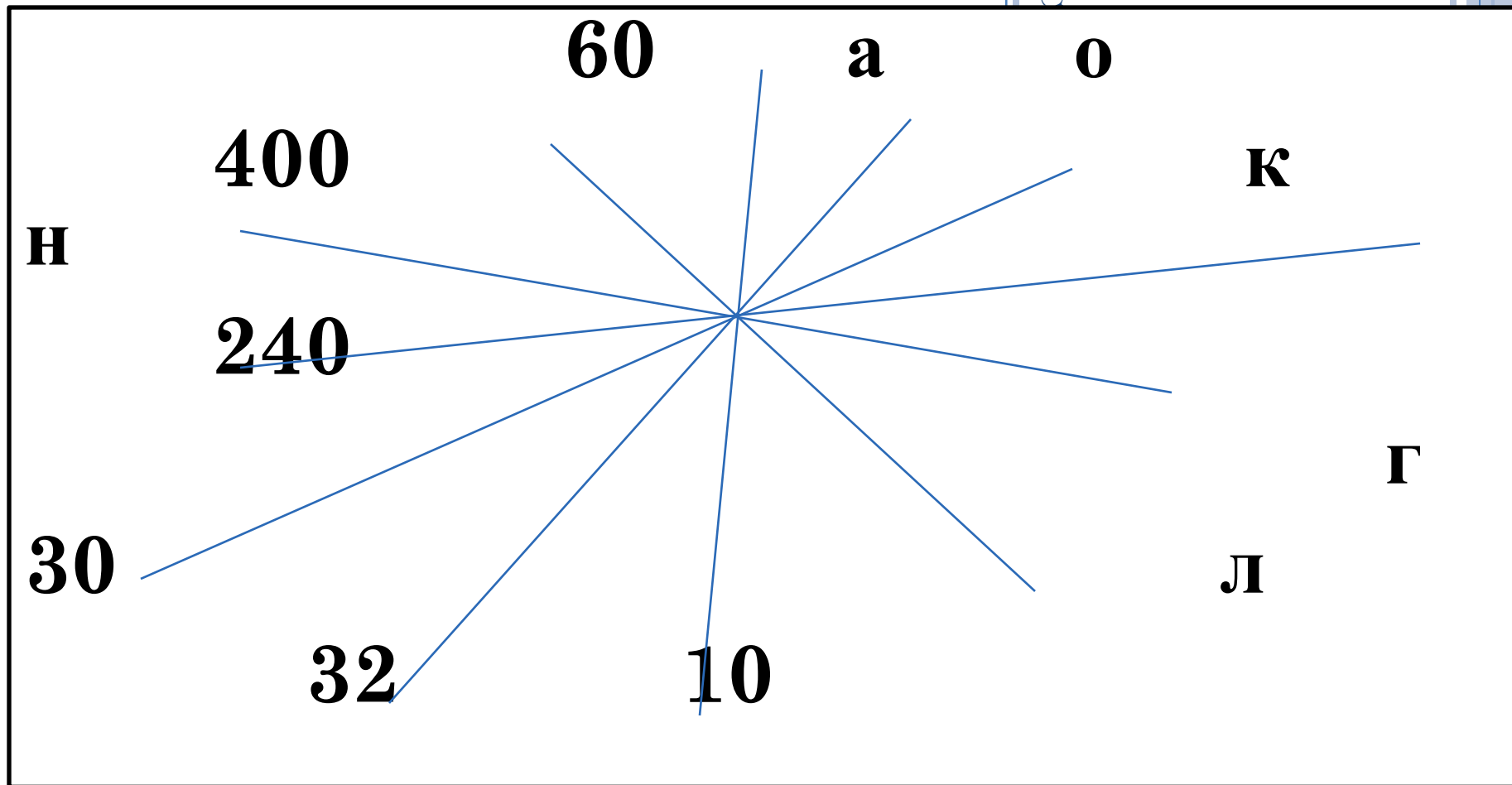
1,6

4,8

0,8

1,5

ПОДСТАВИТЬ



# ОТВЕТ - ΚΑΛΟΗΓ



# САМЫЙ ЛОВКИЙ



ПОЗДРАВЛЯЕМ  
ПОБЕДИТЕЛЕЙ

