



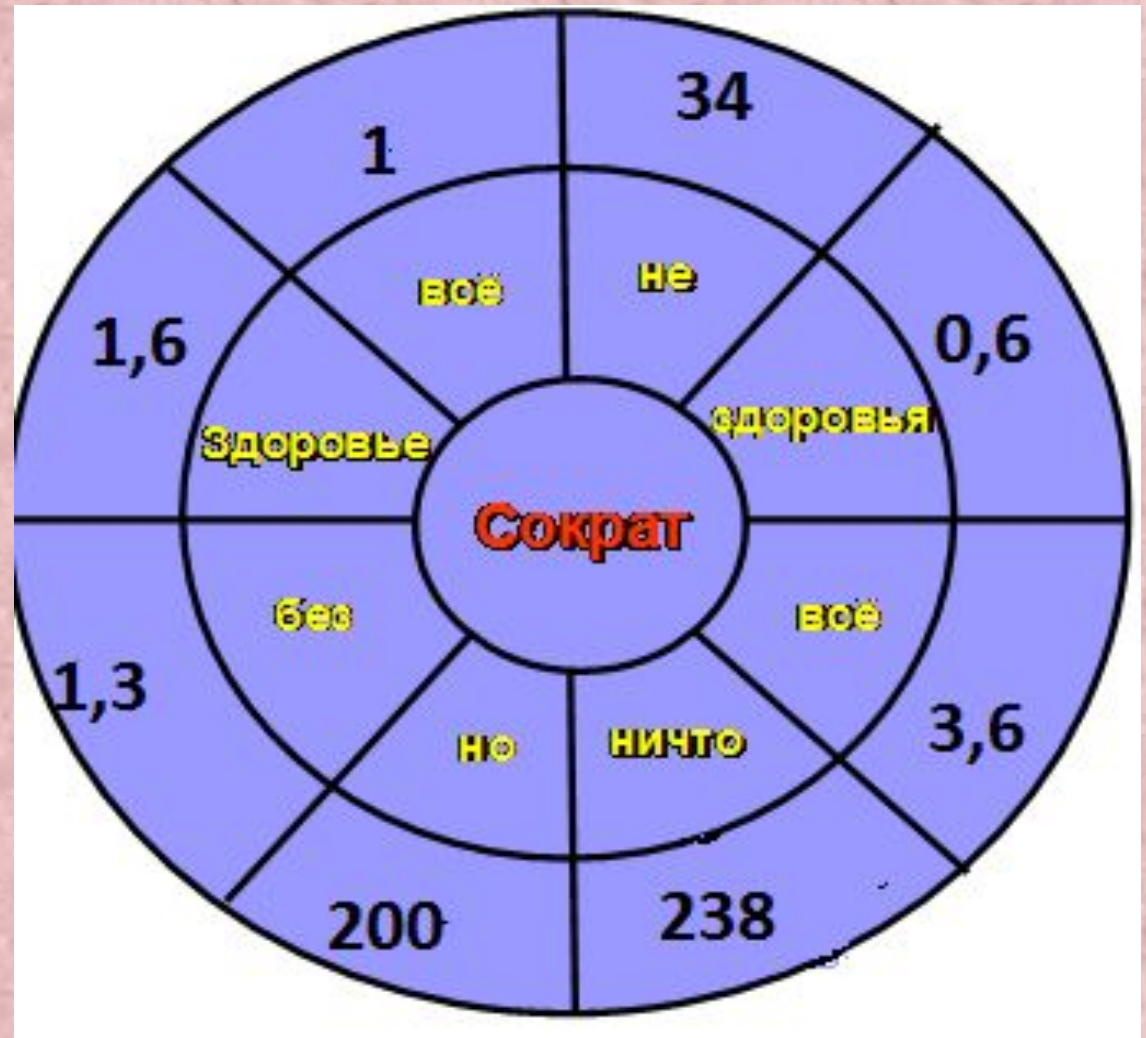
«Все действия с десятичными дробями»



Математика 6класс
учитель Бужан Л.В.

Вычислите устно

- 1) $0,8 * 2$
- 2) $3,4 * 10$
- 3) $0,6 + 0,4$
- 4) $40 : 0,2$
- 5) $1,2 * 3$
- 6) $0,65 + 0,65$
- 7) $1,2 : 2$
- 8) $23,8 * 10$



« ~~Здоровье~~ не всё, но вс ~~бе~~ здоровь ~~ничто~~
ё з я- »

**«Здоровье не всё, но
всё без здоровья – ничто».**



Сократ

Решите уравнения

$$1) x + 10,5 = 18,98$$

$$2) 34,5 - y = 16,25$$

$$3) a * 1,9 = 3,8$$

$$4) 12,6 : c = 12,6$$

ЗУБЫ

1 ы	8,48 з
0,2 а	17,25 г
18,25 у	2 б

Тестирование

Найдите значение выражений

1) $234,56 + 123,9$

а) 358,46 – баранина

б) 356,36 – свинина

2) $23,2 * 1,4$

а) 324,8 - картофель

б) 32,48 – рыба

3) $47 - 12,36$

а) 34,74 – кофе

б) 34,64 – чай

4) $234,4 : 0,02$

а) 11720 - черный хлеб;

б) 1172 — белый хлеб;

Найдите значение выражений

5) $34,7 : 2$

а) 17,305 - почки

б) 17,35 – печень

6) $456 + 122,6$

а) 578,6 - желток

б) 168,2 - белок

7) $123,45 * 0,001$

а) 12345 - лук

б) 0,12345- морепродукты

Продукты, влияющие на укрепление зубов:

Баранина

Чай


Рыба

Печень

Желток

Морепродукты

Чёрный хлеб



**М И Н У Т К А
З Д О Р О В Ь Я !**



1) Две собаки подбежали к хозяину одновременно. Одна бежала 0,46с со скоростью 3,5 м/мин, а другая 1,04с со скоростью 1,5м/мин. Какая собака была дальше от хозяина и на сколько (ответ выразите в см)?

2) Площадь кухни 8,4 м², а площадь комнат в 2,8 раза больше. Чему равна общая площадь квартиры?

**50 – желток,
сахар**

**5- мел,
молоко**

**24,36 –
лимонная
кислота**

**31,92 – зола,
соль**

- 1) У стола отпилили один угол. Сколько углов у него теперь? **5**
- 2) В тарелке лежали три морковки и четыре яблока. Сколько фруктов было в тарелке? **4**
- 3) У кошки Мурки родились щенята: один черненький и два беленьких. Сколько щенят у Мурки? **0**
- 4) Прилетели два чижа, два стрижа и два ужа. Сколько стало птиц всего возле дома моего? **4**
- 5) Один банан падает с елки каждые 5 минут. Сколько их упадет за один час? **0**
- 6) На столе стояло 5 стаканов ягод. Миша съел один и поставил его на стол. Сколько стаканов стоит на столе? **5**

$$(5 + 4 + 0 + 4 + 0 + 5) : 4,5 = ?$$

4

**зубки,
Делай так два раза в
сутки.**

**Предпочти конфетам
фрукты**

**Очень важные
продукты.**

К стоматологу идём

В год два раза на

приём.

И тогда улыбка свет



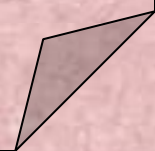
Домашнее

1) Дидактические материалы

О – 26 №3,4


2) Составить и решить задачу на
все

действия с десятичными дробями.



Запомните:

Очень сложно болезни лечить,
Легче болезни предупредить.



С П А С И Б О
З А У Р О К !

