

ПОВТОРЕНИЕ тренировочные задания 11 класс

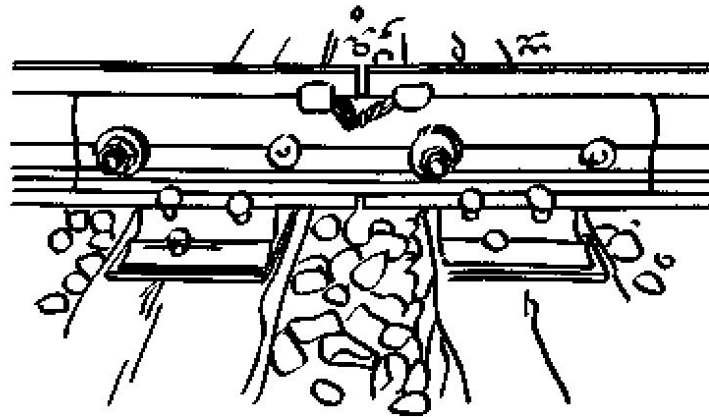
Решение задач на межпредметные связи.

подготовила учитель математики МБОУ СОШ № 43 Ст. Северская Краснодарский край Шкредина Ирина Александровна

1. При температуре 0°C рельс имеет длину $l_0 = 10$ м. При возрастании температуры происходит тепловое расширение рельса, и его длина, выраженная в метрах, меняется по закону

$$l(t^{\circ}) = l_0(1 + \alpha \cdot t^{\circ}),$$

где $\alpha = 1,2 \cdot 10^{-5} (\text{C}^{\circ})^{-1}$ — коэффициент теплового расширения, t° — температура (в градусах Цельсия). При какой температуре рельс удлинится на 3 мм? Ответ выразите в градусах Цельсия.



Решение. Задача сводится к решению уравнения

$$l(t^\circ) - l_0 = 3 \text{ (мм)}$$

при заданных значениях длины $l_0 = 10$ м и коэффициента теплового расширения $\alpha = 1,2 \cdot 10^{-5} \text{ (}^\circ\text{C)}^{-1}$:

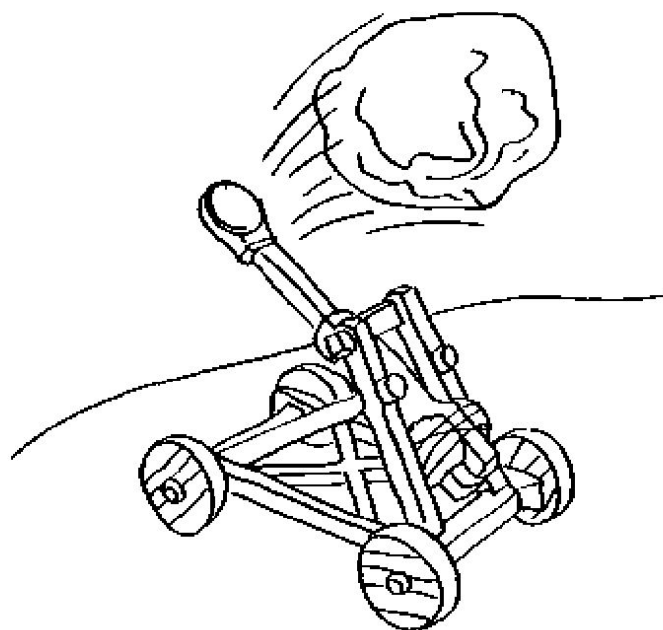
$$\begin{aligned} l(t^\circ) - l_0 = 3 \cdot 10^{-3} &\Leftrightarrow l_0(1 + \alpha \cdot t^\circ) - l_0 = 3 \cdot 10^{-3} \Leftrightarrow \\ &\Leftrightarrow l_0 \alpha t^\circ = 3 \cdot 10^{-3} \Leftrightarrow 10 \cdot 1,2 \cdot 10^{-5} t^\circ = 3 \cdot 10^{-3} \Leftrightarrow \\ &\Leftrightarrow t^\circ = \frac{3 \cdot 10^{-3}}{1,2 \cdot 10^{-4}} \Leftrightarrow t^\circ = 25 \text{ }^\circ\text{C}. \end{aligned}$$

Ответ: 25.

2. Камнеметательная машина выстреливает камни под некоторым острым углом к горизонту с фиксированной начальной скоростью. Траектория полёта камня в системе координат, связанной с машиной, описывается формулой

$$y = ax^2 + bx,$$

где $a = -\frac{1}{100} \text{ м}^{-1}$, $b = 1$ — постоянные параметры, x (м) — смещение камня по горизонтали, y (м) — высота камня над землёй. На каком наибольшем расстоянии (в метрах) от крепостной стены высотой 8 м нужно расположить машину, чтобы камни пролетали над стеной на высоте не менее 1 метра?



Решение. Задача сводится к решению неравенства $y \geq 9$:
при заданных значениях параметров a и b

$$y \geq 9 \Leftrightarrow -\frac{1}{100}x^2 + x \geq 9 \Leftrightarrow$$

$$\Leftrightarrow x^2 - 100x + 900 \leq 0 \Leftrightarrow 10 \leq x \leq 90 \text{ м.}$$

Камни будут перелетать крепостную стену на высоте не менее 1 метра, если камнеметательная машина будет находиться на расстоянии от 10 до 90 метров от этой стены. Наибольшее расстояние — 90 метров.

Ответ: 90.


2а. Зависимость объёма спроса q на продукцию предприятия-монополиста от цены p (тыс. руб.) задаётся формулой:

$$q = 100 - 10p.$$

Выручка предприятия за месяц r (в тыс. руб.) определяется как

$$r(p) = q \cdot p.$$

Определите максимальный уровень цены p , при котором месячная выручка $r(p)$ составит не менее 240 тыс. руб. Ответ приведите в тыс. руб.



Решение. Задача сводится к решению неравенства $r(p) \geq 240$:

$$r(p) = q \cdot p = (100 - 10p)p = 100p - 10p^2,$$

$$r(p) \geq 240 \Leftrightarrow 10p^2 - 100p + 240 \leq 0 \Leftrightarrow$$

$$\Leftrightarrow p^2 - 10p + 24 \leq 0 \Leftrightarrow 4 \leq p \leq 6.$$


Ответ: 6.

26. Если достаточно быстро вращать ведёрко с водой на верёвке в вертикальной плоскости, то вода не будет выливаться. При вращении ведёрка сила давления воды на дно не остаётся постоянной: она максимальна в нижней точке и минимальна в верхней. Вода не будет выливаться, если сила её давления на дно будет положительной во всех точках траектории, кроме верхней, где она может быть равной нулю. В верхней точке сила давления, выраженная в ньютонах, равна

$$P = m \left(\frac{v^2}{L} - g \right),$$

где m — масса воды в килограммах, v — скорость движения ведёрка в м/с, L — длина верёвки в метрах, g — ускорение свободного падения (считайте $g = 10$ м/с²). С какой минимальной скоростью надо вращать ведёрко, чтобы вода не выливалась, если длина верёвки равна 0,441 м? Ответ выразите в м/с.





Решение. Задача сводится к решению неравенства $P(v) \geq 0$:
при заданной длине верёвки $L = 0,441$ м


$$\begin{aligned} P \geq 0 &\Leftrightarrow m \left(\frac{v^2}{L} - g \right) \geq 0 \stackrel{m > 0}{\Leftrightarrow} \frac{v^2}{0,441} - 10 \geq 0 \Leftrightarrow \\ &\Leftrightarrow v^2 \geq 4,41 \stackrel{v > 0}{\Leftrightarrow} v \geq 2,1 \text{ м/с.} \end{aligned}$$


Ответ: 2,1.

3. Для определения эффективной температуры звёзд используют закон Стефана—Больцмана, согласно которому мощность излучения нагретого тела прямо пропорциональна площади его поверхности и четвёртой степени температуры:

$$P = \sigma ST^4,$$

где $\sigma = 5,7 \cdot 10^{-8}$ — постоянная, площадь S измеряется в квадратных метрах, температура T — в градусах Кельвина, а мощность P — в ваттах. Известно, что некоторая звезда имеет площадь поверхности $S = \frac{1}{16} \cdot 10^{20} \text{ м}^2$, а излучаемая ею мощность P не менее $9,12 \cdot 10^{25} \text{ Вт}$. Определите наименьшую возможную температуру этой звезды. Приведите ответ в градусах Кельвина.





Решение. Задача сводится к решению неравенства

$$P \geq 9,12 \cdot 10^{25}$$

при известном значении постоянной $\sigma = 5,7 \cdot 10^{-8}$ и заданной площади звезды $S = \frac{1}{16} \cdot 10^{20} \text{ м}^2$:

$$P \geq 9,12 \cdot 10^{25} \Leftrightarrow \sigma S T^4 \geq 9,12 \cdot 10^{25} \Leftrightarrow T^4 \geq \frac{9,12 \cdot 10^{25}}{\sigma S} \Leftrightarrow$$

$$\Leftrightarrow T \geq \sqrt[4]{\frac{9,12 \cdot 10^{25}}{5,7 \cdot 10^{-8} \cdot \frac{1}{16} \cdot 10^{20}}} \Leftrightarrow T \geq \sqrt[4]{256 \cdot 10^{12}} = 4000 \text{ К.}$$

Ответ: 4000.

За. На верфи инженеры проектируют новый аппарат для погружения на небольшие глубины. Конструкция имеет кубическую форму, а значит, действующая на аппарат выталкивающая (архимедова) сила, выраженная в ньютонах, будет определяться по формуле:

$$F_A = \rho g l^3,$$

где $\rho = 1000 \text{ кг/м}^3$ — плотность воды, l — длина ребра куба в метрах, а g — ускорение свободного падения (считайте $g = 9,8 \text{ м/с}^2$). Какой может быть максимальная длина ребра куба, чтобы обеспечить эксплуатацию аппарата в условиях, когда выталкивающая сила при погружении не будет превосходить $78\,400 \text{ Н}$? Ответ выразите в метрах.

Решение. Задача сводится к решению неравенства

$$F_A \leq 78\,400$$

при заданных значениях плотности воды и ускорении свободного падения:


$$F_A \leq 78\,400 \Leftrightarrow 1000 \cdot 9,8 \cdot l^3 \leq 78\,400 \Leftrightarrow l^3 \leq 8 \Leftrightarrow l \leq 2 \text{ (м)}.$$


Ответ: 2.

4. Перед отправкой тепловоз издал гудок с частотой $f_0 = 440$ Гц. Чуть позже издал гудок подъезжающий к платформе тепловоз. Из-за эффекта Доплера частота второго гудка f больше первого: она зависит от скорости тепловоза по закону

$$f(v) = \frac{f_0}{1 - \frac{v}{c}},$$

где c — скорость звука в воздухе (в м/с). Человек, стоящий на платформе, различает сигналы по тону, если они отличаются не менее чем на 10 Гц. Определите, с какой минимальной скоростью приближался к платформе тепловоз, если человек смог различить сигналы, а $c = 315$ м/с. Ответ выразите в м/с.





Решение. Задача сводится к решению неравенства

$$f(v) - f_0 \geq 10$$

при известном значении постоянной $f_0 = 440$ Гц:

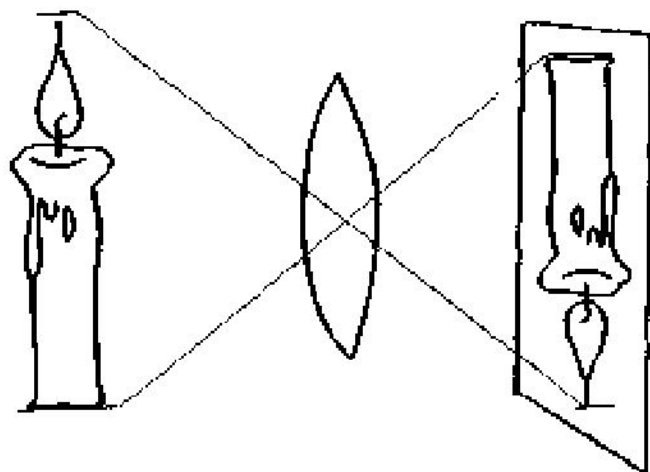
$$\begin{aligned} f(v) - f_0 \geq 10 &\Leftrightarrow \frac{f_0}{1 - \frac{v}{c}} - f_0 \geq 10 \Leftrightarrow \frac{440}{1 - \frac{v}{315}} - 440 \geq 10 \Leftrightarrow \\ &\Leftrightarrow 1 - \frac{v}{315} \leq \frac{44}{45} \Leftrightarrow v \geq \frac{315}{45} = 7 \text{ м/с.} \end{aligned}$$

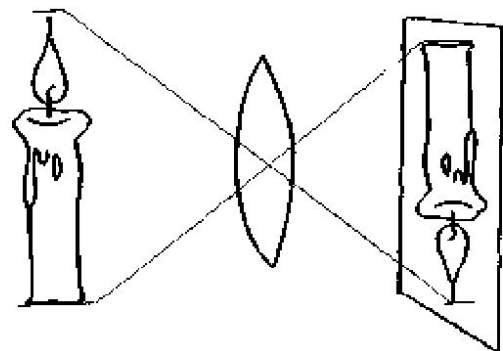
Ответ: 7.

4а. Для получения на экране увеличенного изображения лампочки в лаборатории используется собирающая линза с главным фокусным расстоянием $f = 30$ см. Расстояние d_1 от линзы до лампочки может изменяться в пределах от 30 до 50 см, а расстояние d_2 от линзы до экрана — в пределах от 150 до 180 см. Изображение на экране будет чётким, если выполнено соотношение

$$\frac{1}{d_1} + \frac{1}{d_2} = \frac{1}{f}.$$

Укажите, на каком наименьшем расстоянии от линзы можно поместить лампочку, чтобы её изображение на экране было чётким. Ответ выразите в сантиметрах.





Решение. Поскольку $f = 30$, имеем:

$$\frac{1}{d_1} + \frac{1}{d_2} = \frac{1}{30} \Leftrightarrow \frac{1}{d_1} = \frac{1}{30} - \frac{1}{d_2}.$$

Наименьшему возможному значению d_1 соответствует наибольшее значение левой части полученного равенства, и, соответственно, наибольшее возможное значение правой части равенства. Разность $\frac{1}{30} - \frac{1}{d_2}$ в правой части равенства достигает наибольшего значения при наименьшем значении вычитаемого $\frac{1}{d_2}$, которое достигается при наибольшем возможном значении знаменателя d_2 . Поэтому $d_2 = 180$, откуда

$$\frac{1}{d_1} = \frac{1}{30} - \frac{1}{180} \Leftrightarrow \frac{1}{d_1} = \frac{5}{180} \Leftrightarrow \frac{1}{d_1} = \frac{1}{36} \Leftrightarrow d_1 = 36 \text{ см.}$$

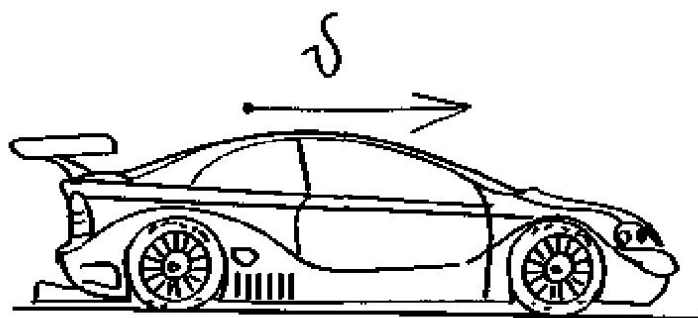
По условию лампочка должна находиться на расстоянии от 30 до 50 см от линзы. Найденное значение $d_1 = 36$ см удовлетворяет условию.

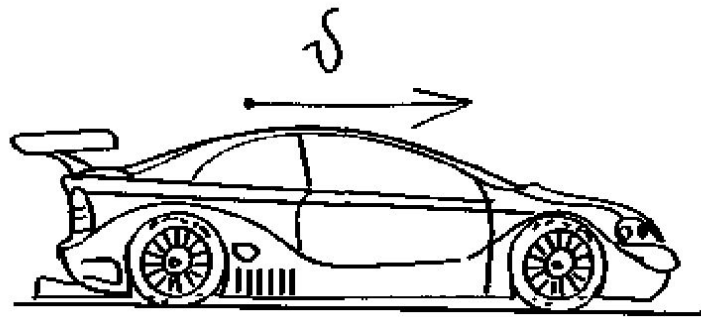
Ответ: 36.

5. Скорость автомобиля, разгоняющегося с места старта по прямолинейному отрезку пути длиной l (в километрах) с постоянным ускорением a (в км/ч²), вычисляется по формуле

$$v = \sqrt{2la}.$$

Определите наименьшее ускорение, с которым должен двигаться автомобиль, чтобы, проехав один километр, приобрести скорость не менее 100 км/ч. Ответ выразите в км/ч².





Решение. Найдём, при каком ускорении автомобиль достигнет требуемой скорости, проехав один километр. Задача сводится к решению уравнения $\sqrt{2la} = 100$ при известном значении длины пути $l = 1$ км:

$$\sqrt{2la} = 100 \Leftrightarrow \sqrt{2a} = 100 \Leftrightarrow 2a = 10\,000 \Leftrightarrow a \geq 5000 \text{ км/ч}^2.$$

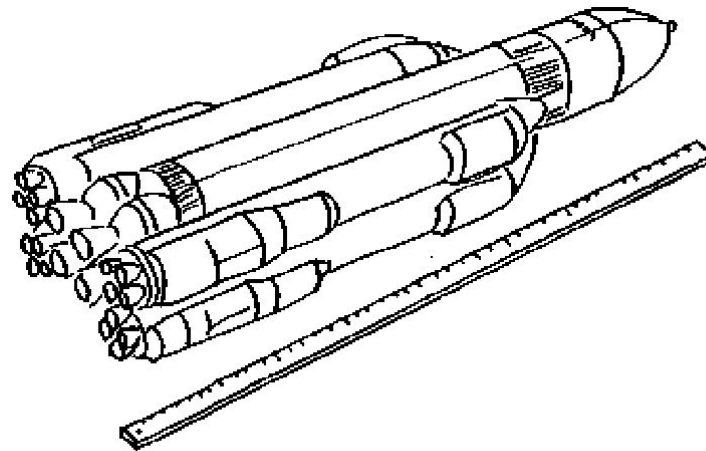
Если его ускорение будет превосходить найденное, то, проехав один километр, автомобиль наберёт большую скорость, поэтому наименьшее необходимое ускорение равно 5000 км/ч^2 .

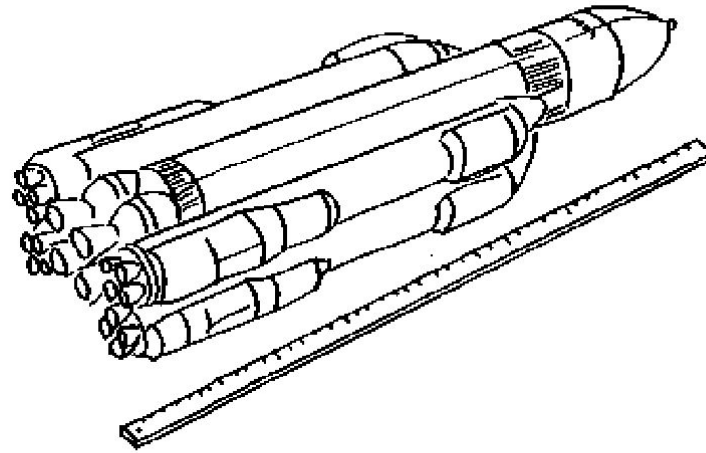
Ответ: 5000.

5а. При движении ракеты её видимая для неподвижного наблюдателя длина, измеряемая в метрах, сокращается по закону

$$l = l_0 \sqrt{1 - \frac{v^2}{c^2}},$$

где $l_0 = 10$ м — длина покоящейся ракеты, $c = 3 \cdot 10^5$ км/с — скорость света, а v — скорость ракеты (в км/с). Какова должна быть минимальная скорость ракеты, чтобы её наблюдаемая длина стала не более 8 м? Ответ выразите в км/с.





Решение. Найдем, при какой скорости длина ракеты станет равна 8 м. Задача сводится к решению уравнения

$$l_0 \sqrt{1 - \frac{v^2}{c^2}} = 8$$

при заданном значении длины покоящейся ракеты $l_0 = 10$ м и известной величине скорости света $c = 3 \cdot 10^5$ км/с:

$$\begin{aligned} 10 \sqrt{1 - \frac{v^2}{9 \cdot 10^{10}}} = 8 &\Leftrightarrow \frac{v^2}{9 \cdot 10^{10}} = \frac{36}{100} \Leftrightarrow \\ &\Leftrightarrow v = \frac{6}{10} \cdot 3 \cdot 10 \cdot 10^5 \Leftrightarrow v = 180\,000 \text{ км/с.} \end{aligned}$$

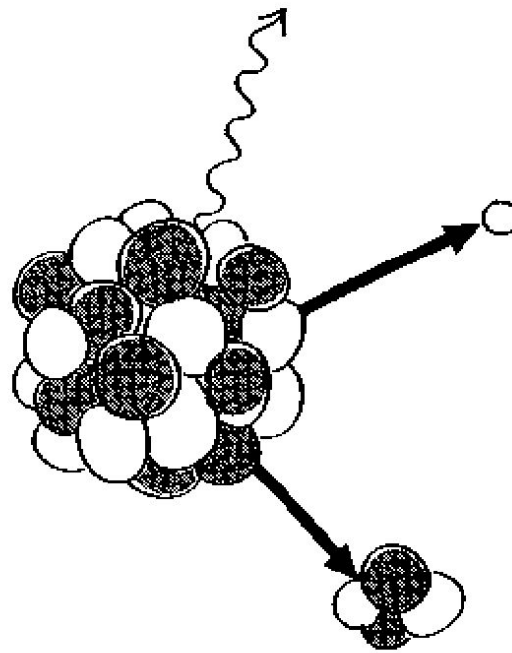
Если скорость будет превосходить найденную, то длина ракеты будет менее 8 метров, поэтому минимальная необходимая скорость равна 180 000 км/с.

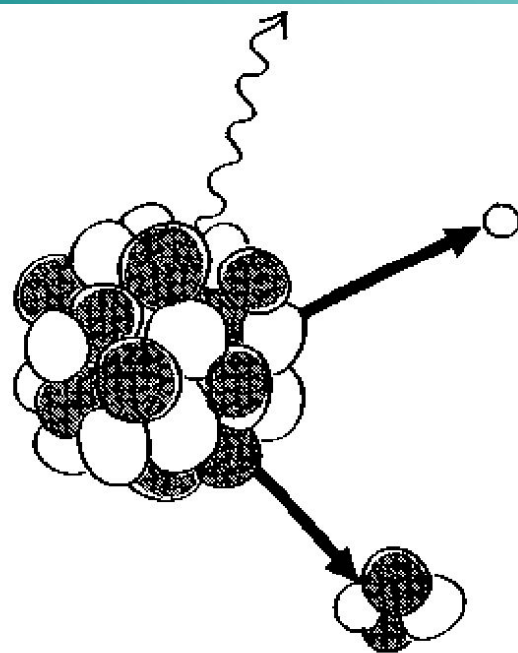
Ответ: 180 000.

6. В ходе распада радиоактивного изотопа его масса уменьшается по закону

$$m(t) = m_0 \cdot 2^{-t/T},$$

где m_0 — начальная масса изотопа, t — время, прошедшее от начала распада, T — период полураспада в минутах. В лаборатории получили вещество, содержащее $m_0 = 40$ мг изотопа азота-13, период полураспада которого $T = 10$ мин. В течение скольких минут масса изотопа азота-13 будет не меньше 10 мг?





Решение. Задача сводится к решению неравенства

$$m(t) > 10$$

при заданных значениях параметров $m_0 = 40$ мг и $T = 10$ мин:

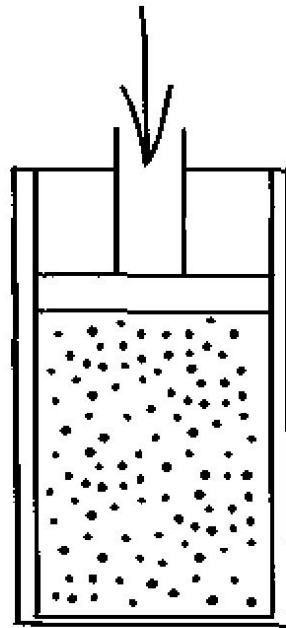
$$40 \cdot 2^{-t/10} > 10 \Leftrightarrow 2^{-t/10} > 2^{-2} \Leftrightarrow -\frac{t}{10} > -2 \Leftrightarrow t < 20 \text{ мин.}$$

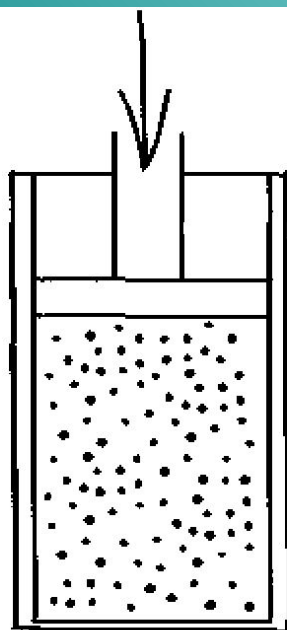
Ответ: 20.

ба. При адиабатическом процессе для идеального газа выполняется закон

$$pV^k = \text{const},$$

где p (Па) — давление в газе, V — объём газа в кубических метрах. В ходе эксперимента с одноатомным идеальным газом (для него $k = \frac{5}{3}$) из начального состояния, в котором $\text{const} = 10^5 \text{ Па} \cdot \text{м}^5$, газ начинают сжимать. Какой наибольший объём V может занимать газ при давлениях p не меньше $3,2 \cdot 10^6 \text{ Па}$? Ответ выразите в кубических метрах.





Решение. Задача сводится к решению неравенства

$$p(V) \geq 3,2 \cdot 10^6$$

при заданных значениях параметров $k = \frac{5}{3}$ и $\text{const} = 10^5 \text{ Па} \cdot \text{м}^5$:

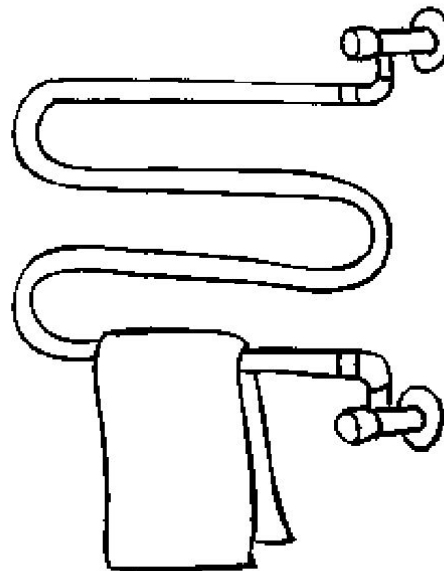
$$10^5 \cdot V^{-5/3} \geq 3,2 \cdot 10^6 \Leftrightarrow V^{5/3} \leq \frac{1}{32} \Leftrightarrow \left(\frac{1}{32}\right)^{3/5} \Leftrightarrow V \leq \frac{1}{8} \text{ м}^3.$$

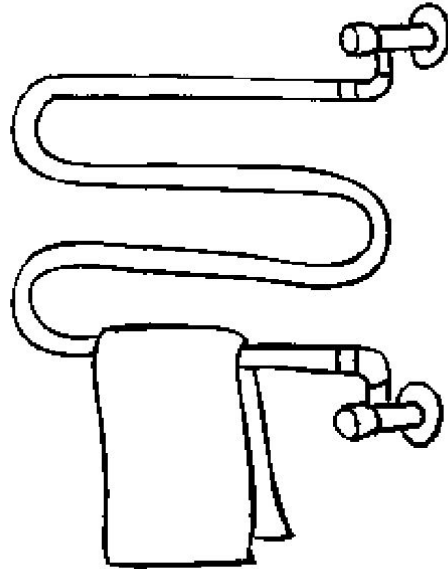
Ответ: 0,125.

7. Для обогрева помещения, температура в котором $T_n = 20^\circ\text{C}$, через радиатор пропускают горячую воду температурой $T_b = 60^\circ\text{C}$. Через радиатор проходит $m = 0,3$ кг/с воды. Проходя по радиатору расстояние $x = 84$ м, вода охлаждается до температуры T ($^\circ\text{C}$), причём

$$x = \alpha \frac{cm}{\gamma} \log_2 \frac{T_b - T_n}{T - T_n},$$

где $c = 4200 \frac{\text{Дж}}{\text{кг} \cdot ^\circ\text{C}}$ — теплоёмкость воды, $\gamma = 21 \frac{\text{Вт}}{^\circ\text{C}}$ — коэффициент теплообмена, а $\alpha = 0,7$ — постоянная. До какой температуры (в градусах Цельсия) охладится вода?





Решение. Задача сводится к решению уравнения $x = 84$ при заданных значениях теплоёмкости, коэффициента теплообмена и постоянной α :

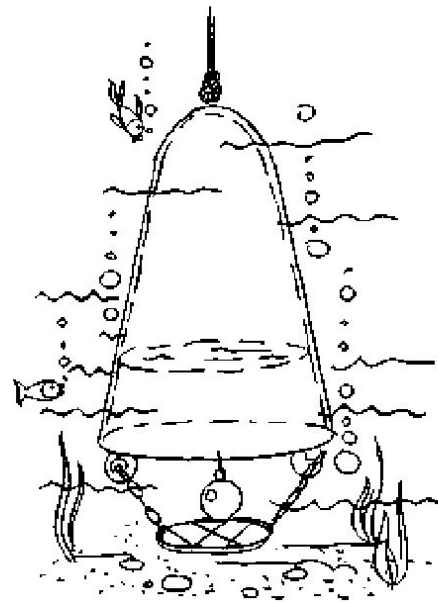
$$\begin{aligned}x = 84 &\Leftrightarrow \alpha \frac{cm}{\gamma} \log_2 \frac{T_B - T_n}{T - T_n} = 84 \Leftrightarrow \\&\Leftrightarrow 0,7 \cdot \frac{4200 \cdot 0,3}{21} \cdot \log_2 \frac{60 - 20}{T - 20} = 84 \Leftrightarrow \\&\Leftrightarrow \log_2 \frac{40}{T - 20} = 2 \Leftrightarrow \frac{40}{T - 20} = 4 \Leftrightarrow T - 20 = 10 \Leftrightarrow T = 30^\circ\text{C}.\end{aligned}$$

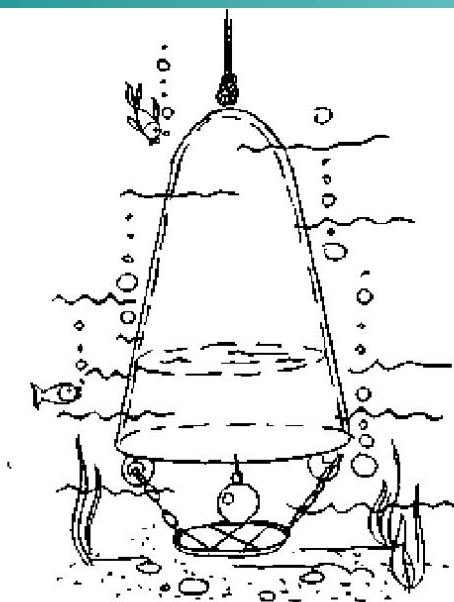
Ответ: 30.

7а. Находящийся в воде водолазный колокол, содержащий $\nu = 4$ моля воздуха при давлении $p_1 = 1,2$ атмосферы, медленно опускают на дно водоёма. При этом происходит изотермическое сжатие воздуха. Работа (в джоулях), совершаемая водой при сжатии воздуха, определяется выражением

$$A = \alpha \nu T \log_2 \frac{p_2}{p_1},$$

где $\alpha = 5,75$ — постоянная, $T = 300$ К — температура воздуха, p_1 (атм) — начальное давление, а p_2 (атм) — конечное давление воздуха в колоколе. До какого наибольшего давления p_2 (в атм) можно сжать воздух в колоколе, если при сжатии воздуха совершается работа не более чем 20 700 Дж?





Решение. Задача сводится к решению неравенства $A \leq 20700$ при заданных значениях количества воздуха, его начального давления и температуры, а также постоянной α :

$$\begin{aligned} A \leq 20700 &\Leftrightarrow \alpha \nu T \log_2 \frac{p_2}{p_1} \leq 20700 \Leftrightarrow \\ &\Leftrightarrow 5,75 \cdot 4 \cdot 300 \cdot \log_2 \frac{p_2}{1,2} \leq 20700 \Leftrightarrow \\ &\Leftrightarrow \log_2 \frac{p_2}{1,2} \leq 3 \Leftrightarrow 0 < \frac{p_2}{1,2} \leq 8 \Leftrightarrow 0 < p_2 \leq 9,6. \end{aligned}$$

Ответ: 9,6.