



*Распределительное
свойство
умножения*

Результат теста

Верно: 2

Ошибки: 7

Отметка: 2

Раскрой скобки

$$2(x - 6)$$

$$2x - 6$$

$$2x - 12$$

$$2x + 12$$



Раскрой скобки



$$(y + 9) \cdot 4$$

$$4y + 36$$

$$4y + 9$$

$$y + 36$$

Раскрой скобки

$$13(2x - 6)$$

$$26x - 6$$

$$26x - 68$$

$$26x - 78$$





*Приведи
подобные слагаемые*

$$3a + 14a + 6 - a + 5a - 2$$

$$25a$$

$$22a + 4$$

$$21a + 4$$

Реши уравнение

$$2x + 5x - 15 = 20$$


5

7

3



Назови фигуру.



пятиугольник

квадрат

прямоугольник



Реши уравнение

$$(3x + 5x) + 22 = 38$$

5

2

3

Раскрой скобки

$$(3b - 7) \cdot 4$$

$$3b - 28$$

$$12b - 24$$

$$12b - 28$$

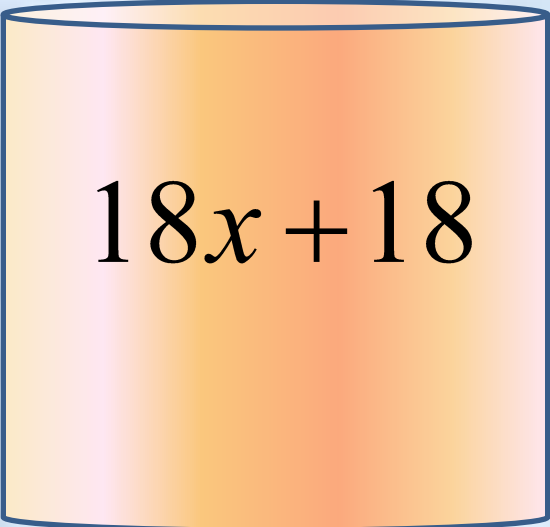


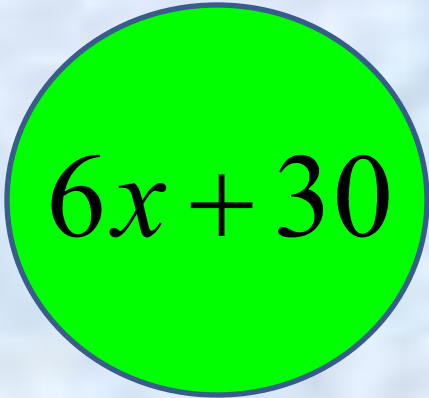
Раскрой скобки



$$6(3x + 5) - 12$$


$$18x + 30$$


$$18x + 18$$


$$6x + 30$$