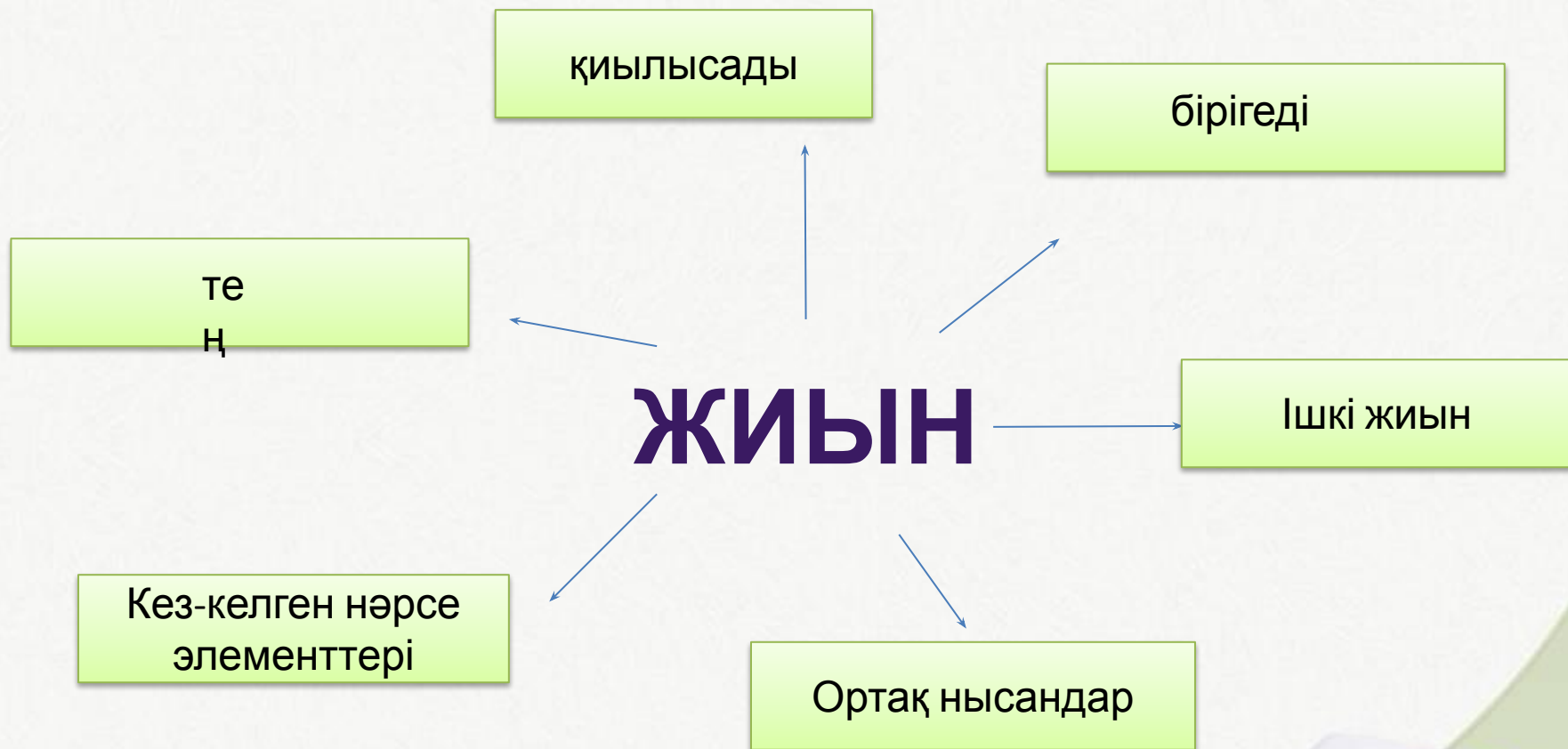
An illustration of two children, a boy and a girl, standing next to a large spiral-bound notebook. The boy is holding a large red pencil. A blue backpack is on the ground. The background is green with a sun and leaves. The text 'Жиында' and 'р' is written in the center of the notebook pages.

Жиында р





Байрақта
р





Оқу
құрал




ы
Жемісте
р

BINGO





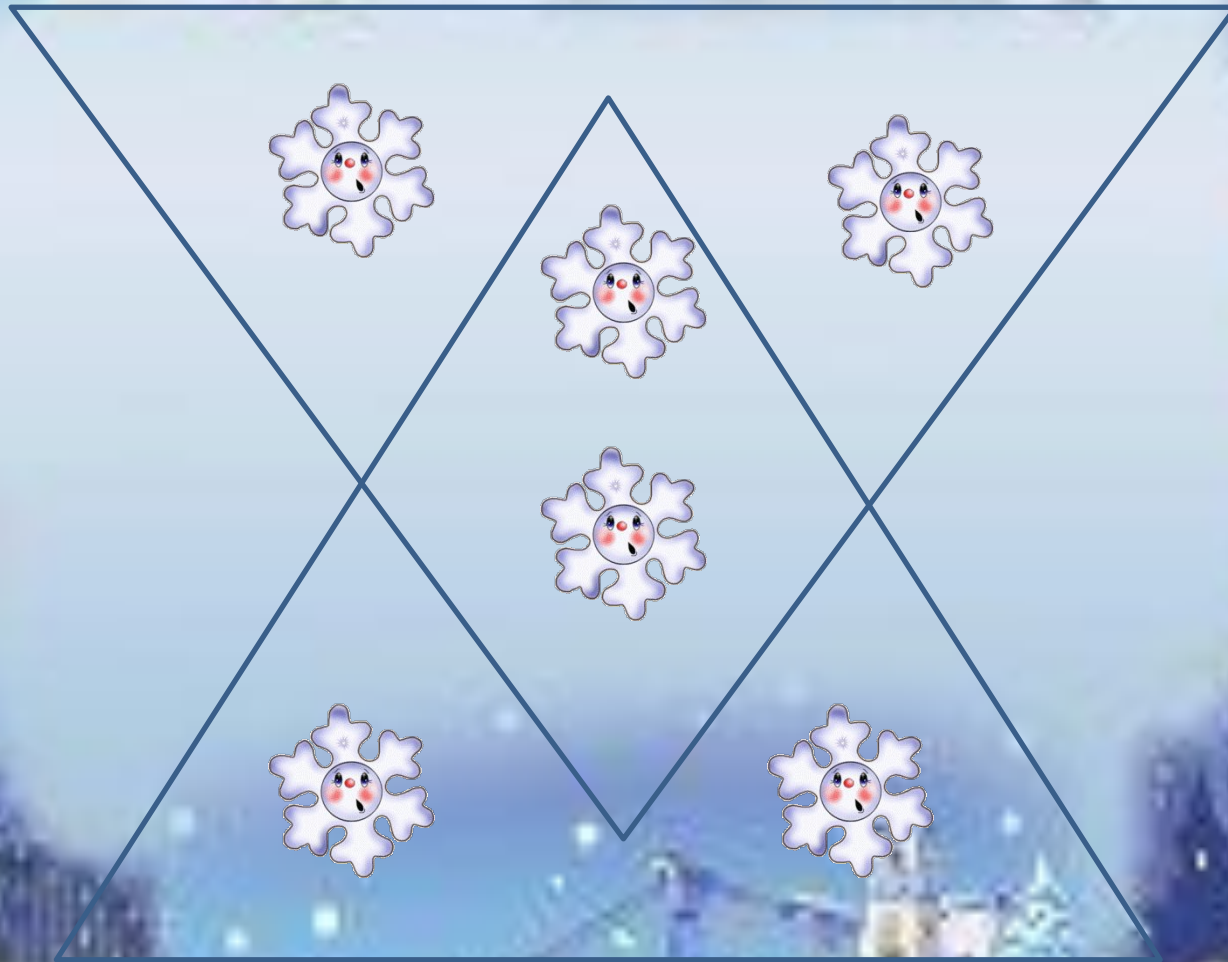


2 сабақ “ЖИЫН” – 4
тапсырма
3 сабақ “ЖИЫН”-5 тапсырма

УВАЖАЮЩИМ



Әрбір үшбұрыштың ішінде төрт-
төрттен болатындай етіп, 2 қар
жұлдызшаларын толықтырып сал.





**1 ТАПСЫРМА. ЖИЫННЫҢ ӘРБІР ЖҰБЫ ҮШІН
СУРЕТТЕР ТАҢДА.
ЖИЫНДАРДЫҢ АТТАРЫН ДҰРЫСТАП ТОЛТЫР**

**Ешбір тышқан
мысық емес.
Ешбір мысық
тышқан емес.**

**КОМПЬЮТЕР
ҚҰРЫЛҒ
Ы**

**Кітаптардың
барлығы ертегі
емес.
Ертегілердің
барлығы кітап емес.**

ТЫШҚАН

МЫСЫҚ

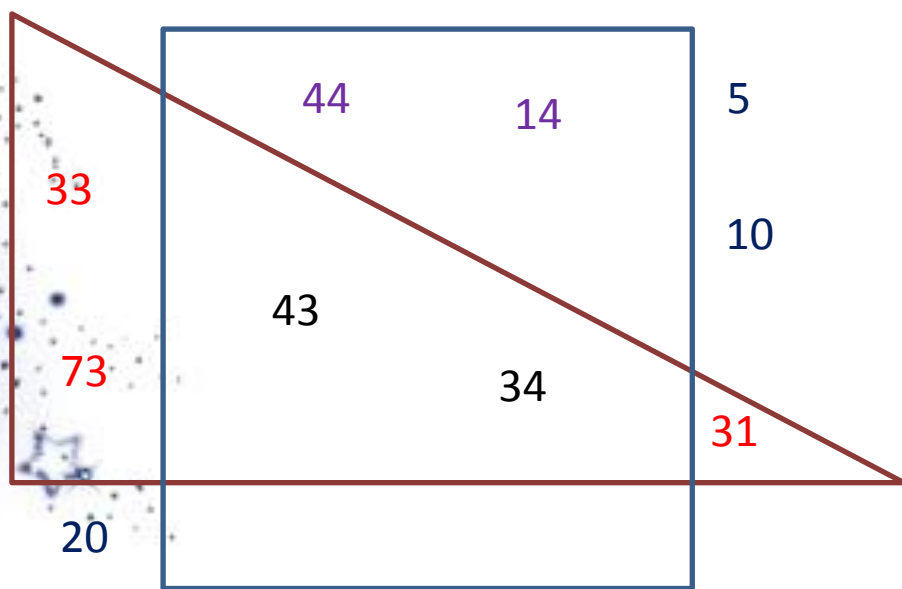
**Барлық
компьютерлер
құрылғылардан
тұрады.
Барлық құрылғылар
компьютер емес.**

КІТАПТАР

ЕРТЕГІ КІТАП

ЕРТЕГІЛЕР

Үшбұрышта 3 цифры бар сандар, шаршыда 4 цифры бар сандар орналасуы тиіс. Сандарды өз орындарына дұрыс орналастырып, жазып шық. 3 және 4 цифрлары бар сандар орналасқан бөліктерді боя.

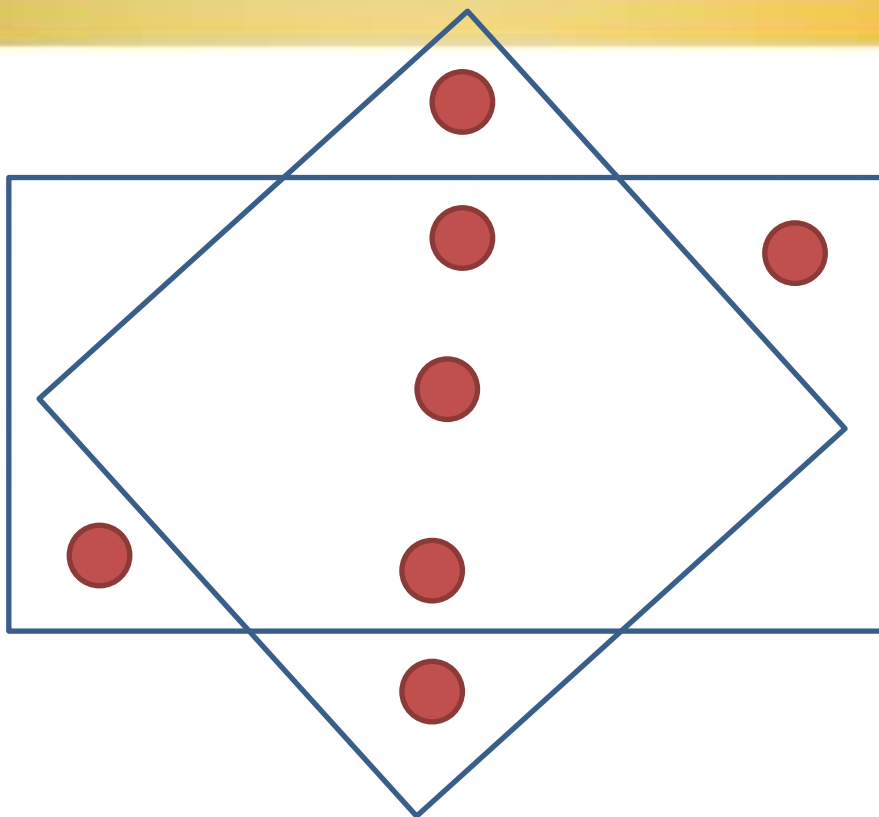


Заңдылықтарын тауып, бос ұяларды толтыр. Қажетті сандарды, алдымен, диагоналы бойынша, содан соң көлденең жолдары бойынша жазу керек.

1	4	7	10	13	16
1	2	3	4	5	6
0	2	4	6	8	10
20	16	12	8	4	0
28	25	22	19	16	13
7	12	17	22	27	32

**1 ТАҢБАЛЫ ЖҰП САН 1 ҚОЛДАРЫН СОҒАДЫ,
ЕКІ ТАҢБАЛЫ САН 2 ШАПАЛАҚТАЙДЫ**

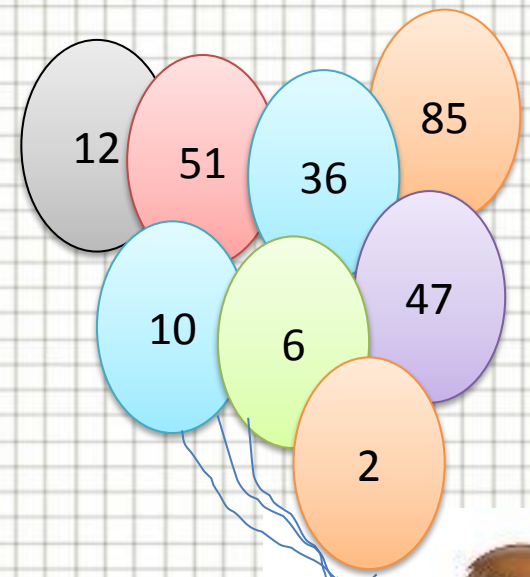
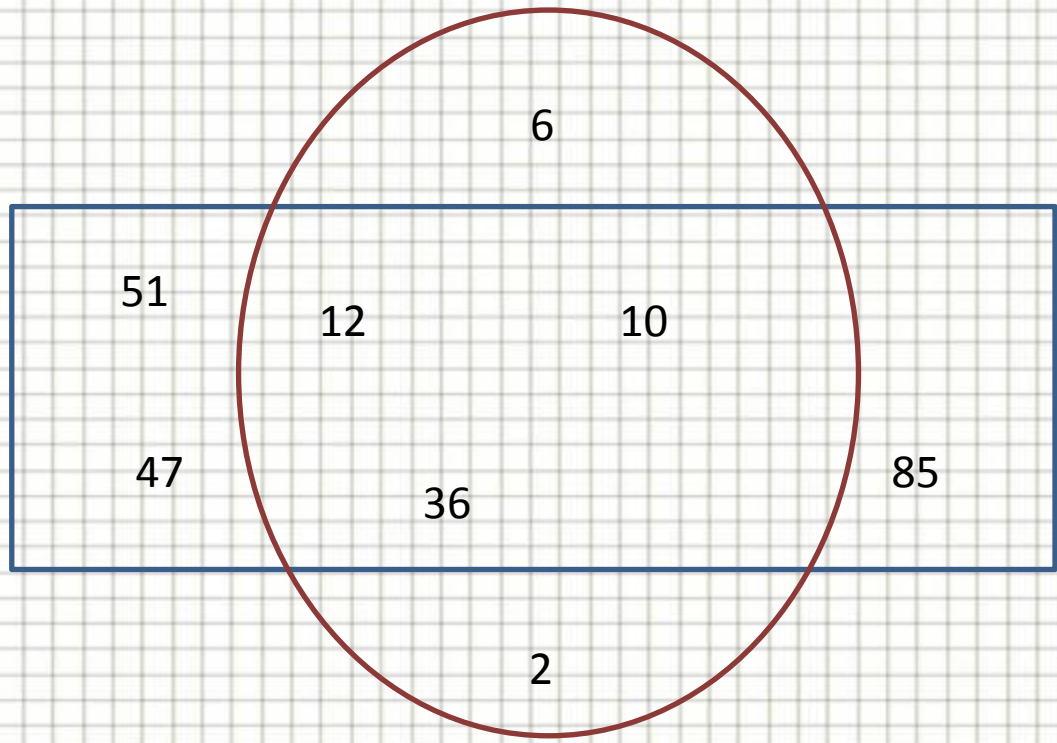




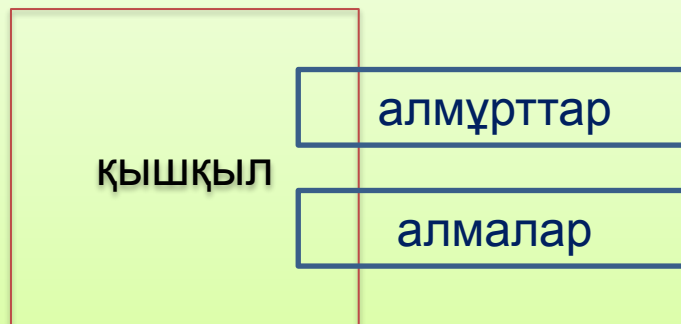
•Ромбы мен тіктөртбұрыштың әрқайсысында бес-бестен болатындай етіп, қосымша 3 дөңгелектің суретін сал.



Дөңгелектің ішінде жұп сандар, төртбұрыштың ішінде екі таңбалы сандар тұруы тиіс. Сандардың орындарын дұрыс тауып, орналастыр. Екі таңбалы жұп сандар орналасқан бөлікті боя.

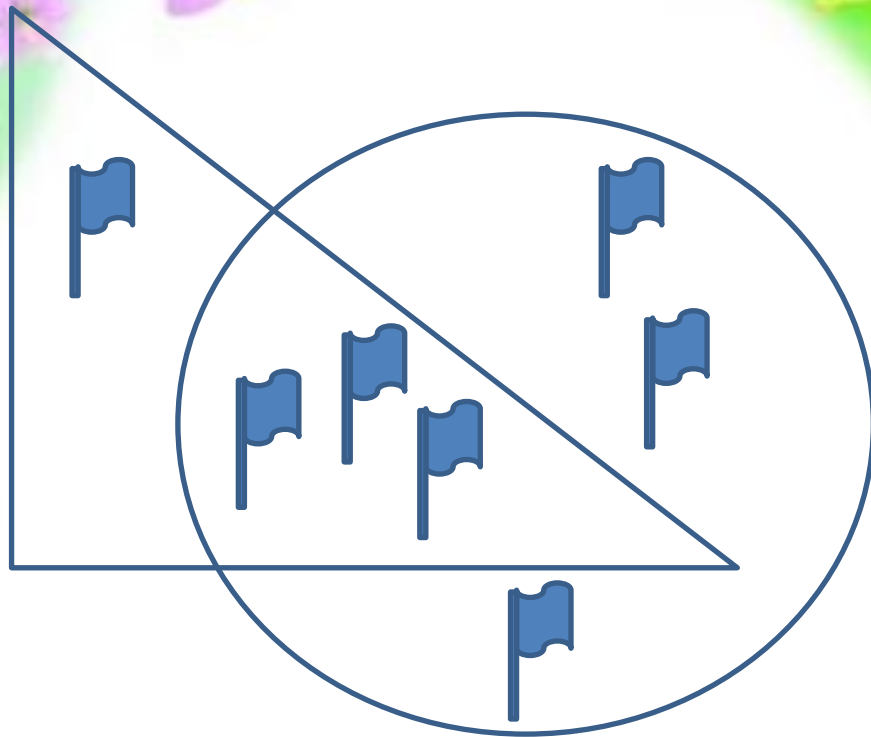


Жемістер



Барлық
Барлық алмұрттар мен алмалар — жемістер.
Барлық.....
Барлық алмұрт пен алма қышқыл емес.
...емес.
Ешбір алмұрт алма емес.
Ешбір.....





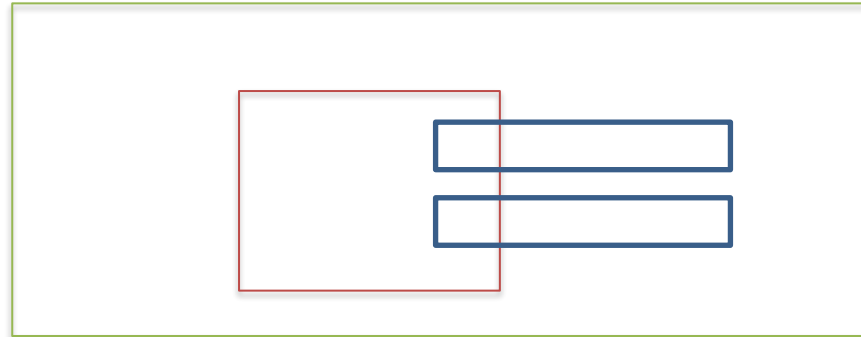
**ШЕҢБЕР ІШІНДЕ 6 ЖАЛАУША, ҮШБҰРЫШ ІШІНДЕ 4
ЖАЛАУША БОЛАТЫНДАЙ ЕТІП, ҚОСЫМША 3
ЖАЛАУШАНЫҢ СУРЕТІН САЛ.**



БЕРІЛГЕН ЖИЫНДАРДЫҢ АТАУЫН ДҰРЫС ОРНАЛАСТЫРЫП ЖАЗ.

Гүлдер
Өсімдіктер
Орман өсімдіктері
Ағаштар

Барлық гүлдер – өсімдіктер.
Гүлдердің барлығы – орман
өсімдіктері емес.
ЕШБІР ағаш – гүл емес.

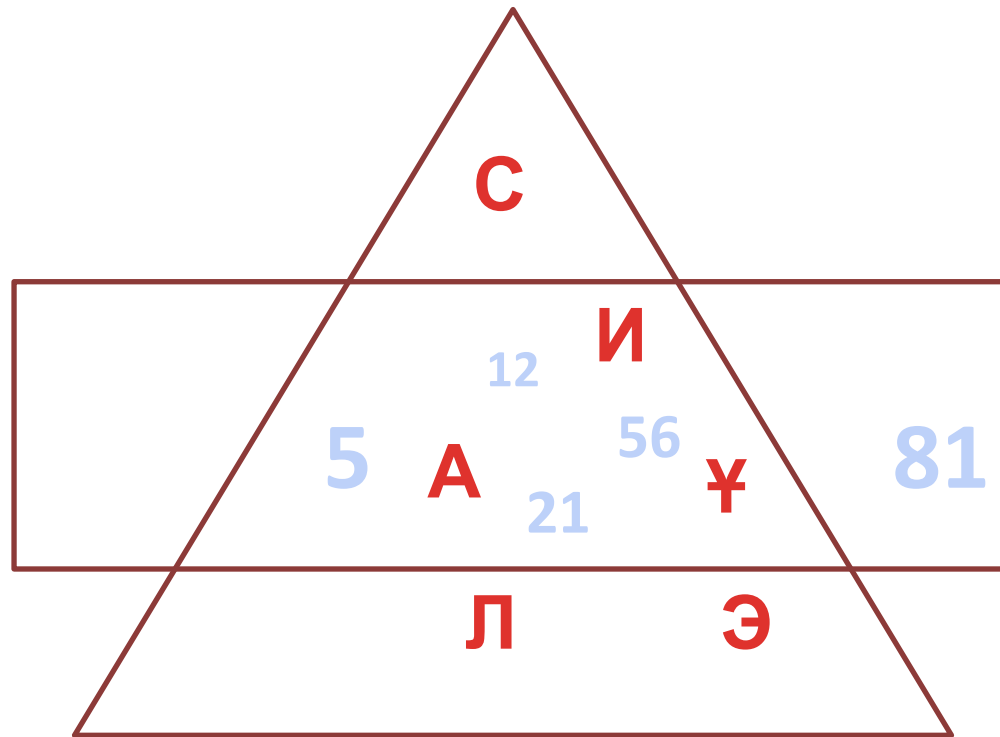


Ұлдар
Қыздар
Оқушылар
Балалар



Барлық оқушылар – балалар.
Ұлдардың барлығы – оқушы емес.
Ешбір қыз – ұл емес.

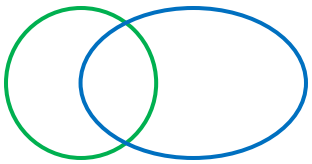


Тіктөртбұрыш ішіне 5 әріп,
үшбұрыш ішіне 4 цифр жаз.
Әріптер мен цифрларды қосқанда
барлығы 7 болатын болсын.




СӘЙКЕСТЕНДІР





КЕСПЕ ҚАҒАЗ “ОРЫНЫН ТАП”



ЖИЫН		
	СУРЕТТЕГІ ТИІН	2
	САҢЫРАУҚҰЛАҒЫ БАР ТИІН	3
	ЖАҢҒАҒЫ БАР ТИІН	4
	ЖАҢҒАҚ ЖӘНЕ САҢЫРАУҚҰЛАҒЫ БАР ТИІН	9
	САҢЫРАУҚҰЛАҒЫ НЕМЕСЕ ЖАҢҒАҚ БАР ТИІН	5
	САҢЫРАУҚҰЛАҒЫ ЖОҚ ТИІН	6
	ЖАҢҒАҒЫ ЖОҚ ТИІН	8

