



ГЕОМЕТРИЯ 7 КЛАСС

ПЯТИМИНУТКА -РАЗМИНКА



1 НАЛИЧИЕ ЧЕГО НЕОБХОДИМО НА УРОКЕ?



ОДНА ИЗ ХАРАКТЕРИСТИК ПУТИ, СТОРОНЫ
ЛЮБОЙ ФИГУРЫ

Д () ” ”
ОДНИМ СЛОВОМ А

КАКИМ ИНСТРУМЕНТОМ МОЖНО
ИЗОБРАЗИТЬ САМУЮ СОВЕРШЕННУЮ
ФИГУРУ ПО МНЕНИЮ ГРЕКОВ?




1-1=0

ГЕОМЕТРИЧЕСКИЙ ТЕРМИН



ЕДИНСТВЕННОЕ ЧИСЛО

НАТЯНУТЫЙ (ПЕРЕВОД С ГРЕЧЕСКОГО)



ВИД ТКАНИ

+ 0 +



+



= ?


~~И~~ (3)

КАК ОНА НАЗЫВАЕТСЯ?????

НАЗВАНИЕ стороны треугольника



+



=

?

ОГРАНИЧЕННАЯ ПРЯМАЯ




ПРОЧИТАТЕ ТЕОРЕМУ

~~3, 4, 5~~ + ~~2, 4, 5~~ ~~3, 4, 5~~ ~~3, 2, 1~~



ед. число + 3, 1, 6 .



= 210-30



ед. измерения

А ВЫ ЗНАЕТЕ, ЧТО ЕСЛИ ЧИСЛО

111 111 111

УМНОЖИТЬ САМО НА СЕБЯ, ТО ПОЛУЧИТСЯ

123 456 78 9 87 654 321 ?