

# ОТРЕЗОК. ДЛИНА ОТРЕЗКА.

*Коломоец Елена Петровна  
Учитель математики  
МБОУ Гимназия 12  
Г. Ленинск-Кузнецкий*

*5 класс*

*1. Поставьте в тетради две точки.*

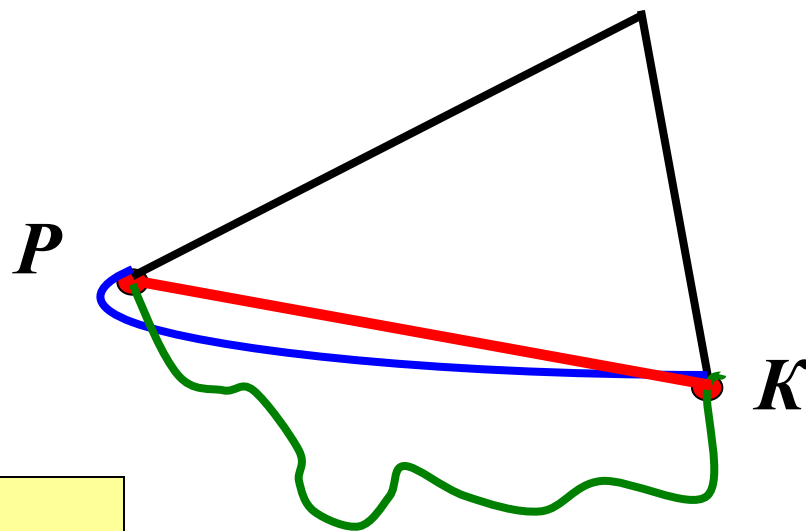
*2. Обозначьте их буквами Р и К.*

*3. Соедините точки Р и К разными способами.*

• *ОТРЕЗОК – это часть прямой, ограниченной двумя точками.*

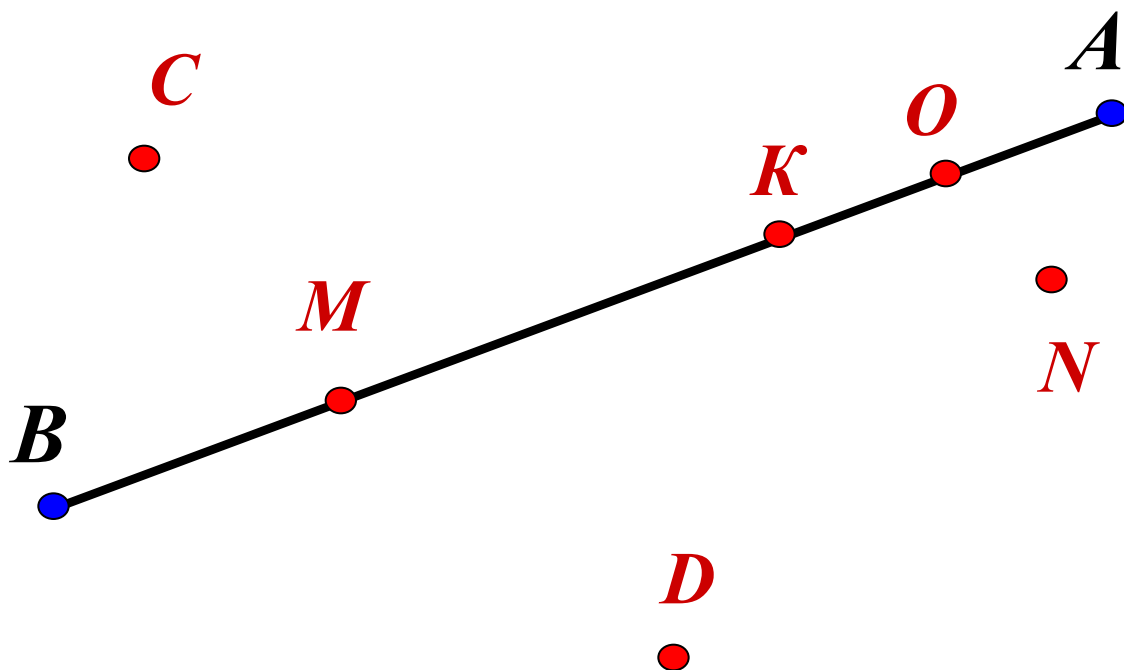
• *Точки Р и К- концы отрезка.*

• *Запись РК или КР.*



***РК - отрезок***

Определите, какие из точек лежат на отрезке  $AB$ , а какие не лежат.





# Упражнения



- №31
- №32
- №33

# ФИЗКУЛЬТМИНУТКА

## ДЛЯ ГЛАЗ

- Вертикальные движения глаз.



- Горизонтальные движения глаз.



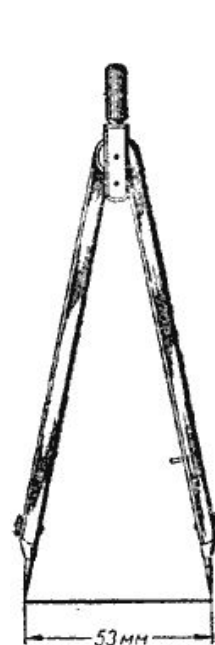
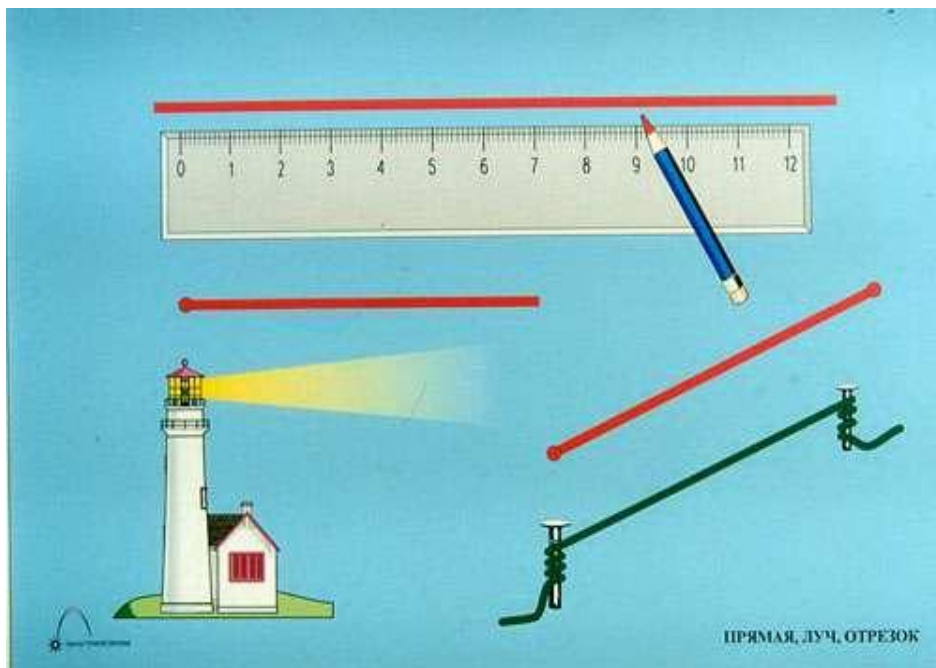
- Вращения глазами.



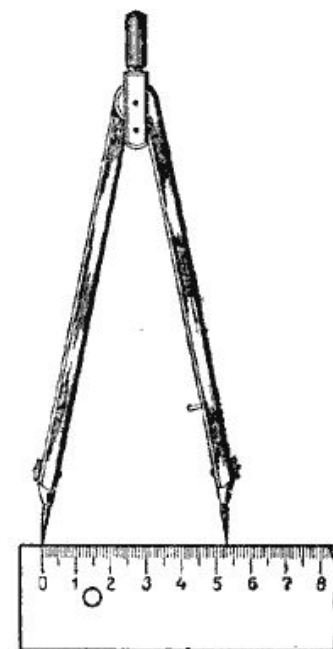
- Нарисовать глазами спираль.



# Сравнение отрезков



Черт. 28.





Черт. 29

# Сравнение отрезков

- Отрезки сравнивают наложением одного отрезка на другой
- С помощью измерителя

$$MK = CD$$

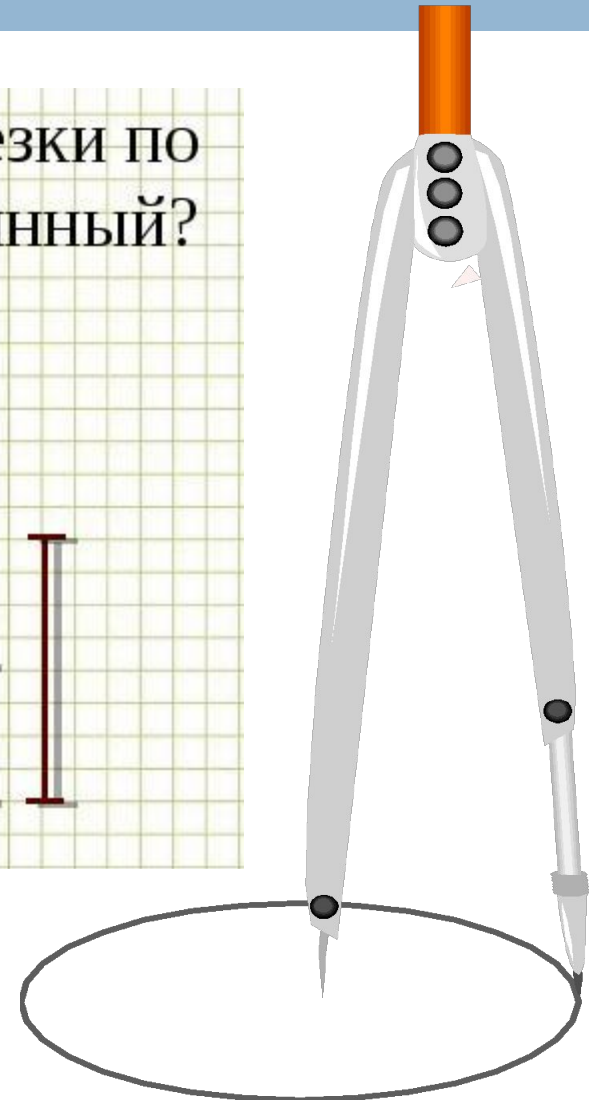
$$EH < EF$$





# А ну-ка, подумай!

На каждом рисунке сравни отрезки по длине. Какой отрезок самый длинный? Самый короткий?



# Домашнее задание:

**§2, №64(5;6); 65; 66**

