



Ковалева Инга Михайловна, учитель математики
МКОУ Новокурлакская СОШ
Аннинского района Воронежской области

Математика 5 класс

Тренировочный тест № 1

Вариант 1

Введите фамилию и имя

Вычислите:

$$7000 : 200 \cdot 6$$

Введите ответ

Ответ:

Задание

1

1 бал.



Далее

Вычислите:

$$47 - 45 : (5 + 4) + 3 \cdot 8$$

Введите ответ

Ответ:

Задание

2

1 бал.



Далее

В пятиэтажном доме три подъезда. В каждом подъезде на каждом этаже три квартиры. Сколько всего квартир в доме?

Введите ответ

Ответ:

Задание

3

1 бал.



Далее

Чтобы склеить бумажный самолёт, нужно 5 листов бумаги. Дети сделали 6 самолётов. Сколько листов бумаги осталось, если сначала было 34 листа?

Введите ответ

Ответ:



Если данное число увеличить в 2 раза, то получившееся число будет на 4 больше, чем 62. Найдите данное число.

Введите ответ

Ответ:



Напишите наименьшее натуральное число, которое делится на 3, на 6 и на 5.

Введите ответ

Ответ:

Задание

6

1 бал.



Далее

Несколько чисел записаны в ряд:

2153, 2314, 3004, 3427, 3316.

Выберите все верные утверждения об этих числах.

- 1) Все числа записаны в порядке возрастания.
- 2) В последнем числе в разряде тысяч стоит цифра 3.
- 3) Среди этих чисел есть ровно два чётных числа.
- 4) Среди этих чисел есть число, которое при делении на 100 даёт остаток 4.

В ответе укажите номера верных утверждений без пробелов, запятых и других дополнительных символов.

Введите ответ

Ответ:

Запишите цифрами десятичную дробь: «ноль целых двести семь десятитысячных».

Введите ответ

Ответ:



Какое число надо вписать в окошко, чтобы равенство стало верным?

Введите ответ

Ответ:



Решите уравнение

$$1,7 \cdot x = 0,34$$

Введите ответ

Ответ:



В таблице приведены нормативы по прыжкам с места для учеников 11 класса. Какую оценку получит девочка, прыгнувшая на 167 см?

	Мальчики			Девочки		
Отметка	«5»	«4»	«3»	«5»	«4»	«3»
Расстояние, см	230	220	200	185	170	155

 1

отметка «5»

 3

отметка «3»

 2

отметка «4»

 4

«неудовлетворительно»



В классе учится 20 человек, из них 13 человек посещают кружок по истории, а 10 человек – кружок по математике. Выберите утверждения, которые следуют из приведённых данных. В этом классе

- 1) нет ученика, который не посещает ни кружок по истории, ни кружок по математике
- 2) найдутся хотя бы два человека, которые посещают оба кружка
- 3) если ученик не ходит на кружок по истории, то он обязательно ходит на кружок по математике
- 4) не найдётся 11 человек, которые посещают оба кружка.

В ответе укажите номера верных утверждений без пробелов, запятых и других дополнительных символов.


Введите ответ

Ответ:



На клетчатой бумаге нарисована фигура. Сторона клетки равна 1 см.

Найдите периметр фигуры (в сантиметрах).



Введите ответ

Ответ:

СМ



На клетчатой бумаге нарисована фигура. Сторона клетки равна 1 см.

Найдите площадь фигуры (в квадратных сантиметрах).



Введите ответ

Ответ:

см²



Группа, состоящая из 23 школьников и двух учителей, решила совершить экскурсионную поездку. Билет на экскурсионный автобус стоит 400 руб. для взрослого и 150 руб. для школьника. На группу из 10 школьников можно приобрести групповой билет за 1000 руб. Какую минимальную сумму в рублях должна заплатить группа при организации экскурсионной поездки?

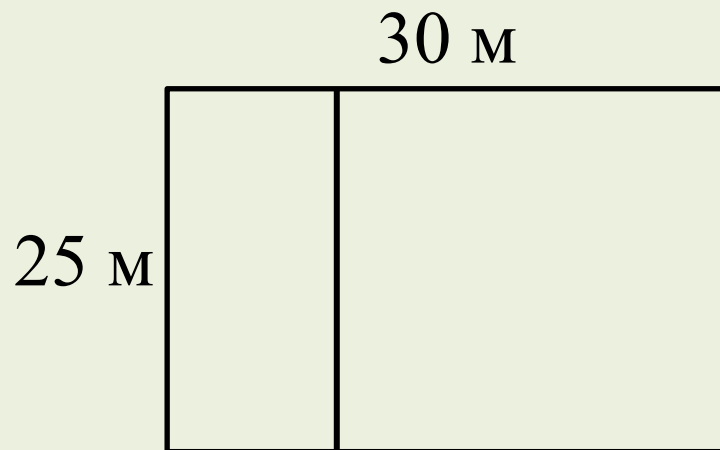
Введите ответ

Ответ:

руб.



Дачный участок имеет форму прямоугольника со сторонами 25 метров и 30 метров. Хозяин планирует обнести его забором и разделить таким же забором на две части, одна из которых имеет форму квадрата. Найдите общую длину забора в метрах.




Введите ответ

Ответ:

М



Фотография размером 11×24 см помещена в рамку ширины 2 см. Найдите внешний периметр рамки.



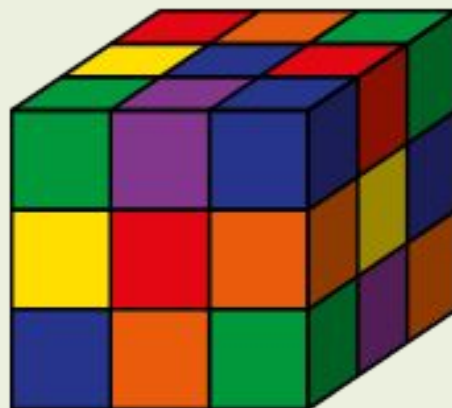
Введите ответ

Ответ:

СМ



Из маленьких кубиков сделали один брикет. Сколько маленьких кубиков потребовалось?



Введите ответ

Ответ:



Результаты тестирования

			Оценка
Правильных ответов	<input type="text"/>	<input type="text"/>	<input type="text"/>
Набранных баллов	<input type="text"/>	<input type="text"/>	

Ошибки в выборе
ответов на задания:

Всего заданий бал.

Снова

Выход

Затрачено времени