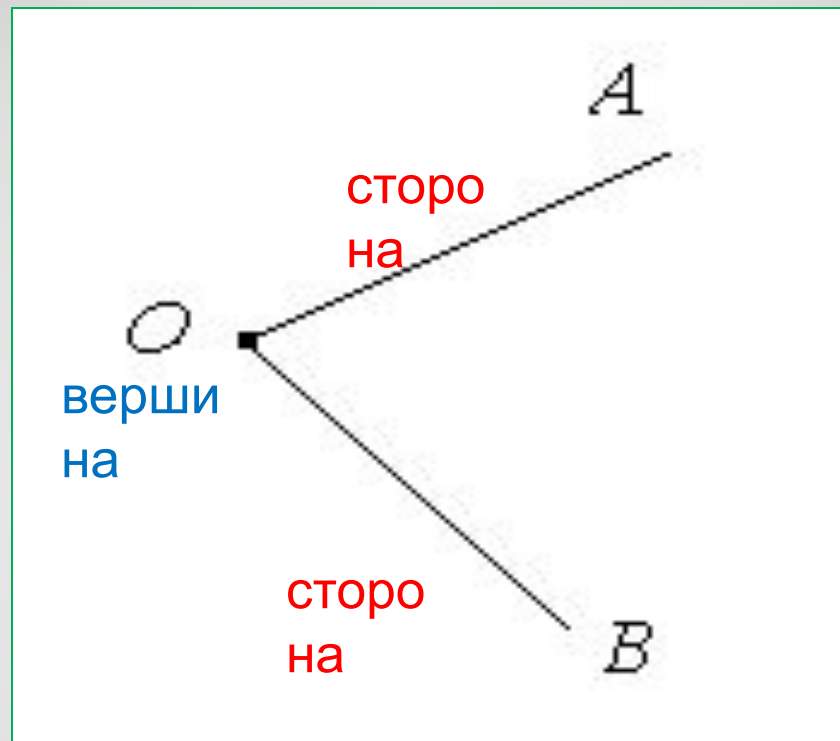
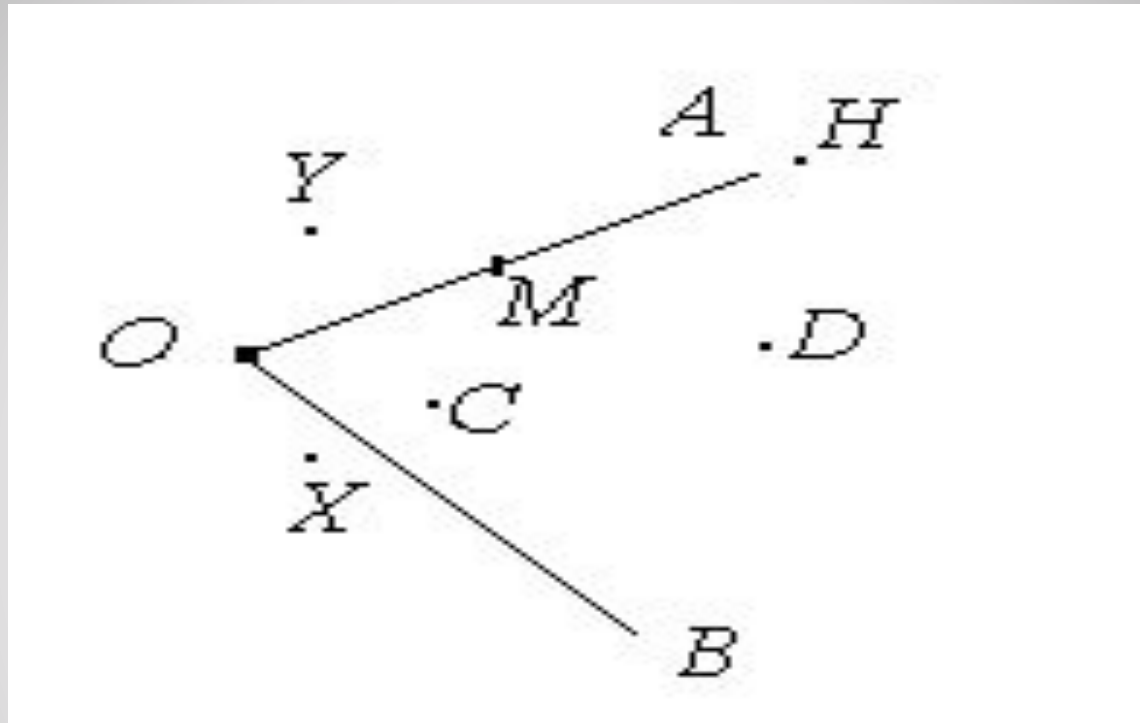


# Прямой и развернутый угол

Махорина Людмила Сергеевна  
Эл. Адрес: [nikohca@yandex.ru](mailto:nikohca@yandex.ru)



**$\angle AOB$  или  $\angle O$**



**Какие из этих точек лежат внутри угла?**

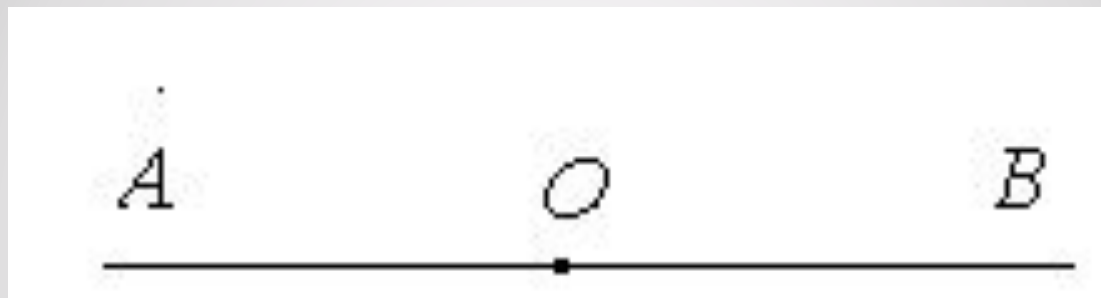
**Какие из этих точек лежат вне угла?**

**Какие из этих точек лежат на сторонах угла?**

# УГОЛ

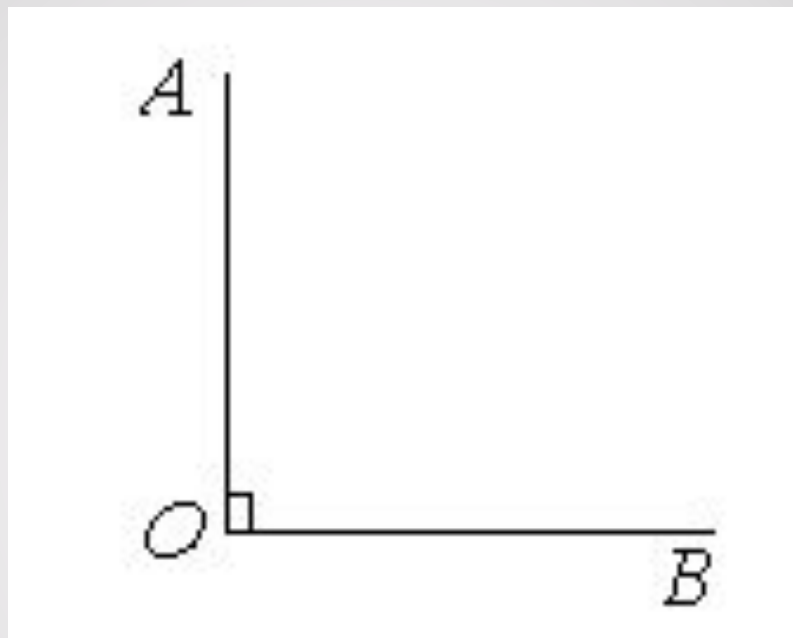
прямой

развернутый




**< AOB – развернутый угол**





**$\angle AOB$ - прямой угол**

Какое время должны показывать часы, чтобы между часовой и минутной стрелкой образовался прямой угол?





# Практическая работа

## СПИСОК ИСПОЛЬЗУЕМЫХ ИСТОЧНИКОВ:

1. Математика. 5 класс : учеб. Для учащихся общеобразоват. Учреждений / Н.Я. Виленкин, В.И. Жохов, А.С. Чесноков, С.И. Шварцбурд.- 31-е изд., стер.-М.:Мнемозина, 2013

2. <http://yandex.ru/images/search?source>