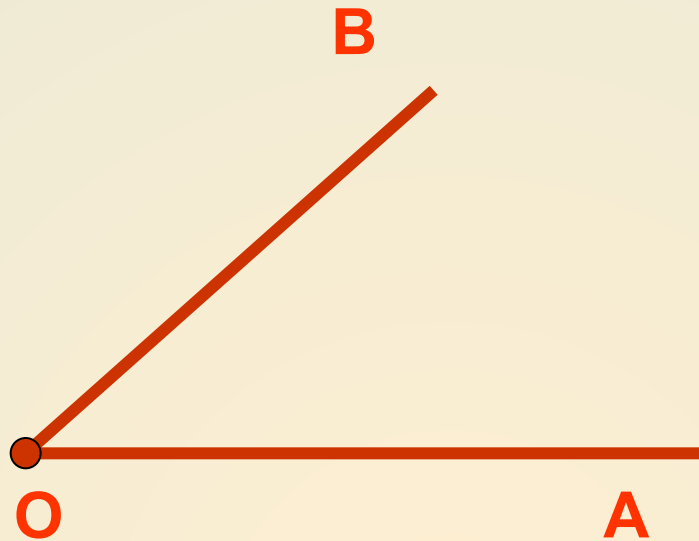


**Тема:**

**Определение угла.  
Развернутый угол**

Математика 5 класс

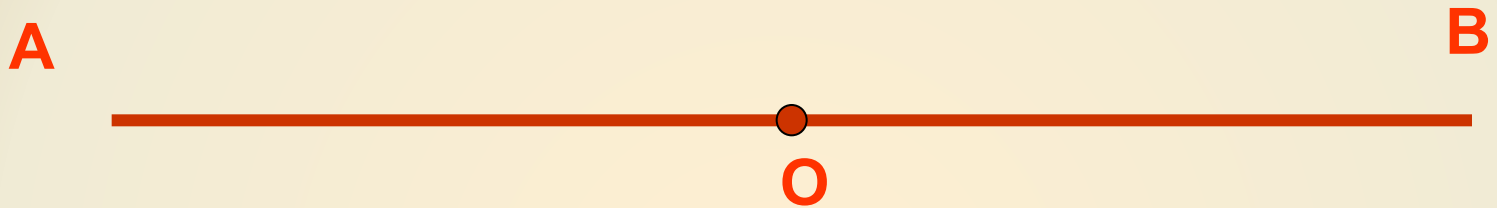


Угол – это фигура, образованная двумя лучами, имеющие общее начало.

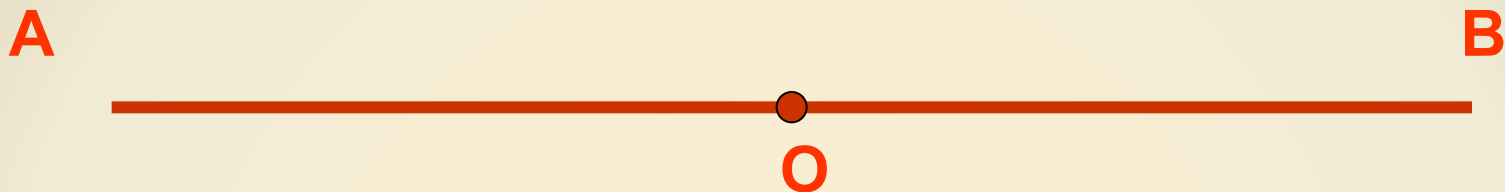
Точка O – вершина угла AOB.

Лучи OA и OB – стороны угла AOB.

Обозначение :–  $\angle AOB$ ,  $\angle BOA$ ,  $\angle O$ .

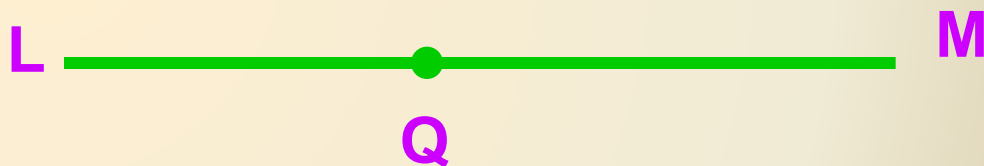



Лучи  $OA$  и  $OB$  называются  
дополнительными или  
противоположными, почему?  
Будет ли данная фигура углом и  
почему?



Развёрнутым углом – называется угол, образованный дополнительными лучами.

$\angle AOB$  – развёрнутый.



1. Назовите каждый угол тремя способами.
2. Назовите вершину каждого угла.
3. Назовите стороны каждого угла.