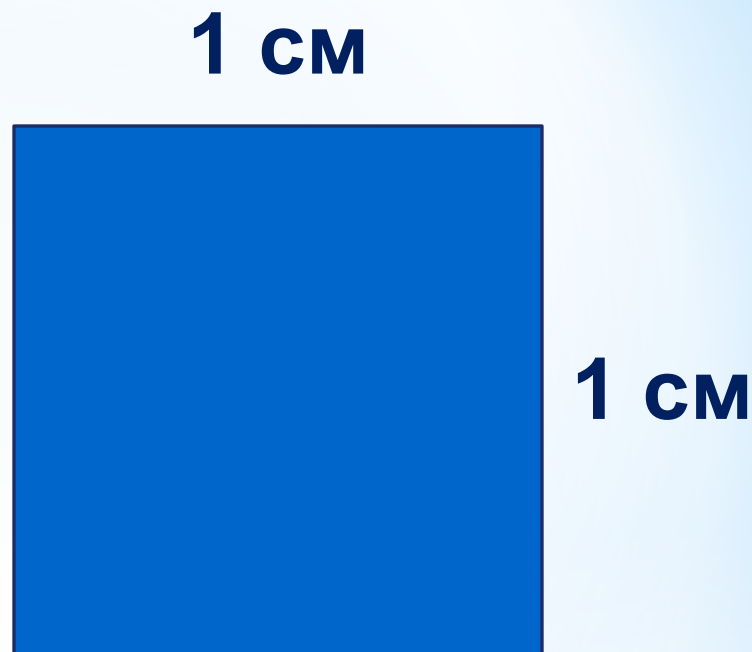
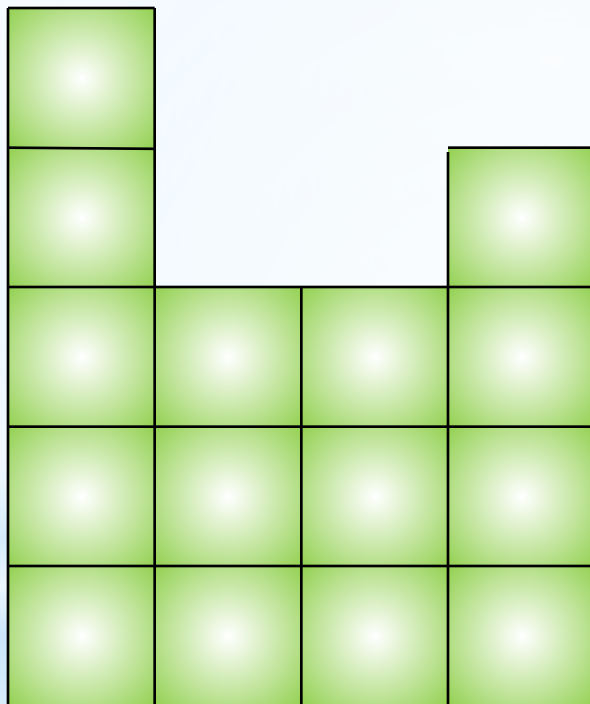


Чему равна площадь такого квадрата?

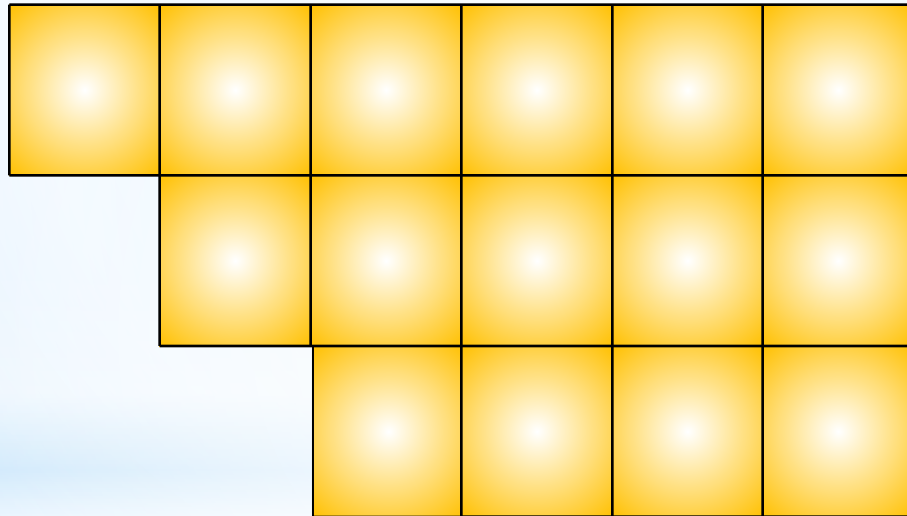


Площадь такого квадрата называется
квадратным сантиметром.



Найдите площадь фигуры, изображённой на рисунке, если условиться, что длина стороны каждой клетки равна 1 см.



Найдите площадь фигуры, изображённой на рисунке, если условиться, что длина стороны каждой клетки равна 1 см.



Найдите площадь фигуры, изображённой на рисунке, если условиться, что длина стороны каждой клетки равна 1 см.



Формула площади
прямоугольника

$$S = a \cdot b$$

$$a = S : b$$

$$b = S : a$$

<i>S</i>	60 см²	18 км²	120 мм²	36 м²
<i>a</i>	15 см	6 км	6 мм	6 м
<i>b</i>	4 см	3 км	2 см	60 дм

Рефлексия



1. Сегодня я узнал...
2. Было интересно...
3. Было трудно...
4. Я выполнял задания...
5. Я понял, что...
6. Теперь я могу...
7. Я почувствовал, что...
8. Я приобрел...
9. Я научился...
10. У меня получилось...
11. Я смог...
12. Я попробую...
13. Меня удивило...
14. Урок дал мне для жизни...
15. Мне захотелось...

Интернет-источники

<http://office.microsoft.com/ru/images/results.aspx?qu=%D0%BA%D0%BD%D0%B8%D0%B3%D0%B8&ex=1#ai:MC900440424|mt:1|> (смайлик)

<http://office.microsoft.com/ru/images/results.aspx?qu=%D0%BC%D0%B0%D0%BB%D1%8C%D1%87%D0%B8%D0%BA&ex=1#ai:MC900349097|mt:1|> (мальчик)