

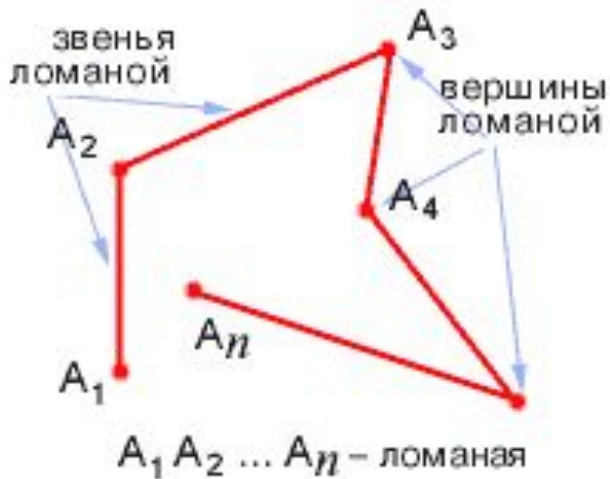


ЧЕТЫРЁХ-

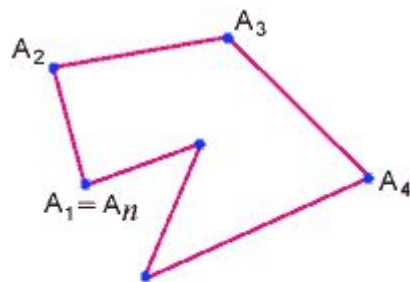
УГОЛЬНИКИ

## Вопросы по теме: «ЧЕТЫРЁХУГОЛЬНИКИ».

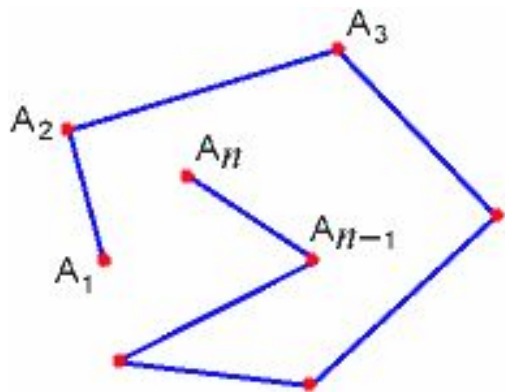
1. Ломаная. Замкнутая ломаная. Простая ломаная.
2. Многоугольник. Вершины, стороны, диагонали и периметр многоугольника.
3. Выпуклые и невыпуклые многоугольники.
4. Вывод формулы для вычисления суммы внутренних углов выпуклого многоугольника.
5. Доказать, что сумма внешних углов выпуклого многоугольника, взятых по одному при каждой вершине, равна  $360^\circ$ .
6. Определение параллелограмма Определение параллелограмма. Определение параллелограмма. Доказать свойства, признаки параллелограмма.
7. Определение средней линии треугольника. Определение средней линии треугольника. Доказать свойство средней линии треугольника.
8. Доказать теорему Фалеса.
9. Доказать теорему Вариньона.
10. Определение трапеции. Определение трапеции. Виды трапеции Определение трапеции. Виды трапеции. Доказать свойства, признаки равнобедренной трапеции.
11. Определение средней линии трапеции. Доказать свойство средней линии трапеции.
12. Определение прямоугольника. Доказать свойства, признаки прямоугольника.
13. Определение ромба. Доказать свойства, признаки ромба.
  - Определение квадрата. Доказать свойства, признаки квадрата.
1. Осевая симметрия. Примеры фигур, обладающих осевой симметрией.
2. Центральная симметрия. Примеры фигур, обладающих центральной симметрией.



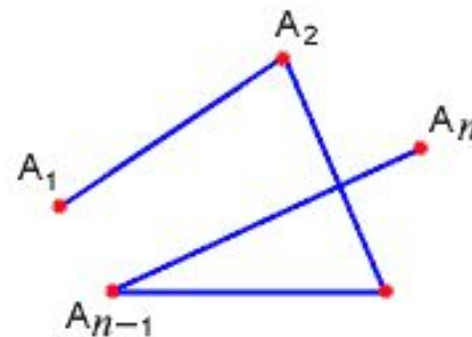
Фигура, составленная из отрезков  $A_1A_2$ ,  $A_2A_3$ ,  $\dots A_{n-1}A_n$ , таких что соседние отрезки не лежат на одной прямой, а точки  $A_1$  и  $A_n$  могут быть различными или могут совпадать, называется ломаной.



Замкнутая ломаная



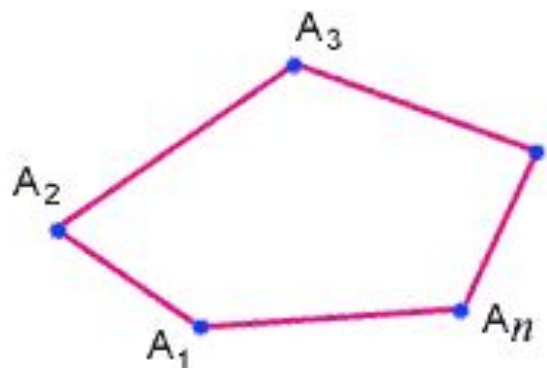
Простая ломаная



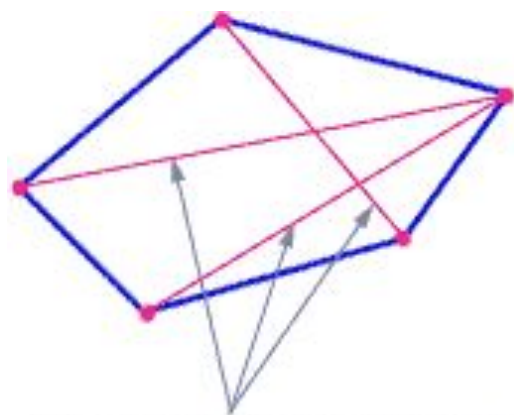
Непростая ломаная



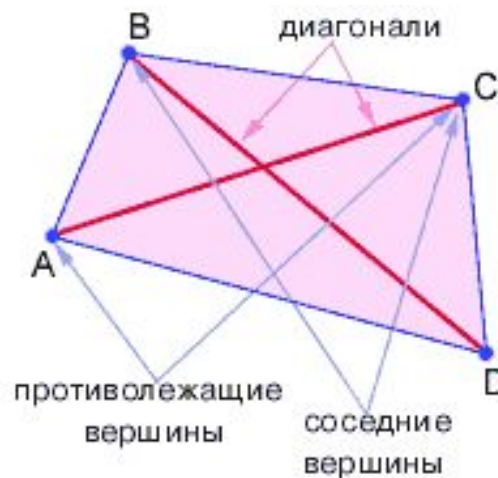
Простая замкнутая ломаная называется МНОГОУГОЛЬНИКОМ.

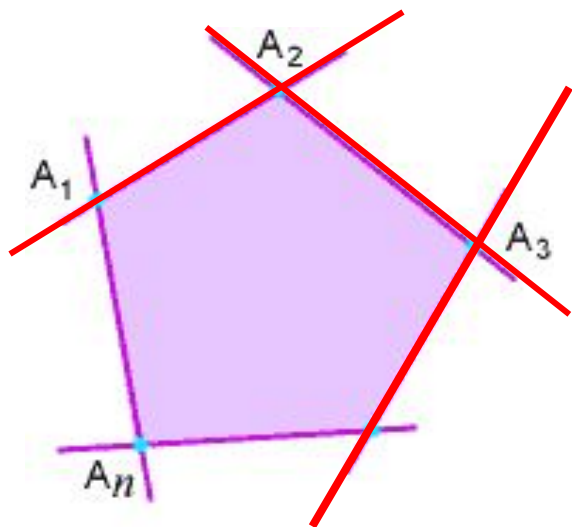


$A_1 A_2 \dots A_n$  -  $n$ -угольник

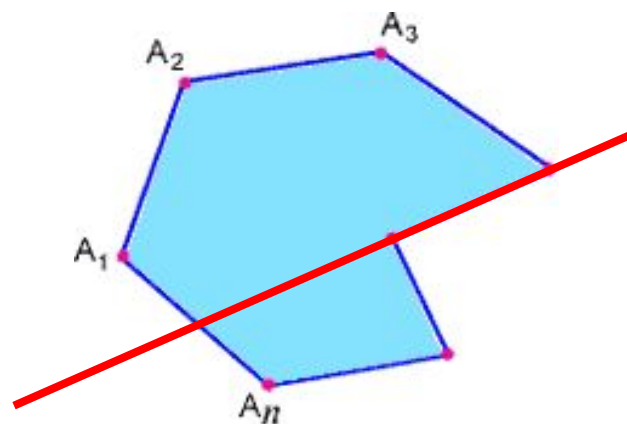


диагонали многоугольника





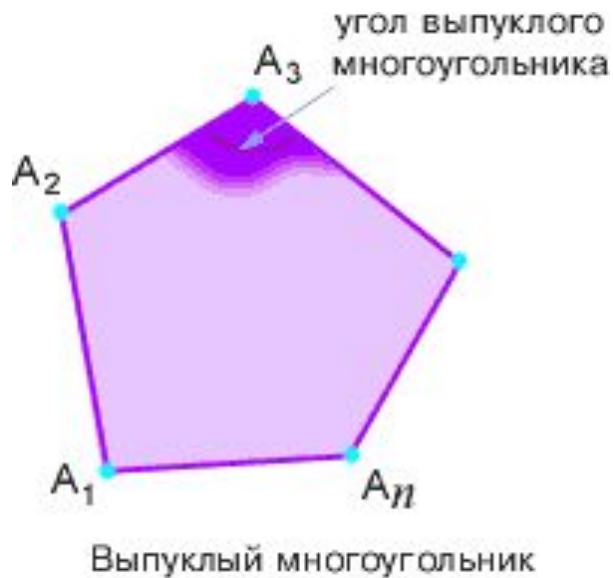
**выпуклый  
многоугольник**



**невыпуклый  
многоугольник**

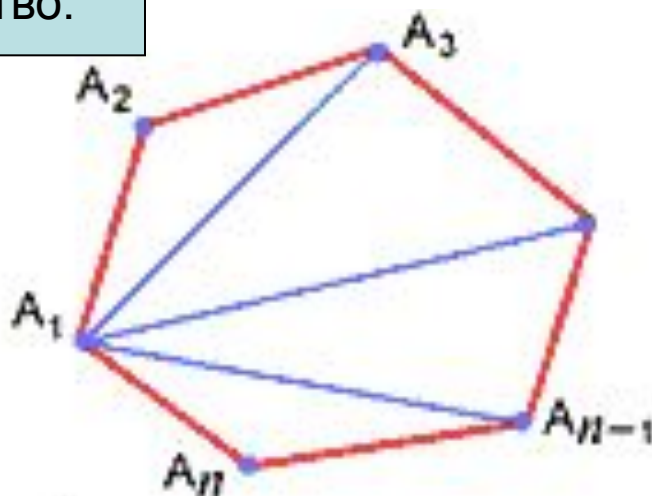
Многоугольник называется **выпуклым**, если он лежит по одну сторону от каждой прямой, проходящей через две его соседние вершины.





**Сумма внутренних  
углов выпуклого  
многоугольника  
равна  
 $(n - 2) \cdot 180^\circ$**

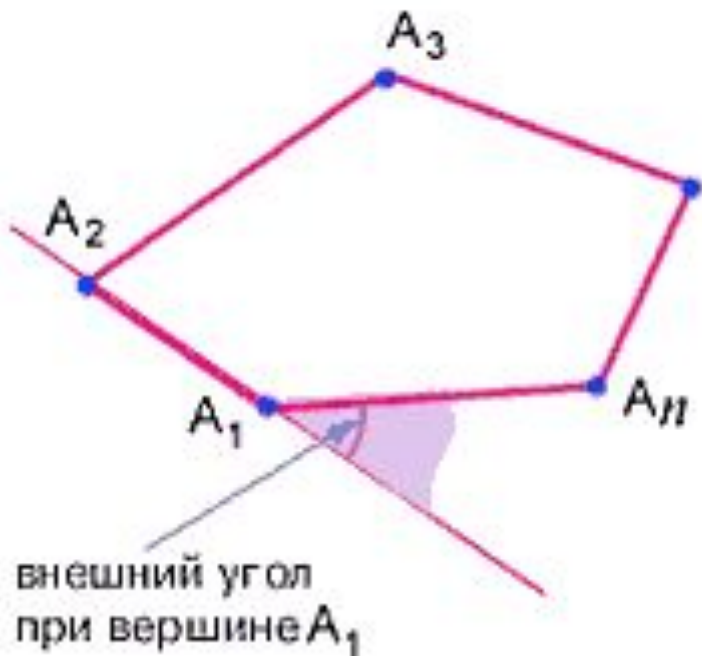
Доказательство:



Соединим диагоналями  
вершину  $A_1$  с другими  
вершинами. Получим  $(n-2)$   
треугольников, сумма углов  
которых равна сумме углов  
 $n$ -угольника. Сумма углов  
каждого треугольника равна  
 $180^\circ$ , поэтому сумма углов  $n$ -  
угольника равна  $(n - 2) \cdot 180^\circ$ .



**Сумма внешних углов  
выпуклого  
многоугольника,  
взятых по одному  
при каждой вершине,  
равна  $360^\circ$ .**



Доказательство:

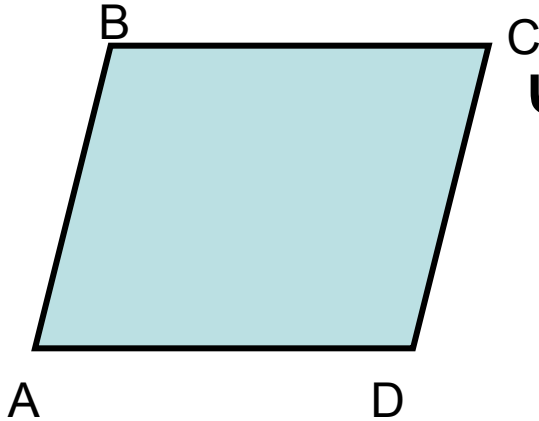
Сумма внешних углов:

$$\begin{aligned} & (180^\circ - \angle A_1) + (180^\circ - \angle A_2) + (180^\circ - \angle A_3) + \dots + (180^\circ - \angle A_n) = \\ & = 180^\circ \cdot n - (\angle A_1 + \angle A_2 + \angle A_3 + \dots + \angle A_n) = \\ & = 180^\circ \cdot n - (n - 2) \cdot 180^\circ = \\ & = 180^\circ \cdot n - 180^\circ \cdot n + 360^\circ = 360^\circ \end{aligned}$$



# Параллелограмм

(греч. от *parállelos*—параллельный и *grámma* — линия)



Четырёхугольник, у которого стороны попарно параллельны, называется

параллелограммом.

$$\left. \begin{array}{l} AB \parallel CD \\ BC \parallel AD \end{array} \right\} \Rightarrow ABCD - \text{параллелограмм}$$

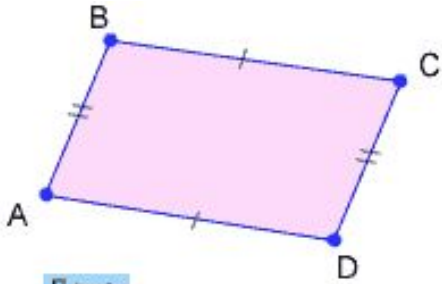
СВОЙСТВА

ПРИЗНАКИ



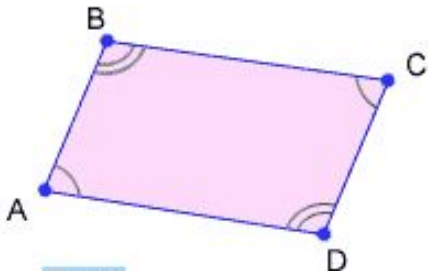


# Свойства параллелограмма



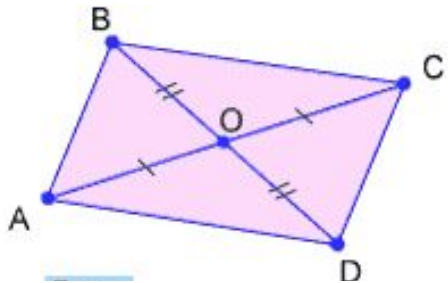
1. В параллелограмме  
противоположные стороны равны.

$$AB=CD, \quad BC=AD$$



2. В параллелограмме  
противоположные углы равны.

$$\angle A = \angle C, \quad \angle B = \angle D$$

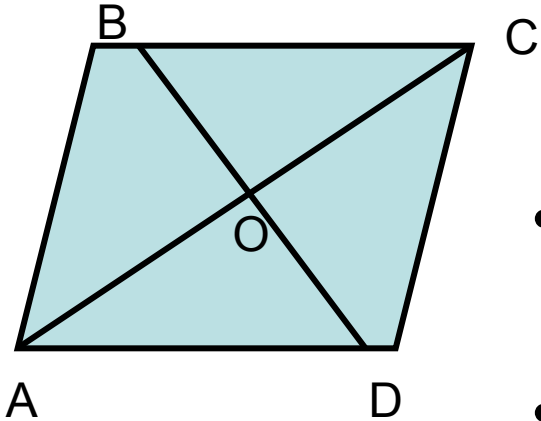


3. Диагонали параллелограмма  
точкой пересечения делятся пополам.

$$AO=CO, \quad BO=DO.$$



# Признаки параллелограмма

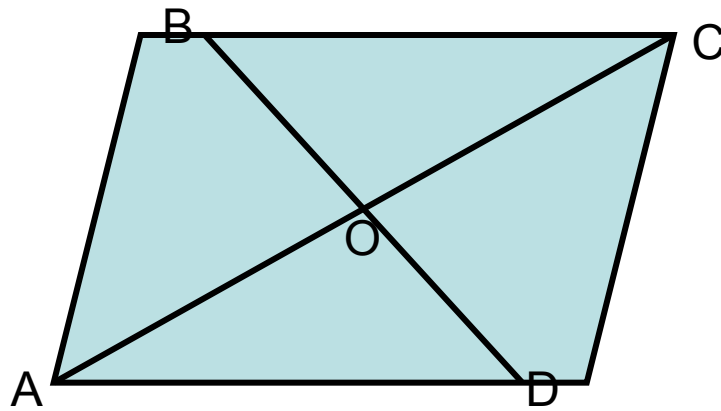


Если в четырёхугольнике

- две стороны равны и они же параллельны;
- противоположные стороны попарно равны;
- диагонали пересекаются и точкой пересечения делятся пополам,

то этот четырёхугольник  
параллелограмм.





## СВОЙСТВА

1) Дано:  $\square ABCD$ -параллелограмм.  
Доказать:  $AB=CD$ ,  $BC=AD$ .

2) Дано:  $\square ABCD$ -параллелограмм.  
Доказать:  $\angle A = \angle C$ ,  $\angle B = \angle D$ .

3) Дано:  $\square ABCD$ -параллелограмм.  
Доказать:  $AO=OC$ ,  $BO=OD$ .

## ПРИЗНАКИ

1) Дано:  $AB=CD$ ,  $BC=AD$ .  
Доказать:  $\square ABCD$ -параллелограмм.

2) Дано:  $\angle A = \angle C$ ,  $\angle B = \angle D$ .  
Доказать:  $\square ABCD$ -параллелограмм.

3) Дано:  $AO=OC$ ,  $BO=OD$ .  
Доказать:  $\square ABCD$ -параллелограмм.

4) Дано:  $AB=CD$ ,  $AB \parallel CD$ .  
Доказать:  $\square ABCD$ -параллелограмм.





## Средней линией треугольника

называется отрезок,  
соединяющий середины двух  
сторон треугольника.

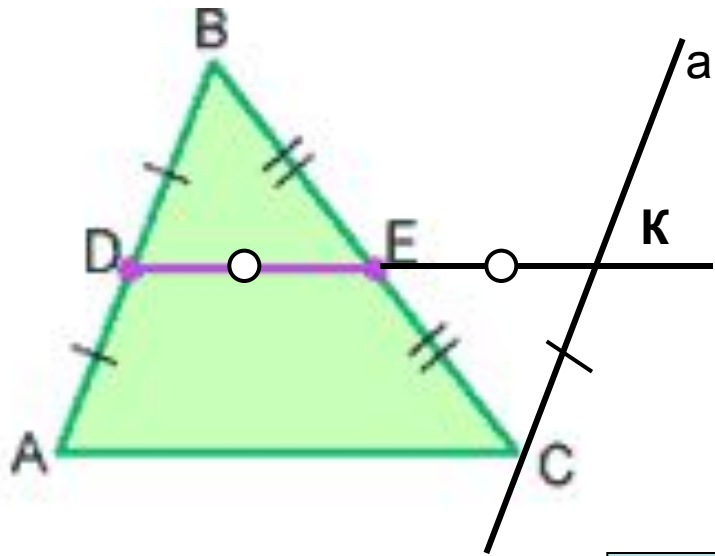
**DE – средняя линия  $\triangle ABC$ .**

## Свойство средней линии треугольника:

Средняя линия треугольника параллельна  
одной из его сторон и равна её половине.

**$DE \parallel AC$  и  $DE = \frac{1}{2}AC$ .**





Дано:  $\triangle ABC$ ,  $DE$  – средняя линия.

Доказать:  $DE \parallel AC$  и  $DE = \frac{1}{2}AC$ .

Доказательство:

1) Проведём прямую  $a \parallel AB$  через точку  $C$ ;  
 $a \cap DE = K$ .

2)  $\triangle DBE = \triangle KCE$  (по стороне и двум прилежащим углам)  $\implies$   
 $DB = CK$  и  $DE = EK$ .

3) Так как  $DB = CK$  и  $DB = AD \implies AD = CK$

4) Имеем  $AD = CK$  и  $AD \parallel CK \implies ADKC$  – параллелограмм (по признаку)

Значит,  $DK \parallel AC$        $DE \parallel AC$  и

$DE = EK = \frac{1}{2} DK \implies DE = \frac{1}{2} AC$  ( $AC = DK$  по свойству параллелограмма)



# Фалес Милетский

(ок. 625 до н. э. — ок. 545 до н. э.)



Фалес из Милета — древнегреческий философ; военный инженер лидийских царей; совершал далекие путешествия с познавательными целями; используя полученные в Египте знания, предсказал солнечное затмение 28 мая 585 г. до н. э., которое помогло лидийскому царю Алиатту принудить мидян к миру на выгодных условиях. Во время войны с персами Фалес проектировал инженерные сооружения для армии другого лидийского царя — Креза (595—546 до н. э.). Именем Фалеса названа одна из теорем геометрии. Основным свойством природы Фалес считал изменчивость, поэтому её суть он выражает в метафоре воды. Подобно воде, природа принимает разнообразные формы и состояния.

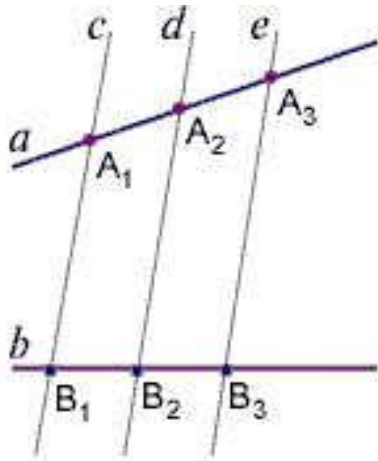
По Аристотелю, Фалес является первым ионийским философом и вместе с тем первым (древнегреческим) философом вообще. Ему (а также Филону) приписывают изречение: «познай самого себя». Сочинения Фалеса не сохранились.

Фалесу приписывают открытие следующих геометрических предложений:

- Вертикальные углы равны.
- Углы при основании равнобедренного треугольника равны.
- Треугольник определяется стороной и прилежащими к ней двумя углами.
- Диаметр делит круг на две равные части.

[\(биография\)](#)

# Теорема Фалеса



Теорема Фалеса — одна из теорем планиметрии.

*Формулировка теоремы:*

*Две пары параллельных прямых, отсекающие на одной секущей равные отрезки, отсекают на любой другой секущей также равные отрезки.*

## История

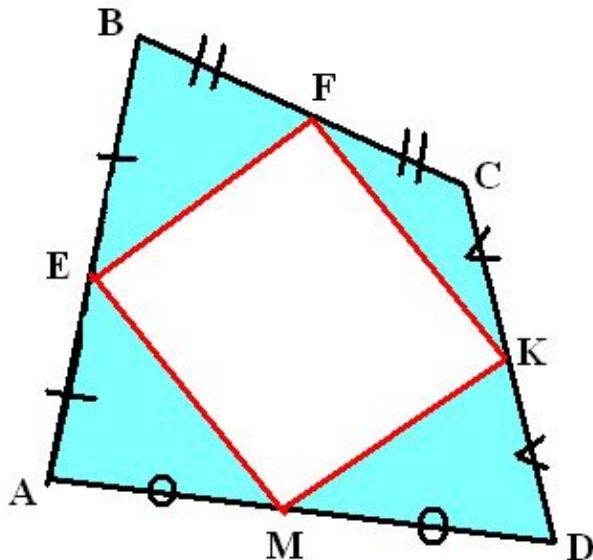
Теорема приписывается древнегреческому философу Фалесу, в честь которого и названа.

Необходимо отметить, что теоремой Фалеса иногда (особенно в других странах) также называют другую теорему планиметрии — о том, что угол, опирающийся на диаметр окружности, является прямым.



# Теорема Вариньона.

**ВАРИНЬОН Пьер (1654-1722)** - французский механик и математик. Член Парижской АН (1688). Профессор математики коллежа Мазарини (с 1688), профессор Коллеж де Франс (с 1704). Труды Вариньон Пьер посвящены теоретической механике, анализу бесконечно малых, геометрии, гидромеханике.

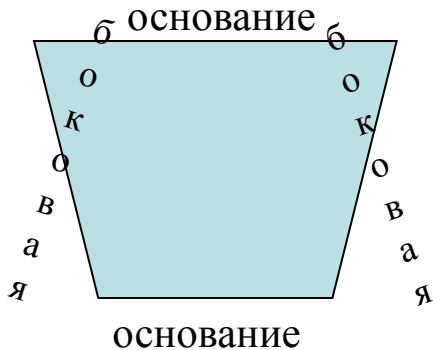


Средины сторон произвольного четырёхугольника являются вершинами параллелограмма.





# трапеция



Четырёхугольник, у которого две стороны параллельны, а две другие не параллельны, называется трапецией.


Параллельные стороны называют основаниями, а две другие стороны – боковыми.

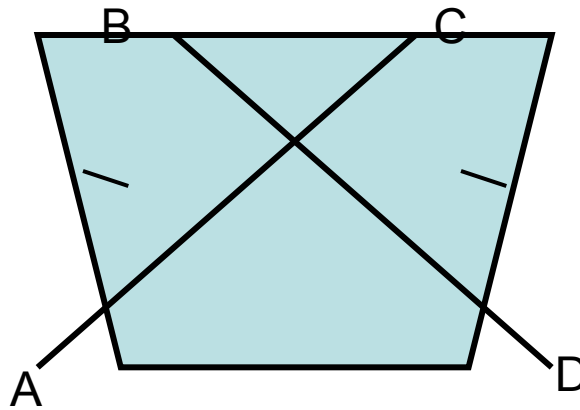


- Трапеция называется **равнобедренной**, если её боковые стороны равны.



- Трапеция, один из углов которой прямой, называется **прямоугольной**.





### Свойства:

В равнобедренной трапеции:

- углы при каждом основании равны;

$$\angle A = \angle D, \angle B = \angle C$$

- диагонали равны

$$AC = BD.$$

### Признаки:

Если в трапеции:

- углы при каждом основании равны;
- диагонали равны,

то трапеция  
равнобедренная.



Средняя линия трапеции – отрезок, соединяющий середины её боковых сторон.

FE – средняя линия трапеции ABCD


Свойство средней линии:

Средняя линия трапеции параллельна основаниям и равна их полусумме.

$FE \parallel AD \parallel BC$  и  $FE = \frac{1}{2}(AD + BC)$



# прямоугольник



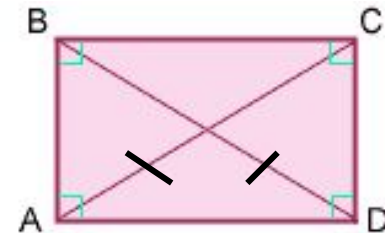
Прямоугольник ABCD

Прямоугольником называется параллелограмм, у которого все углы прямые.

Свойства.

Особое свойство прямоугольника:

Диагонали прямоугольника равны.

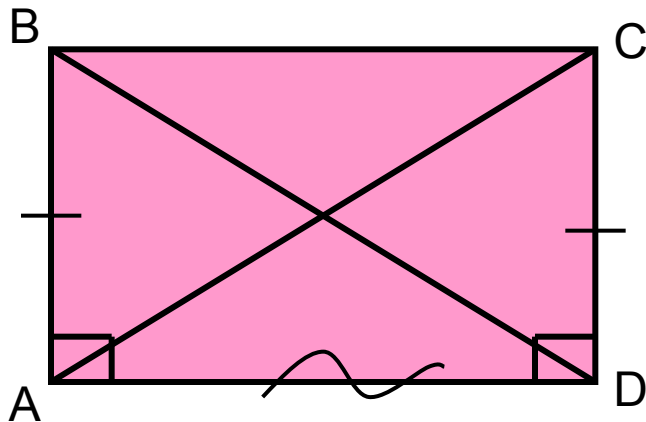


**Признак прямоугольника:**

Если в параллелограмме диагонали равны, то этот параллелограмм – прямоугольник.

# Особое свойство прямоугольника.

Диагонали прямоугольника равны.



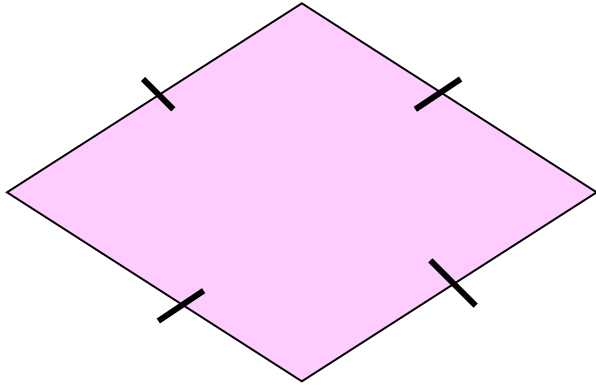
**Дано:** ABCD –  
прямоугольник.

**Доказать:**  $AC = BD$ .

**Доказательство:**

$\triangle ABD = \triangle DCA$  по двум катетам ( $CD=AB$ ,  $AD$  –  
общая)  $\Rightarrow AC=BD$ .

# РОМБ

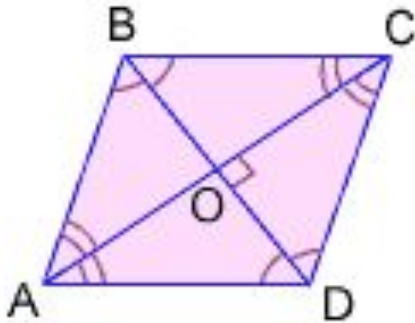


Ромбом называется параллелограмм, у которого все стороны равны.

## Свойства.

### Особое свойство ромба:

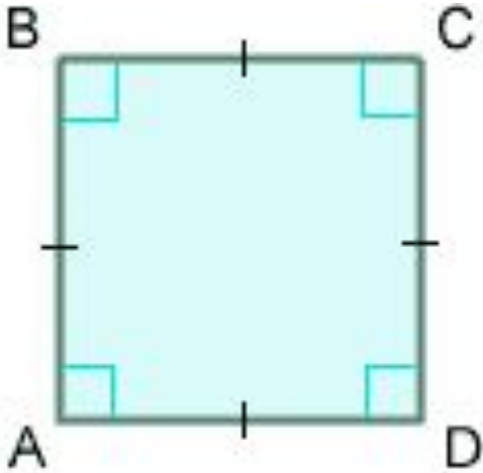
Диагонали ромба взаимно перпендикулярны и делят его углы пополам.



### Признаки ромба:

- 1) Если в параллелограмме диагонали являются биссектрисами углов, то этот параллелограмм - ромб.
- 2) Если в параллелограмме диагонали перпендикулярны, то этот параллелограмм - ромб.

# КВАДРАТ



Квадратом называется прямоугольник, у которого все стороны равны.

Квадратом называется ромб, у которого все углы прямые.

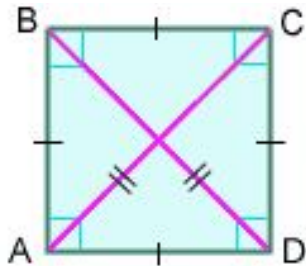
Свойства квадрата.



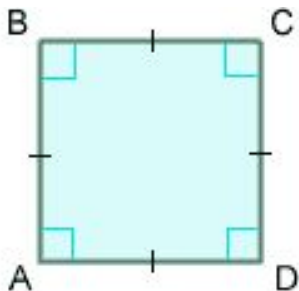
# Свойства квадрата.

## Прямоугольника:

- Диагонали квадрата равны.

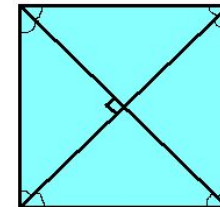


- Все углы прямые.



## Ромба:

- Диагонали квадрата взаимно перпендикулярны и делят углы пополам.



четырёхугольники

```
graph TD; A[четырёхугольники] --- B[параллелограмм]; A --- C[трапеция]; B --- D[прямоугольник]; B --- E[ромб]; D --- F[квадрат]
```

параллелограмм

трапеция

прямоугольник

ромб

квадрат