


# "ГЕОМЕТРИЯ"

ЧТО ЗНАЧИТ ЭТО  
«Гео»-земля  
СЛОВО?



«метрио»-меряю

Измеряю все что на Земле



# Из каких разделов состоит геометрия?

- **Планиметрия**

?

«плано»  
плоскость

- **Стереометрия**

?


«Stereos»  
Телесный,  
объемный,  
пространственный

# В чем отличие плоскостных фигур и пространственных тел?

## Что изучают эти разделы?

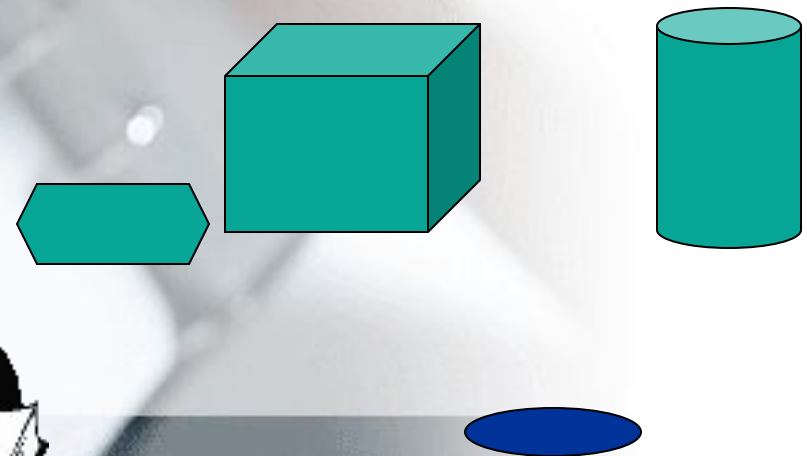
- планиметрия

**Плоскостные фигуры**  
Изучает фигуры на плоскости  
лежат в одной плоскости  
Какие имеют два измерения  
вы знаете?



- стереометрия

**Пространственные тела**  
Изучает фигуры в пространстве  
объемные  
и имеют три измерения  
Какие фигуры  
вы знаете?



# Машиностроении



# ОСНОВНЫЕ (простейшие) ФИГУРЫ



## Что это значит?

- **планиметрия**  
(на плоскости)

- **стереометрия**  
(в пространстве)

**Точка** ●


**Точка** ●

**Прямая**

**Прямая**

**Плоскость**

**Плоскость** представляет с собой  
геометрическую фигуру  
простирающуюся неограниченно по  
всем направлениям.



# ГЕОМЕТРИЯ

## ПЛАНИМЕТРИЯ

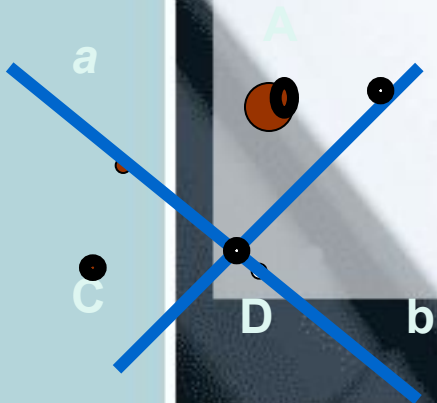
( это раздел геометрии, в котором изучаются свойства фигур на плоскости)

## СТЕРЕОМЕТРИЯ

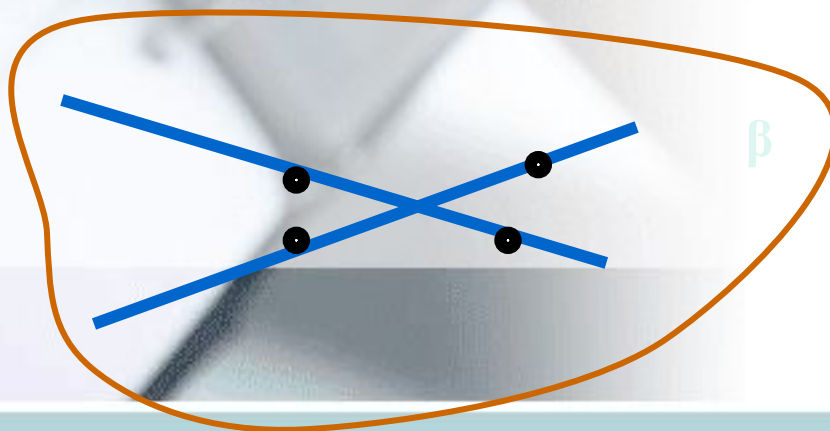
( это раздел геометрии, в котором изучаются свойства фигур в пространстве)

### Простейшие фигуры.

Точки, прямые

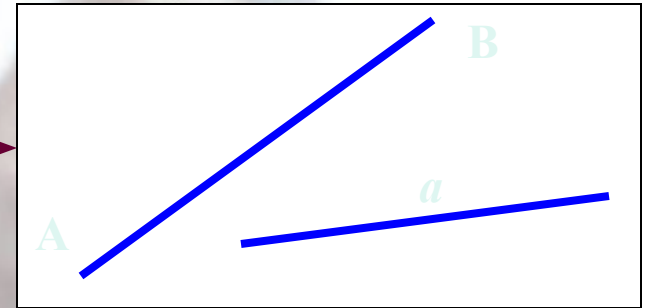


Точки, прямые  
И плоскости




# Символические обозначения


Прямая:  $a; b; c...$   
 $AB; BC; CD...$



Точка:  $A; B; C...$



Плоскость:  $\alpha; \beta; \gamma...$



# Обозначения

$\in$

Принадлежит, лежит

$\notin$

Не принадлежит, не лежит

$\boxtimes$

пересекается

$\subset$


содержится



# Прочти чертеж

$C$  •

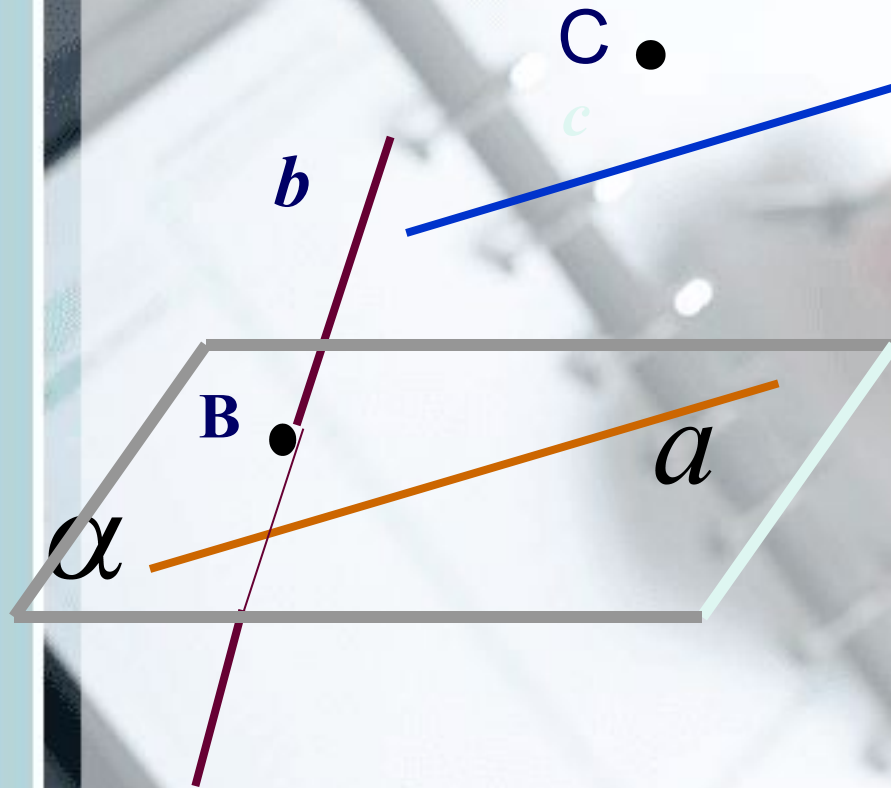
$A \in \alpha$



$C \notin \alpha$



# Прочти чертеж



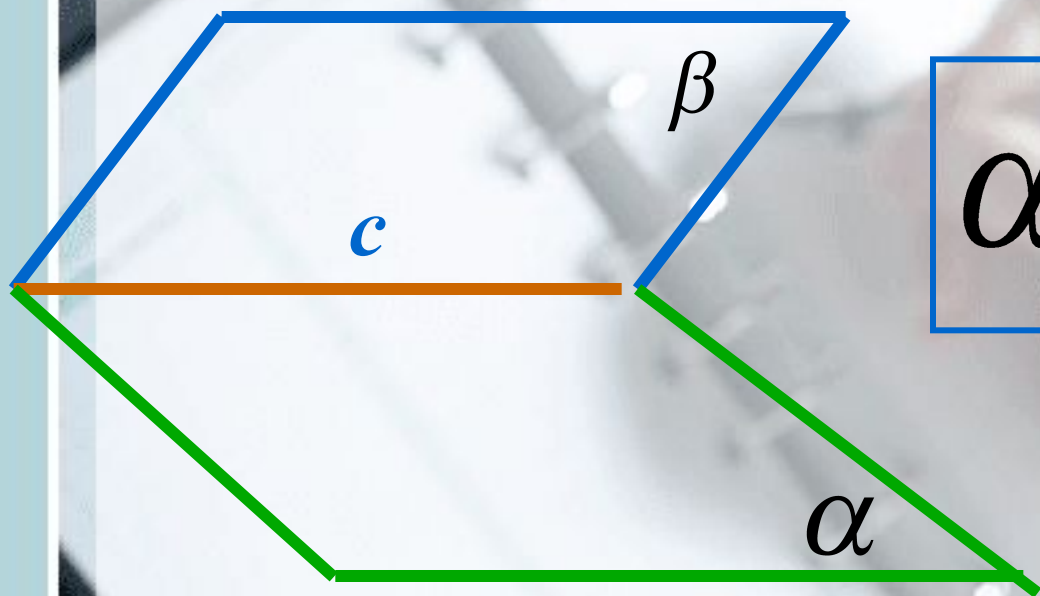
$$a \in \alpha$$

$$b \cap \alpha = B$$

$$C \notin \alpha$$



# Прочти чертеж



$$\alpha \cap \beta = c$$




# Основные фигуры в пространстве

Точка

• **A**

ПРОПИСНЫЕ  
ЛАТИНСКИЕ  
БУКВЫ A, B, C,  
D, E, K, ...

Прямая



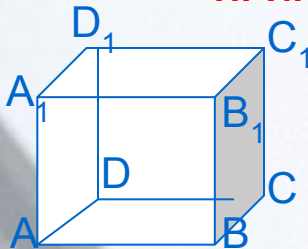
СТРОЧНЫЕ  
ЛАТИНСКИЕ  
БУКВЫ a, b, c, d,  
e, f, k, ...

Плоскость

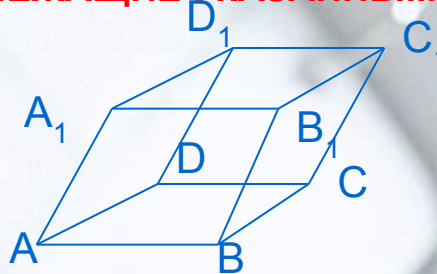


ГРЕЧЕСКИЕ БУКВЫ  
 $\alpha, \beta, \lambda, \gamma, \omega, \pi, \dots$

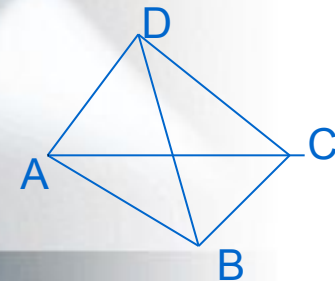
**ПРИВЕДИТЕ ПРИМЕРЫ ПРЯМЫХ, ПРОХОДЯЩИХ ЧЕРЕЗ ТОЧКИ,  
ПРИНАДЛЕЖАЩИЕ УКАЗАННЫМ МНОГОГРАННИКАМ:**



Куб



Параллелепипед



Тетраэдр

# Аксиома

*(от греч. “ахιότα” принимаемое  
без доказательства)*

**Исходное положение  
научной теории  
принимаемое без  
доказательства**

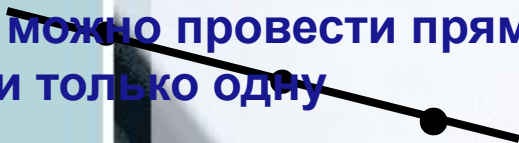
некоторые

# Аксиомы планиметрии



Какова бы ни была прямая.  
Существуют точки,  
Принадлежащие этой прямой,  
и точки, не принадлежащие ей

Через любые две точки  
можно провести прямую  
и только одну

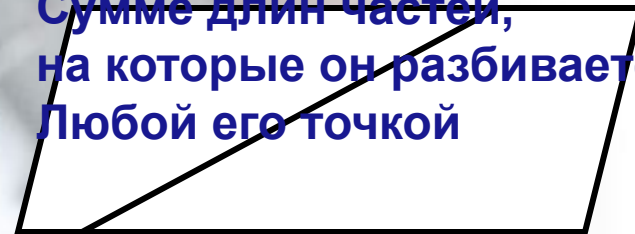


Из трех точек прямой  
Одна и только одна  
Лежит между двумя  
другими




Каждый отрезок имеет  
Определенную длину,  
большую нуля

Длина отрезка равна  
Сумме длин частей,  
на которые он разбивается  
Любой его точкой



Прямая, принадлежащая плоскости,  
Разбивает эту плоскость  
На две полуплоскости

# Аксиома

 $A_1$ 

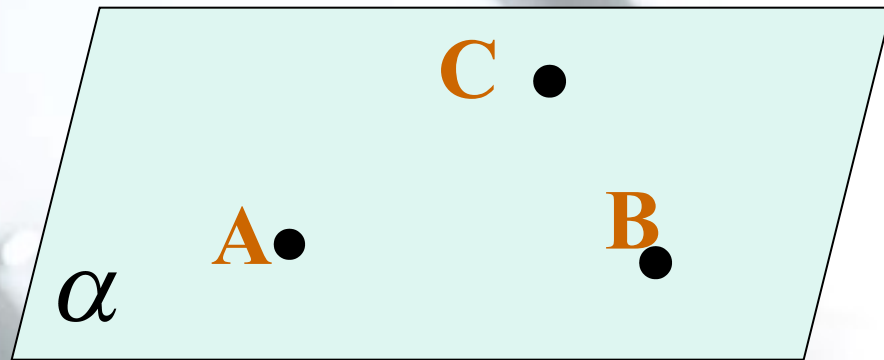
$$A \in \alpha$$

$$C \notin \alpha$$


Какова бы ни была плоскость,  
существуют точки,  
принадлежащие этой плоскости,  
и точки, не принадлежащие ей



$A_1$



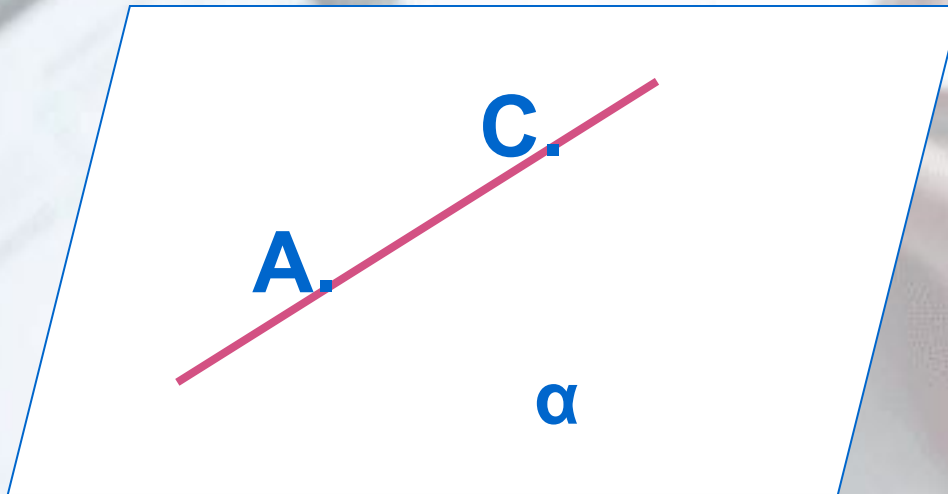
**$A_1$ . Через любые три точки,  
не лежащие на одной прямой,  
проходит плоскость,  
и притом только одна**





## АКСИОМА 2

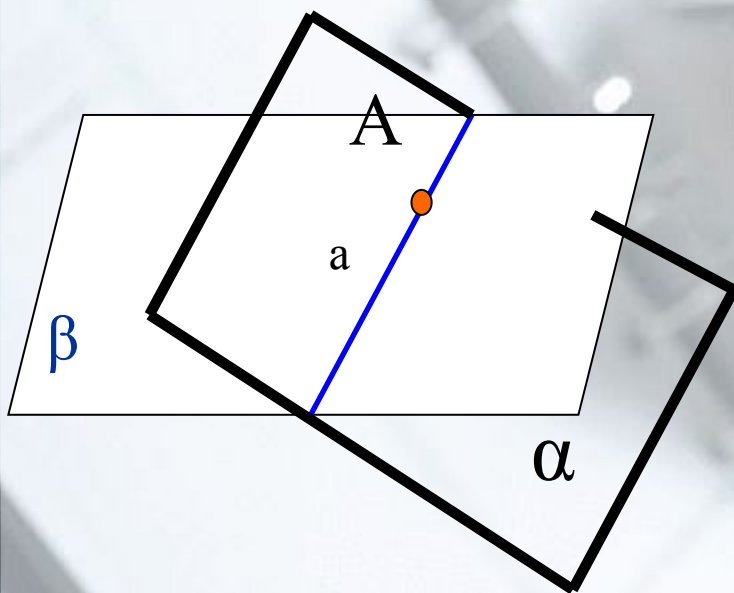
$A_2$



*Если две точки прямой принадлежат плоскости, то и вся прямая принадлежит этой плоскости*

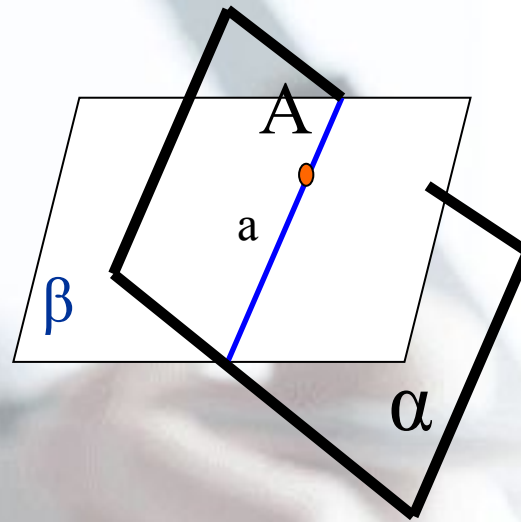
## Аксиома 3

$A_3$



Если две плоскости имеют общую точку, то они имеют прямую, на которой лежат все общие точки этих плоскостей.


$A_3$



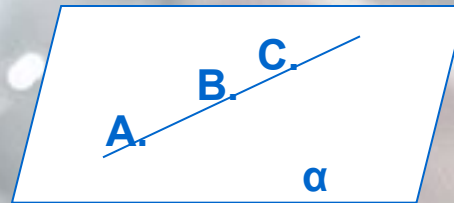
- Точка, лежащая на **линии пересечения** двух плоскостей, лежит **на каждой из этих плоскостей**
- Точка, лежащая **на двух** каких-нибудь **плоскостях**, лежит **на линии** пересечения этих плоскостей

# Аксиомы стереометрии

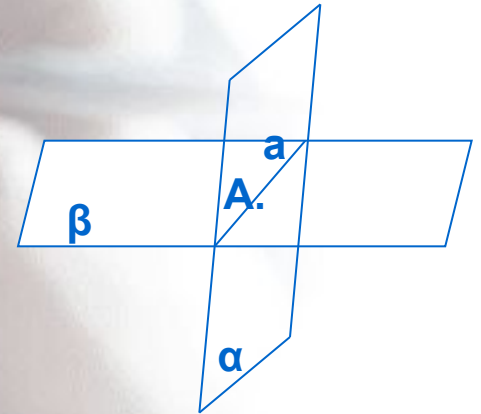
Сформулируйте аксиомы А1, А2, А3.  
Прокомментируйте их с помощью  
приведенных рисунков.



А, В, С – произвольные точки,  
не лежащие на одной  
прямой.  
Через точки А, В, С  
проходит  
единственная плоскость  $\alpha$ .

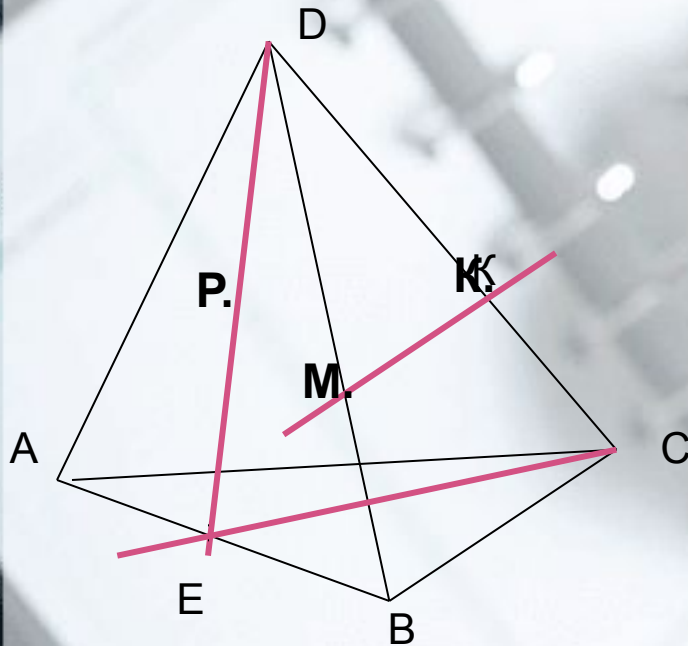


$$\begin{array}{l} A \in \alpha, B \in \alpha, \\ C \in AB \\ \hline C \in \alpha \end{array}$$



$$\begin{array}{l} A \in \alpha, A \in \beta \\ \alpha \cap \beta = a, A \in a \end{array}$$

### Задача 1.



По рисунку назовите:

а) плоскости, в которых лежат прямые

$PE$ ,  $MK$ ,  $DB$ ,  $AB$ ,  $EC$ ;

б) точки пересечения прямой  $DK$   
с плоскостью  $ABC$ ,

прямой  $CE$  с плоскостью  $ADB$ ;

в) точки, лежащие в плоскостях  
 $ADB$  и  $DBC$ ;

г) прямые, по которым  
пересекаются плоскости  $ABC$  и  $DBC$ ,

$ABD$  и  $CDA$ ,  $PDC$  и  $ABC$ .

### Решение

а)  $PE \subset ADB, MK \subset DBC, \dots$

б)  $DK \cap ABC = C, \dots$

в)  $ABC \cap DCB = BC, \dots$

# Литература

- <http://www.photosight.ru>
- <http://www.college.ru/mathematics/courses/.html>
- Учебник. Геометрия для 10-11 классов общеобразовательных учреждений. Москва «Просвещение» 7-е издание 1999 г. Авторы. Л. С. Атанасян, В. Ф. Бутузов, С. Б. Кадомцев, Л. С. Киселева, Э. Г. Поздняк.
- Книга для учителя. С. М. Саакян, В. Ф. Бутузов. Изучение геометрии в 10-11 классе. Методические рекомендации к учебнику. Москва «Просвещение» 2001 г.