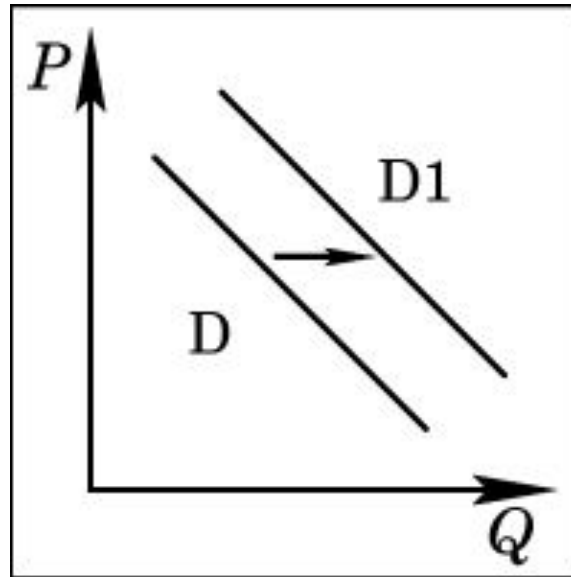


ЭКОНОМИКА

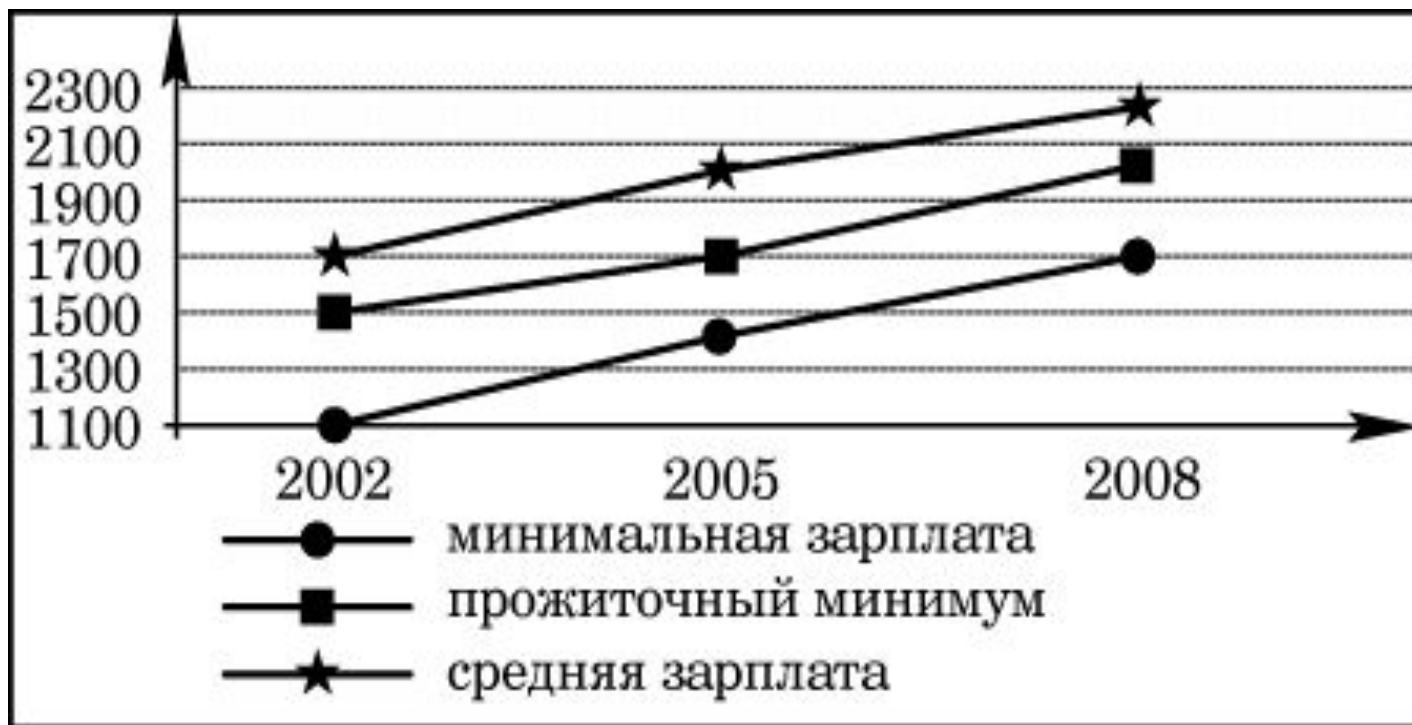
графики

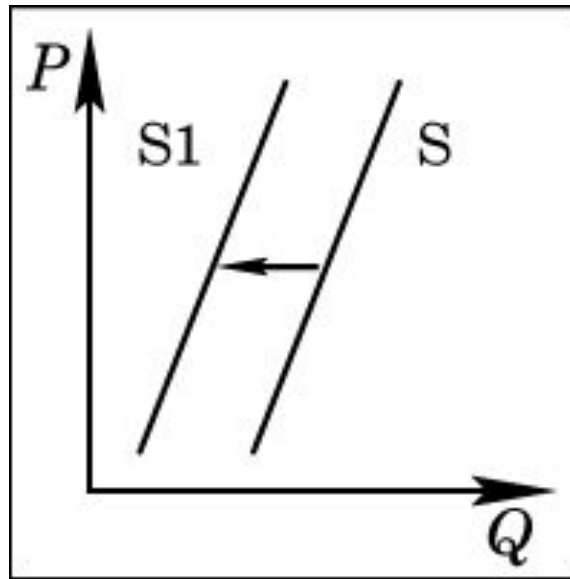


На рисунке отражена ситуация на рынке товаров для активного отдыха: линия спроса D переместилась в новое положение $D1$ (P – цена товара, Q – количество товара). Это перемещение может быть связано, прежде всего, с (со)

- 1) наступлением сезона отпусков
- 2) повышением цен на товары для отдыха
- 3) снижением доходов потребителей
- 4) уменьшением числа туристических фирм

На приведенном ниже графике представлены данные об отношении средней и минимальной зарплаты в стране Z к прожиточному минимуму в 2002–2008 гг. Сделайте выводы о соотношении а) минимальной зарплаты с прожиточным минимумом; б) средней зарплаты с прожиточным минимумом в 2002–2008 гг. Объясните, чем опасна сложившаяся в стране Z социально-экономическая ситуация.





На рисунке отражена ситуация на рынке зерна: линия предложения **S** переместилась в новое положение **S1** (**P** – цена товара, **Q** – количество товара).

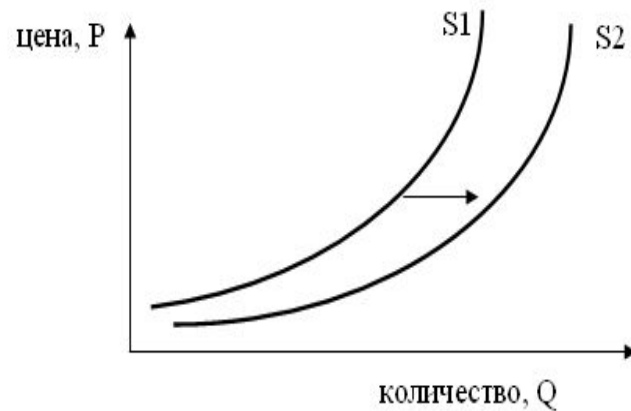
Это перемещение может быть связано, прежде всего, с (со)
1) предоставлением производителям зерна налоговых льгот

2) снижением цен на топливо и удобрения

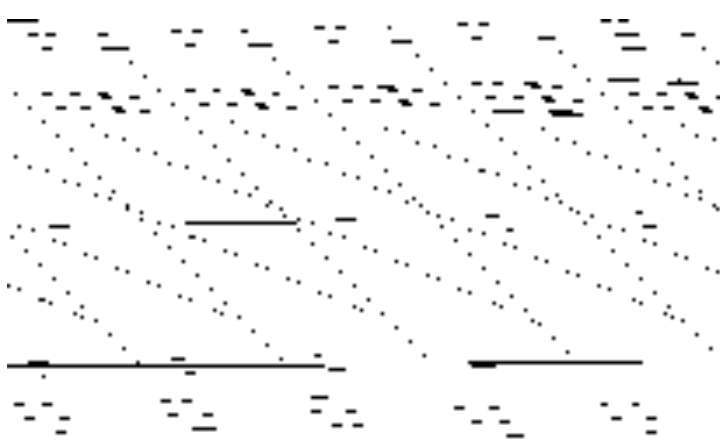
3) ростом числа хлебопекарных и кондитерских предприятий

4) ожиданиями низкого урожая зерна

На графике изображено изменение предложения роликовых коньков на потребительском рынке. Что из приведённого ниже могло вызвать сдвиг кривой предложения из положения $S1$ в положение $S2$? (На графике по вертикали – цена товара, по горизонтали – количество товара.)



- 1) сокращение количества фирм, производящих роликовые коньки
- 2) внедрение новых технологий производства роликовых коньков
- 3) рост цен на комплектующие изделия для роликовых коньков
- 4) рост тарифов на электроэнергию

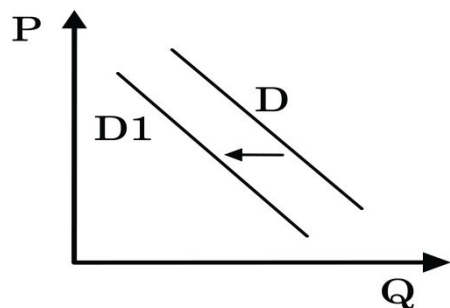


На рисунке отражена ситуация на рынке страховых услуг (P – цена, Q – количество). Проанализируйте изменение спроса (линия спроса D переместилась в положение D1).

Чем может объясняться подобное изменение?

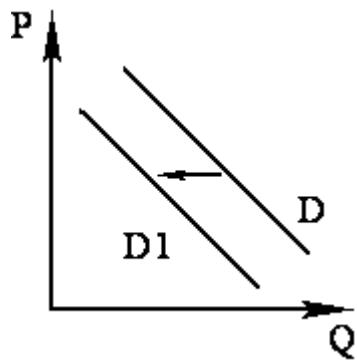
- 1) снижением выплат после наступления страховых случаев
- 2) повышением доходов потребителей
- 3) увеличением числа страховых компаний
- 4) введением обязательного страхования автогражданской ответственности

- На графике отражена ситуация на рынке парикмахерских услуг: линия спроса D переместилась в новое положение – $D1$ (P – цена услуг, Q – количество услуг).
- Это перемещение может быть связано, прежде всего, с



- 1) увеличением количества салонов красоты
- 2) модой на сложные причёски у женщин
- 3) появлением в продаже эффективных средств для самостоятельного ухода за волосами
- 4) увеличением доходности салонов красоты

На графике отражена ситуация на рынке мяса и мясных продуктов: линия спроса D переместилась в новое положение – $D1$ (P – цена товара, Q – количество товара). Это перемещение может быть связано, прежде всего, с (со)



1) снижением налогов с производителей мясных продуктов

2) известием об эпидемическом заболевании животных

3) увеличением доходов потребителей

4) ростом числа производителей мясных продуктов

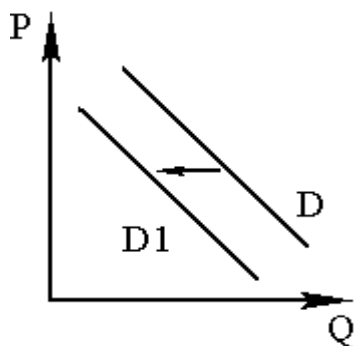
На графике отражена ситуация на рынке мяса и мясных продуктов: линия спроса D переместилась в новое положение – $D1$ (P – цена товара, Q – количество товара). Это перемещение связано с

1) снижением налогов с производителей мясных продуктов

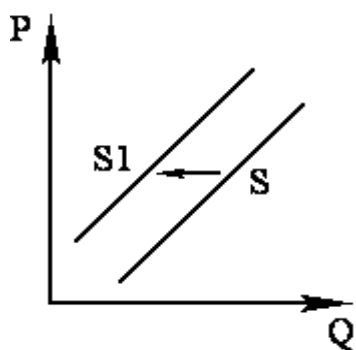
2) распространением вегетарианства среди потребителей

3) увеличением доходов потребителей

4) ростом числа производителей мясных продуктов



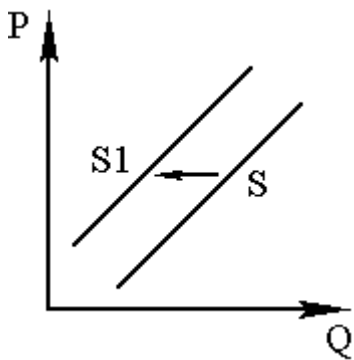
На графике отражена ситуация на рынке кондитерских изделий: линия предложения S переместилась в новое положение – $S1$ (P – цена товара, Q – количество товара). Это перемещение может быть связано, прежде всего, с



- 1) низкими ценами на сахар и какао-бобы
- 2) выдачей льготных кредитов кондитерским предприятиям
- 3) увеличением доходов потребителей
- 4) пропагандой продуктов с низким содержанием сахара

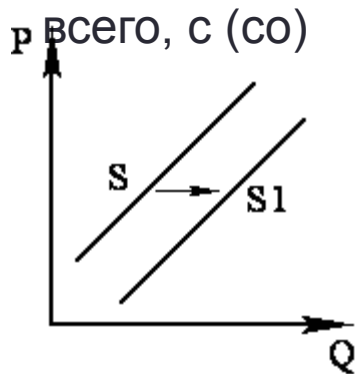
- На графике отражено изменение предложения школьно-письменных принадлежностей на соответствующем рынке: линия предложения S переместилась в новое положение – $S1$ (P – цена товара, Q – количество товара).

Это перемещение может быть связано в первую очередь со (с)



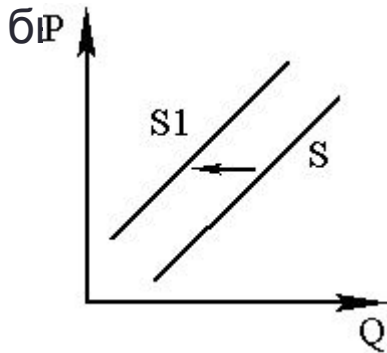
- 1) ростом общего числа школьников
- 2) увеличением числа предприятий в отрасли
- 3) завершением учебного года
- 4) снижением стоимости используемого сырья

На графике отражена ситуация на рынке экзотических фруктов: линия предложения S переместилась в новое положение – $S1$ (P – цена товара, Q – количество товара). Это перемещение может быть связано, прежде



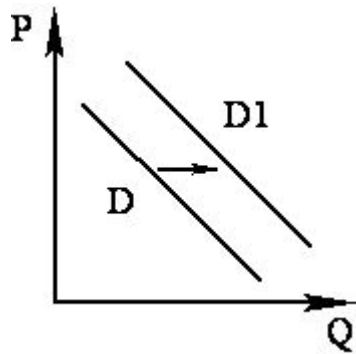
- 1) ростом таможенных пошлин на импорт фруктов
- 2) высоким урожаем экзотических фруктов
- 3) повышением тарифов на грузовые перевозки
- 4) снижением доходов потребителей

- На графике отражена ситуация на рынке импортных экзотических фруктов: линия предложения S переместилась в новое положение – S_1 (P – цена товара, Q – количество товара). Это перемещение может
быть всего, с



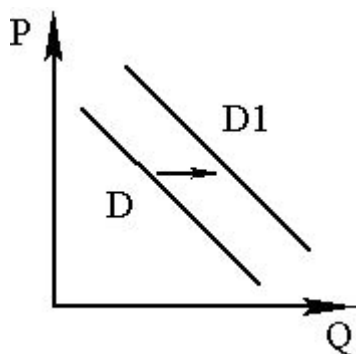
- 1) ростом таможенных пошлин на импорт фруктов
- 2) высоким урожаем экзотических фруктов
- 3) неурожаем местных фруктов и ягод
- 4) возникновением моды на потребление блюд из экзотических фруктов

- На рисунке отражена ситуация на рынке инвентаря для зимних видов спорта: линия спроса D переместилась в новое положение – $D1$ (P – цена товара, Q – объём спроса товара). Это перемещение может быть связано, прежде всего, с (со)



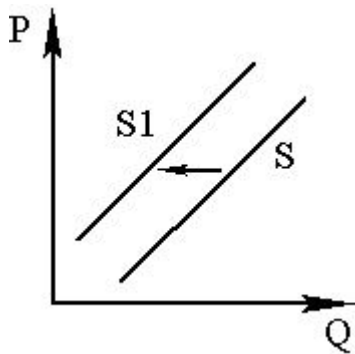
- 1) снижением доходов населения
- 2) популяризацией зимних видов спорта
- 3) развитием сети фитнес-клубов
- 4) затяжной оттепелью в зимний период

На рисунке отражена ситуация на рынке услуг мобильной связи (P – цена, Q – количество услуг). Ряд компаний-операторов предложили потребителям новую услугу. Проанализируйте изменение спроса на неё (линия спроса D переместилась в положение $D1$). Какой из приведённых ниже выводов непосредственно следует из данных графиков?



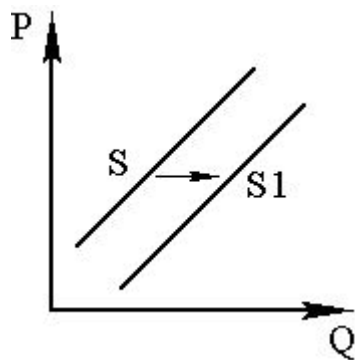
- 1) Компании-операторы неверно установили цену услуги, это отпугнуло потребителей.
- 2) Потребители оценили полезность новой услуги.
- 3) Компании-операторы не смогли обеспечить высокое качество предлагаемой услуги.
- 4) Доходы населения существенно сократились.

- На рисунке отражена ситуация на рынке парикмахерских услуг (P – цена, Q – количество). Проанализируйте изменение предложения (линия предложения S переместилась в положение $S1$). Чем может быть объяснено подобное изменение?



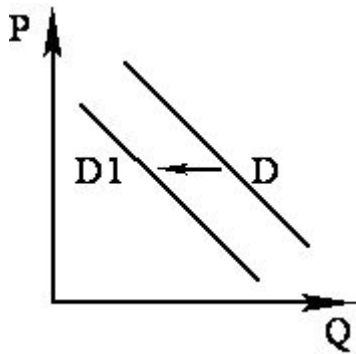
- 1) В моду у женщин вошли сложные причёски и макияж.
- 2) Реклама парикмахерских услуг стала более интенсивной.
- 3) В стране установилась неблагоприятная экономическая ситуация.
- 4) Количество парикмахерских салонов увеличилось.

- На графике отражена ситуация на рынке мебели для дома: линия предложения S переместилась в новое положение – $S1$ (P – цена товара, Q – количество товара). Это перемещение может быть связано, прежде всего, с (со)



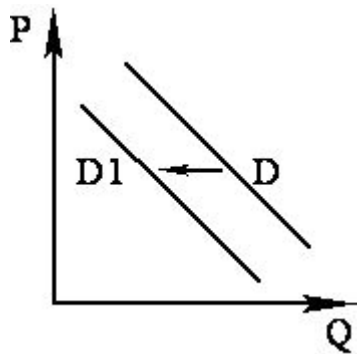
- 1) применением технологий, удешевляющих производство мебели
- 2) дефицитом дерева для производства мебели
- 3) снижением доходов потребителей
- 4) закрытием мелких фирм – производителей мебели

- На рисунке отражена ситуация на рынке товаров для детей: линия спроса D переместилась в новое положение – $D1$ (P – цена товара, Q – объём спроса товара). Это перемещение может быть связано, прежде всего, с (со)



- 1) снижением рождаемости
- 2) ростом доходов населения
- 3) реализацией программ поддержки семьи
- 4) снижением цен на товары для детей

- На рисунке отражена ситуация на рынке стационарных компьютеров: линия спроса D переместилась в новое положение – $D1$ (P – цена товара, Q – количество товара). Это перемещение может быть связано, прежде всего, с



- 1) широким распространением ноутбуков
- 2) ростом доходов населения
- 3) высоким уровнем компьютеризации
- 4) разработкой новых компьютерных программ