


тест Сніговик




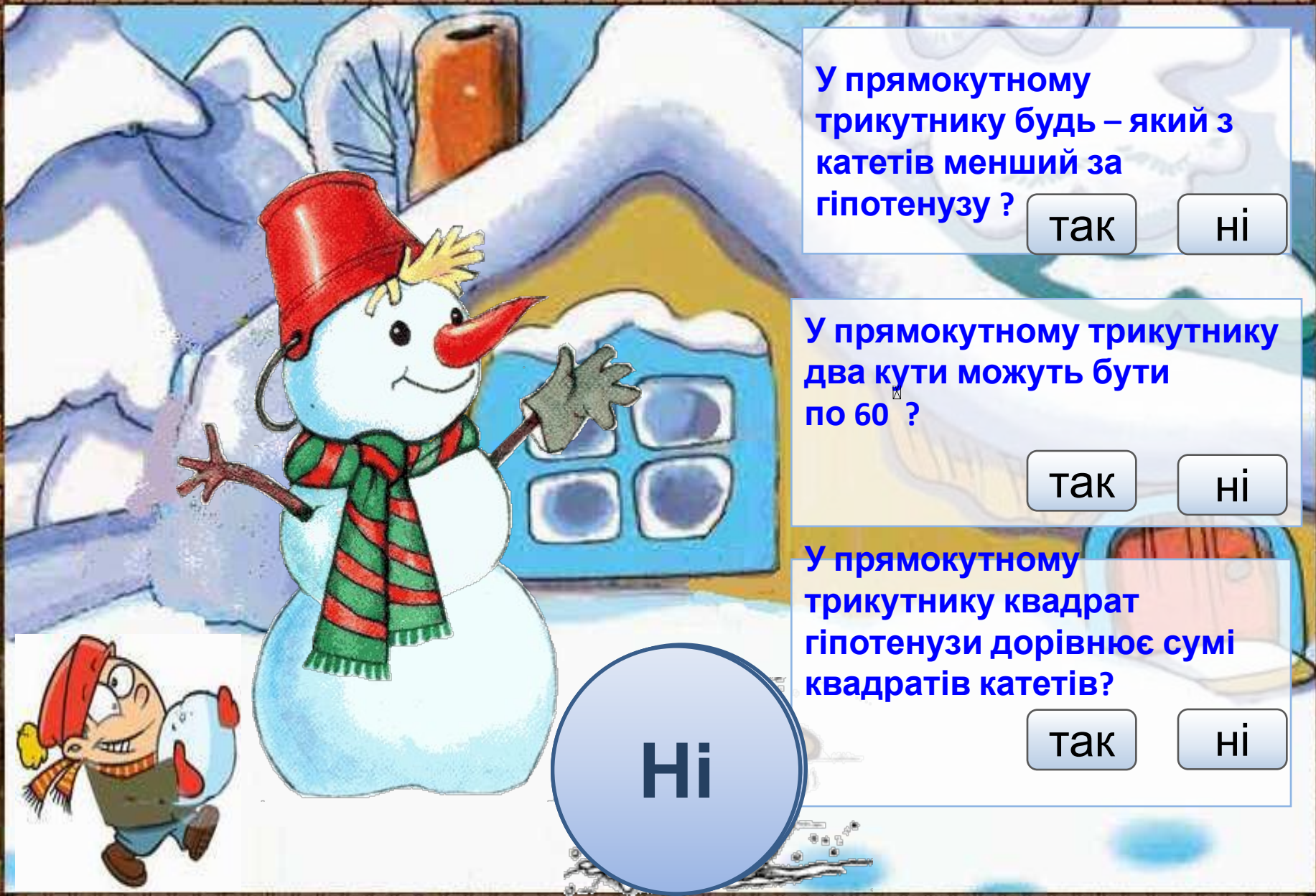
Геометрія 8

Тема: “Теорема
Піфагора”

Вчитель математики
Скадовської ЗОШ
Терещенко Г.К.

Вибери правильну відповідь і зліпи сніговика





У прямокутному трикутнику будь – який з катетів менший за гіпотенузу ?

так

ні

У прямокутному трикутнику два кути можуть бути по 60° ?

так

ні

У прямокутному трикутнику квадрат гіпотенузи дорівнює сумі квадратів катетів?

так

ні

Ні



Якщо катети прямокутного трикутника 3см і 5см, то гіпотенуза 8см?

ні

так

Якщо сторони прямокутника 6см і 8см, то його діагональ становить 10см?

ні

так

Якщо катет 10см, а його проекція на гіпотенузу 8см, тоді гіпотенуза 12,5 см?

ні

так

Ні



Чи можна з точки поза прямою провести до неї три похилі однакової довжини?

так

ні

Чи менші від перпендикуляра похилі, якщо вони проведені з однієї точки до прямої?

так

ні

Чи правда, що з двох похилих більша та, у якої проекція більша?

так

ні

Ні

Вибери правильну відповідь і зліпи сніговика



Якщо похила 10см, її проекція 6см, то чи буде довжина перпендикуляра 4см?

так

ні

Якщо діагональ квадрата $5\sqrt{2}$, то периметр квадрата буде становити 20 ?

так

ні

Якщо сторона ромба 17см, а одна з діагоналей – 30см. То друга діагональ 64см?

так

ні

Ні

Молодці! Підрахуйте бали.



Молодці! Підрахуйте бали.



Молодці! Підрахуйте бали.



Молодці! Підрахуйте бали.

