

Многоугольники

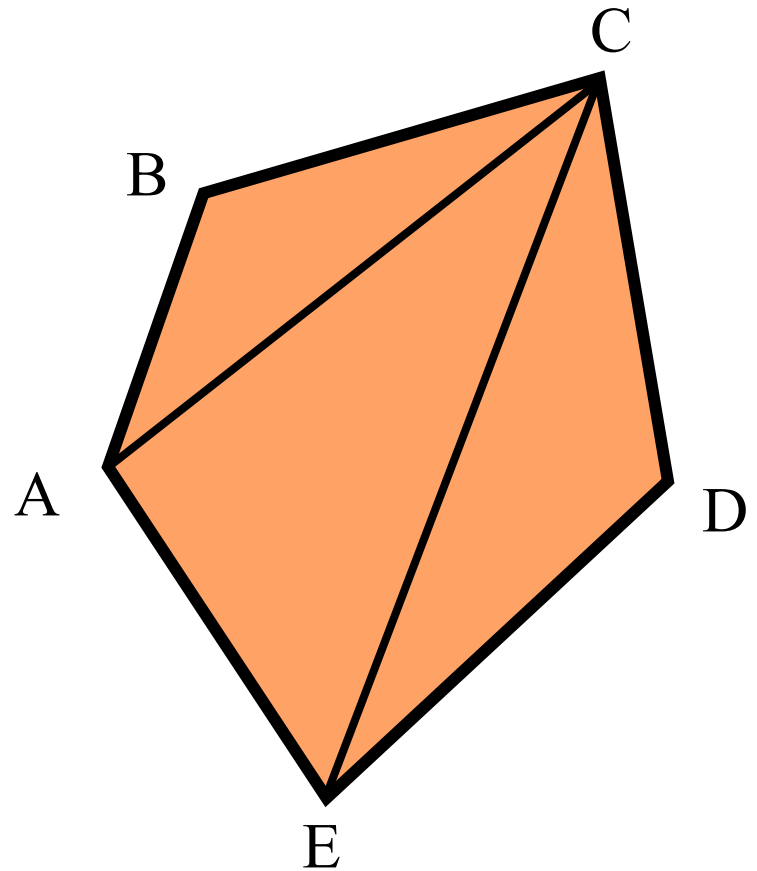


Задания для устного счета
Упражнение **1**

8 класс

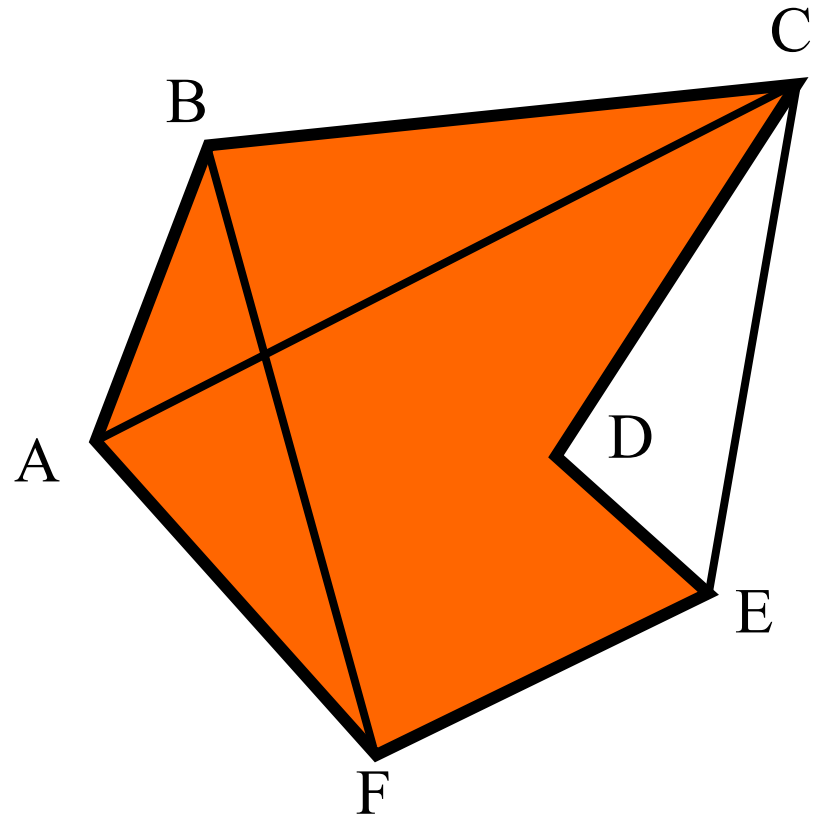
Ответьте на вопросы:

- Как называется фигура ABCDE ?
- Сколько сторон у многоугольника? Назовите их.
- Сколько вершин у многоугольника? Назовите их.
- Сколько углов у многоугольника? Назовите их.
- Выпуклый или невыпуклый данный многоугольник?
- Чему равна сумма углов этого многоугольника?
- Как называются отрезки AC, CE?



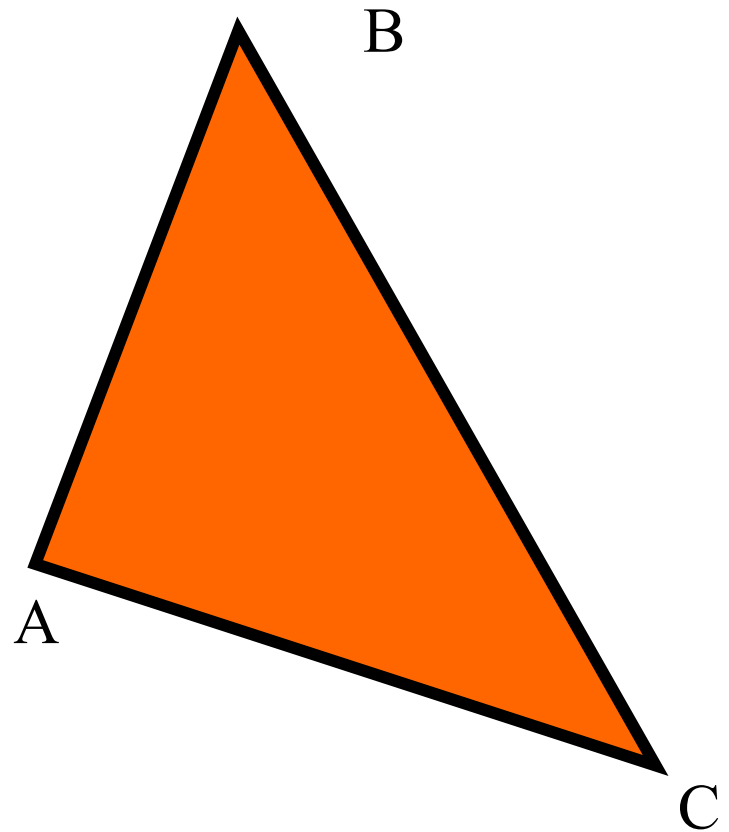
Ответьте на вопросы:

- Как называется фигура ABCDEF ?
- Сколько сторон у многоугольника? Назовите их.
- Сколько вершин у многоугольника? Назовите их.
- Сколько углов у многоугольника? Назовите их.
- Выпуклый или невыпуклый данный многоугольник?
- Как называются отрезки AC, BF, CE ?



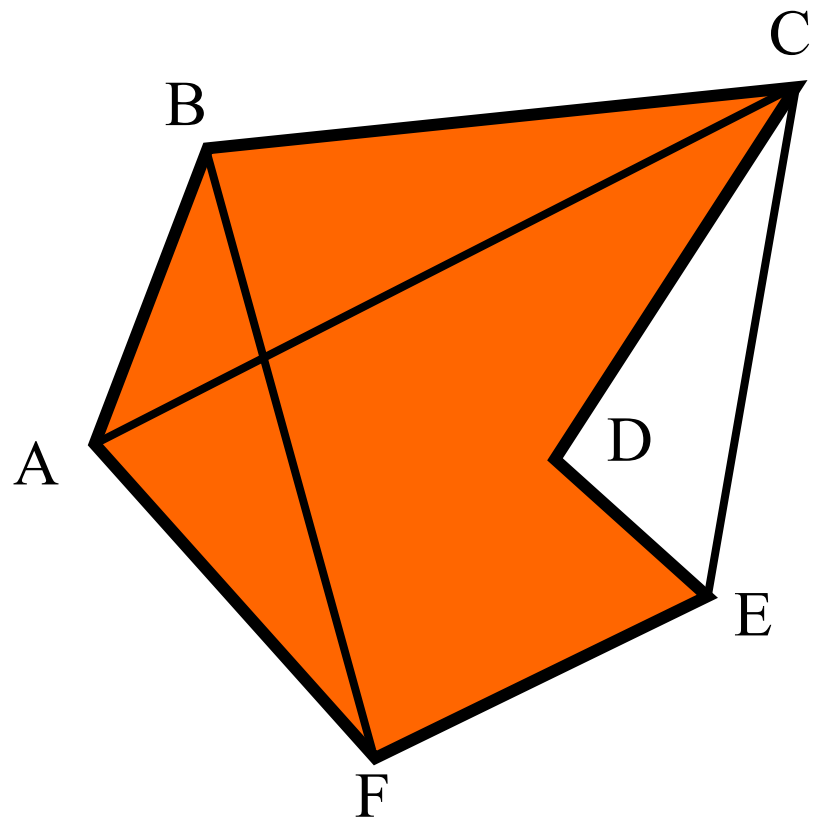
Ответьте на вопросы:

- Как называется фигура ABC ?
- Сколько сторон у треугольника? Назовите их.
- Сколько вершин у треугольника? Назовите их.
- Сколько углов у треугольника? Назовите их.
- Назовите вид треугольника.
- Чему равна сумма углов этого треугольника?



Ответьте на вопросы:

- Как называется фигура ABCDEF ?
- Сколько сторон у многоугольника? Назовите их.
- Сколько вершин у многоугольника? Назовите их.
- Сколько углов у многоугольника? Назовите их.
- Выпуклый или невыпуклый данный многоугольник?
- Как называются отрезки AC, BF, CE ?



Ответьте на вопросы:

- Как называется фигура ABCD ?
- Сколько сторон у четырехугольника? Назовите их.
- Сколько вершин у четырехугольника? Назовите их.
- Сколько углов у четырехугольника? Назовите их.
- Выпуклый или невыпуклый данный многоугольник?
- Чему равна сумма углов этого четырехугольника?
- Как называются отрезки AC, BD ?

